

# TCSiON CAE

## Notations :

- 1.Options shown in green color and with ✓ icon are correct.
- 2.Options shown in red color and with ✗ icon are incorrect.

<b>Question Paper Name :</b>	Paper I GS and MA AEE 21st August 2023 Shift2
<b>Subject Name :</b>	Paper I GS and MA AEE
<b>Actual Answer Key :</b>	Yes
<b>Calculator :</b>	None
<b>Magnifying Glass Required? :</b>	No
<b>Ruler Required? :</b>	No
<b>Eraser Required? :</b>	No
<b>Scratch Pad Required? :</b>	No
<b>Rough Sketch/Notepad Required? :</b>	No
<b>Protractor Required? :</b>	No
<b>Show Watermark on Console? :</b>	Yes
<b>Highlighter :</b>	No
<b>Auto Save on Console?</b>	Yes
<b>Change Font Color :</b>	No
<b>Change Background Color :</b>	No
<b>Change Theme :</b>	No
<b>Help Button :</b>	No
<b>Show Reports :</b>	No
<b>Show Progress Bar :</b>	No
<b>Is this Group for Examiner? :</b>	No
<b>Examiner permission :</b>	Cant View
<b>Show Progress Bar? :</b>	No

## Paper I GS and MA AEE

Section type :	Online
Enable Mark as Answered Mark for Review and Clear Response :	Yes
Maximum Instruction Time :	0
Is Section Default? :	null

**Question Number : 1 Question Id : 630680317904 Is Question Mandatory : No Calculator : None Response Time : N.A Think Time : N.A Minimum Instruction Time : 0**

**Correct Marks : 1 Wrong Marks : 0.33**

What is the name of the technology released in April 2023 by Russia's Sberbank to compete with ChatGPT in the artificial intelligence chatbot race?

**Options :**

1. ✘ MetaChat
2. ✔ GigaChat
3. ✘ MegaChat
4. ✘ ByteChat

**Question Number : 1 Question Id : 630680317904 Is Question Mandatory : No Calculator : None Response Time : N.A Think Time : N.A Minimum Instruction Time : 0**

**Correct Marks : 1 Wrong Marks : 0.33**

ఆర్టిఫిషియల్ ఇంటెలిజెన్స్ చాట్బాట్ పోటీలో ChatGPTతో పోటీ పడేందుకు రష్యాకు చెందిన ఎస్బిఇఆర్ బ్యాంక్ ఏప్రిల్ 2023లో విడుదల చేసిన సాంకేతికత పేరు ఏమిటి?

**Options :**

1. ✘ మెటాచాట్
2. ✔ గిగాచాట్
3. ✘ మెగాచాట్
4. ✘ బైట్చాట్

**Question Number : 2 Question Id : 630680317905 Is Question Mandatory : No Calculator : None Response Time : N.A Think Time : N.A Minimum Instruction Time : 0**

**Correct Marks : 1 Wrong Marks : 0.33**

In June 2023, which of the following organisation selected Gazipur-Elenga (N4) and Natore-Nawabganj (N6) highways for the implementation of

the project dedicated to road safety in South Asia with a USD 358 million financing agreement signed in Dhaka with the government of Bangladesh?

**Options :**

1. ✖ International Monetary Fund
2. ✖ World Tourism Organization
3. ✖ United Nations
4. ✔ World Bank

**Question Number : 2 Question Id : 630680317905 Is Question Mandatory : No Calculator : None Response Time : N.A Think Time : N.A Minimum Instruction Time : 0**

**Correct Marks : 1 Wrong Marks : 0.33**

జూన్ 2023లో, బంగ్లాదేశ్ ప్రభుత్వంతో ఢాకాలో సంతకం చేసిన USD 358 మిలియన్ ఫైనాన్సింగ్ ఒప్పందంతో దక్షిణాసియాలో రహదారి భద్రతకు ప్రత్యేకించబడిన ప్రాజెక్ట్ అమలు కోసం గాజీపూర్- ఎలెంగా (N4) మరియు నాటోర్ -నవాబ్ గంజ్ (N6) రహదారులను ఎంపిక చేసిన సంస్థ ఏది?

**Options :**

1. ✖ అంతర్జాతీయ ద్రవ్య నిధి
2. ✖ ప్రపంచ పర్యాటక సంస్థ
3. ✖ ఐక్యరాజ్యసమితి
4. ✔ ప్రపంచ బ్యాంకు

**Question Number : 3 Question Id : 630680317906 Is Question Mandatory : No Calculator : None Response Time : N.A Think Time : N.A Minimum Instruction Time : 0**

**Correct Marks : 1 Wrong Marks : 0.33**

మే 2023లో, 100-సీట్లు కలిగిన సైమా(Saeima) శాసనసభ నాలుగు సంవత్సరాల పదవీకాలానికి \_\_\_\_\_ ని అధ్యక్షుడిగా ఎన్నుకుంది.

**Options :**

1. ✖ ఆల్ఫ్రెడ్స్ క్వీసిస్
2. ✔ ఎథర్స్ రింకెవిక్స్
3. ✖ గుంటిస్ ఉల్మానిస్
4. ✖ గుస్తావ్ జెమ్హాల్స్

**Question Number : 3 Question Id : 630680317906 Is Question Mandatory : No Calculator : None Response Time : N.A Think Time : N.A Minimum Instruction Time : 0**

**Correct Marks : 1 Wrong Marks : 0.33**

In May 2023, the 100-seat Saeima legislature elected \_\_\_\_\_ as President to serve for a four-year term.

**Options :**

1. ✘ Alberts Kviesis
2. ✔ Edgars Rinkevics
3. ✘ Guntis Ulmanis
4. ✘ Gustavs Zemgals

**Question Number : 4 Question Id : 630680317907 Is Question Mandatory : No Calculator : None Response Time : N.A Think Time : N.A Minimum Instruction Time : 0**

**Correct Marks : 1 Wrong Marks : 0.33**

In April 2023, Daniil Medvedev beat Italy's Jannik Sinner 7-5 6-3 to win the Miami Open for his fourth title of the year and \_\_\_\_\_ overall.

**Options :**

1. ✘ 10th
2. ✘ 16th
3. ✔ 19th
4. ✘ 23rd

**Question Number : 4 Question Id : 630680317907 Is Question Mandatory : No Calculator : None Response Time : N.A Think Time : N.A Minimum Instruction Time : 0**

**Correct Marks : 1 Wrong Marks : 0.33**

ఏప్రిల్ 2023లో, డేనియల్ మెద్వెదేవ్ ఇటలీకి చెందిన జానిక్ సిన్నర్ను 7-5 6-3 తేడాతో ఓడించి మయామి ఓపెన్ని, అలాగే ఆ సంవత్సరంలో తన నాల్గవ ఫైటిల్ను గెలుచుకున్నాడు మరియు మొత్తంగా అతడికి ఇది \_\_\_\_\_ వ ఫైటిల్.

**Options :**

1. ✘ 10
2. ✘ 16
3. ✔ 19
4. ✘ 23

**Question Number : 5 Question Id : 630680317908 Is Question Mandatory : No Calculator : None Response Time : N.A Think Time : N.A Minimum Instruction Time : 0**

**Correct Marks : 1 Wrong Marks : 0.33**



లారెస్ వరల్డ్ స్పోర్ట్స్ అవార్డ్స్ 2023 విజేతలను వారు పొందిన అవార్డు వర్గంతో జతచేయండి.

జాబితా A విజేత పేరు	జాబితా B అవార్డు వర్గం
I. వరల్డ్ యాక్షన్ స్పోర్ట్స్ పర్సన్ ఆఫ్ ది ఇయర్ అవార్డు	a) కేథరీన్ డెబ్రన్నర్
II. వరల్డ్ బ్రేక్ త్రూ ఆఫ్ ది ఇయర్ అవార్డు	b) ఎలీస్ గు
III. వరల్డ్ స్పోర్ట్స్ పర్సన్ ఆఫ్ ది ఇయర్ విత్ ఏ డిసేబిలిటీ అవార్డు	c) కార్లీస్ అల్కరాజ్
IV. వరల్డ్ కమ్ బ్యాక్ ఆఫ్ ది ఇయర్ అవార్డు	d) క్రిస్టియన్ ఎరిక్సన్

Options :

1. ✘ I-a, II-b, III-d, IV-c
2. ✘ I-b, II-a, III-c, IV-d
3. ✘ I-a, II-c, III-d, IV-b
4. ✔ I-b, II-c, III-a, IV-d

Question Number : 5 Question Id : 630680317908 Is Question Mandatory : No Calculator : None Response Time : N.A Think Time : N.A  
Minimum Instruction Time : 0

Correct Marks : 1 Wrong Marks : 0.33

Match the winners of Laureus World Sports Awards 2023 with the Award category.

<p style="text-align: center;"><b>LIST A</b></p> <p style="text-align: center;"><b>WINNER NAME</b></p>	<p style="text-align: center;"><b>LIST B</b></p> <p style="text-align: center;"><b>AWARD CATEGORY</b></p>
<p>I. World Action Sports person of the Year Award</p>	<p>a) Catherine Debrunner</p>
<p>II. World Breakthrough of the Year Award</p>	<p>b) Eileen Gu</p>
<p>III. World Sports person of the Year with a disability Award</p>	<p>c) Carlos Alcaraz</p>
<p>IV. World Comeback of the Year Award</p>	<p>d) Christian Eriksen</p>

**Options :**

1. ✘ I-a, II-b, III-d, IV-c
2. ✘ I-b, II-a, III-c, IV-d
3. ✘ I-a, II-c, III-d, IV-b
4. ✔ I-b, II-c, III-a, IV-d

**Question Number : 6 Question Id : 630680317909 Is Question Mandatory : No Calculator : None Response Time : N.A Think Time : N.A Minimum Instruction Time : 0**

**Correct Marks : 1 Wrong Marks : 0.33**

In its latest attempt to lay claim to areas inside the Indian territory, the Chinese government in April 2023 announced it would 'standardise' the names of \_\_\_\_\_ places in Arunachal Pradesh.

**Options :**

1. ✖ 7
2. ✖ 9
3. ✔ 11
4. ✖ 15

**Question Number : 6 Question Id : 630680317909 Is Question Mandatory : No Calculator : None Response Time : N.A Think Time : N.A Minimum Instruction Time : 0**

**Correct Marks : 1 Wrong Marks : 0.33**

భారత భూభాగంలోని ప్రాంతాలపై పట్టు సాధించడానికి చేసిన తాజా ప్రయత్నంలో, ఏప్రిల్ 2023లో అరుణాచల్ ప్రదేశ్ లోని \_\_\_\_\_ ప్రాంతాల పేర్లను 'ప్రామాణికం' చేస్తామని చైనా ప్రభుత్వం ప్రకటించింది.

**Options :**

1. ✖ 7
2. ✖ 9
3. ✔ 11
4. ✖ 15

**Question Number : 7 Question Id : 630680317910 Is Question Mandatory : No Calculator : None Response Time : N.A Think Time : N.A Minimum Instruction Time : 0**

**Correct Marks : 1 Wrong Marks : 0.33**

Which country signed the first defence cooperation agreement with India in April 2023?

**Options :**

1. ✖ China
2. ✖ Syria
3. ✔ Romania
4. ✖ Singapore

**Question Number : 7 Question Id : 630680317910 Is Question Mandatory : No Calculator : None Response Time : N.A Think Time : N.A Minimum Instruction Time : 0**

**Correct Marks : 1 Wrong Marks : 0.33**

ఏప్రిల్ 2023లో భారతదేశంతో మొదటి రక్షణ సహకార ఒప్పందంపై సంతకం చేసిన దేశం ఏది ?

**Options :**

1. ✖ చైనా
2. ✖ సిరియా
3. ✔ రొమేనియా
4. ✖ సింగపూర్

**Question Number : 8 Question Id : 630680317911 Is Question Mandatory : No Calculator : None Response Time : N.A Think Time : N.A Minimum Instruction Time : 0**

**Correct Marks : 1 Wrong Marks : 0.33**

మార్చి 2023లో, ఏరోస్పేస్, ఎలక్ట్రానిక్స్, భూమి & మహా సముద్ర శాస్త్రాలు మరియు నీరు, గనుల తవ్వకం, ఖనిజాలు, క్లెన్ ఎనర్జీ, బయోటెక్ మరియు ఆరోగ్య సంరక్షణ వంటి అనేక కీలక సాంకేతిక రంగాలపై దృష్టి సారించి పరిశోధన, సాంకేతికత మరియు ఆవిష్కరణ సహకారాలపై \_\_\_\_\_ లు అవగాహన ఒప్పందంపై సంతకం చేశాయి.

**Options :**

1. ✖ భారతదేశం మరియు సింగపూర్
2. ✔ భారతదేశం మరియు మెక్సికో
3. ✖ భారతదేశం మరియు మలేషియా
4. ✖ భారతదేశం మరియు ఇండోనేషియా

**Question Number : 8 Question Id : 630680317911 Is Question Mandatory : No Calculator : None Response Time : N.A Think Time : N.A Minimum Instruction Time : 0**

**Correct Marks : 1 Wrong Marks : 0.33**

In March 2023, \_\_\_\_\_ signed a Memorandum of Understanding on research, technology and innovation collaborations with focus on several key technology areas like Aerospace, Electronics, Earth & Ocean Sciences and Water, Mining, Minerals, Clean Energy, Biotech and Healthcare.

**Options :**

1. ✖ India and Singapore
2. ✔ India and Mexico
3. ✖ India and Malaysia
4. ✖ India and Indonesia

**Question Number : 9 Question Id : 630680317912 Is Question Mandatory : No Calculator : None Response Time : N.A Think Time : N.A Minimum Instruction Time : 0**

**Correct Marks : 1 Wrong Marks : 0.33**

Among SAARC nations, Indian higher education institutes dominate the top 500 categories of the QS rankings 2023, with Pakistan being the only other nation of the grouping to have a presence in this bracket with \_\_\_\_\_ among the top 500.

**Options :**

1. ✖ nine
2. ✖ seven
3. ✖ six
4. ✔ three

**Question Number : 9 Question Id : 630680317912 Is Question Mandatory : No Calculator : None Response Time : N.A Think Time : N.A Minimum Instruction Time : 0**

**Correct Marks : 1 Wrong Marks : 0.33**

సార్వ దేశాలలో, 2023 QS ర్యాంకింగ్స్లోని అగ్ర 500 విభాగాలలో భారతీయ ఉన్నత విద్యా సంస్థలు ఆధిపత్యం చెలాయిస్తున్నాయి, ఈ విభాగంలోని అగ్ర 500 విభాగాలలో \_\_\_\_\_ తో తమ ఉనికిని చాటుకున్న ఏకైక ఇతర దేశం పాకిస్తాన్ మాత్రమే.

**Options :**

1. ✖ తొమ్మిది
2. ✖ ఏడు
3. ✖ ఆరు
4. ✔ మూడు

**Question Number : 10 Question Id : 630680317913 Is Question Mandatory : No Calculator : None Response Time : N.A Think Time : N.A Minimum Instruction Time : 0**

**Correct Marks : 1 Wrong Marks : 0.33**

Which of the following is/are correct about India's G20 Presidency?

- I. On 1st December 2022, India assumed the presidency of the G20 forum, taking over from Indonesia.
- II. India will convene the G20 Leaders' Summit for the first time in September 2023.
- III. India will convene 43 Heads of Delegations- the largest ever in the G20.

**Options :**

1. ✖ Only I
2. ✖ Only III
3. ✖ Both I and II
4. ✔ I, II and III

**Question Number : 10 Question Id : 630680317913 Is Question Mandatory : No Calculator : None Response Time : N.A Think Time : N.A Minimum Instruction Time : 0**

**Correct Marks : 1 Wrong Marks : 0.33**

G20లో భారత అధ్యక్షతకు సంబంధించి కింది వాటిలో సరైనది/వి ఏది/వి?

- I. 1 డిసెంబర్ 2022న, ఇండోనేషియా నుండి బాధ్యతలు స్వీకరించిన భారతదేశం G20 ఫోరమ్ అధ్యక్ష పదవిని చేపట్టింది .
- II. సెప్టెంబరు 2023లో భారతదేశం మొదటి సారిగా G20 లీడర్స్ సదస్సును నిర్వహించనుంది.
- III. భారతదేశం 43 మంది డెలిగేషన్ల అధిపతులను సమావేశపరుస్తుంది- ఇది G20లో ఎన్నడూ లేనంత పెద్దది.

**Options :**

1. ✖ I మాత్రమే
2. ✖ III మాత్రమే
3. ✖ I మరియు II రెండూ
4. ✔ I, II మరియు III

**Question Number : 11 Question Id : 630680317914 Is Question Mandatory : No Calculator : None Response Time : N.A Think Time : N.A Minimum Instruction Time : 0**

**Correct Marks : 1 Wrong Marks : 0.33**

భారతదేశం యొక్క మొట్టమొదటి స్వదేశీ పరిజ్ఞానంతో అభివృద్ధి చేసిన 700 MW అణు విద్యుత్ రియాక్టర్ 2023 జూన్ 30న కింది ఏ రాష్ట్రంలో వాణిజ్య కార్యకలాపాలను ప్రారంభించింది?

**Options :**

1. ✖ రాజస్థాన్
2. ✖ తమిళనాడు
3. ✔ గుజరాత్
4. ✖ మధ్యప్రదేశ్

**Question Number : 11 Question Id : 630680317914 Is Question Mandatory : No Calculator : None Response Time : N.A Think Time : N.A Minimum Instruction Time : 0**

**Correct Marks : 1 Wrong Marks : 0.33**

In which of the following states has India's first indigenously developed 700 MW nuclear power reactor started commercial operations on 30th June 2023?

**Options :**

1. ✖ Rajasthan
2. ✖ Tamil Nadu
3. ✔ Gujarat
4. ✖ Madhya Pradesh

**Question Number : 12 Question Id : 630680317915 Is Question Mandatory : No Calculator : None Response Time : N.A Think Time : N.A Minimum Instruction Time : 0**

**Correct Marks : 1 Wrong Marks : 0.33**

What is the name of the fertilizer launched by Union Home Minister Amit Shah in April 2023 to take Indian agriculture forward in foodgrain production and make India self-reliant in fertiliser production?

**Options :**

1. ✔ Nano DAP (Liquid)
2. ✖ Ethyl Ammonia (Gas)
3. ✖ Anhydrous Nitrogen (Gas)
4. ✖ Nitro DAS (Liquid)

**Question Number : 12 Question Id : 630680317915 Is Question Mandatory : No Calculator : None Response Time : N.A Think Time : N.A Minimum Instruction Time : 0**

**Correct Marks : 1 Wrong Marks : 0.33**

ఆహారధాన్యాల ఉత్పత్తిలో భారతీయ వ్యవసాయాన్ని ముందుకు తీసుకెళ్లడానికి మరియు ఎరువుల ఉత్పత్తిలో భారతదేశాన్ని స్వావలంబనకు తీసుకురావడానికి ఏప్రిల్ 2023లో కేంద్ర హోం మంత్రి అమిత్ షా ప్రారంభించిన ఎరువు పేరు ఏమిటి?

**Options :**

1. ✔ నానో DAP (ద్రవ)
2. ✖ ఇథైల్ అమ్మోనియా (వాయు)
3. ✖ ఎన్ హైడ్రస్ నైట్రోజన్ (వాయు)
4. ✖ నైట్రో DAS (ద్రవ)

**Question Number : 13 Question Id : 630680317916 Is Question Mandatory : No Calculator : None Response Time : N.A Think Time : N.A Minimum Instruction Time : 0**

**Correct Marks : 1 Wrong Marks : 0.33**

అనూహ్య ఆవిష్కరణలు, సంధానించబడిన పర్యావరణ వ్యవస్థలు మరియు విస్తృతమైన సామర్థ్యాల నుండి విలువను సృష్టించడానికి గానూ తరువాతి తరం అవకాశాలను ఉపయోగించుకోవడానికి మానవులు, సంస్థలు మరియు సామాజిక వర్గాల సామర్థ్యాన్ని విస్తరించడంలో

సహాయపడటానికి ఇన్‌స్పిస్ ప్రారంభించిన AI-మొదటి విడత సేవలు, పరిష్కారాలు మరియు ప్లాట్‌ఫారమ్ల పేరు ఏమిటి?

**Options :**

1. ✖ లెసాజ్ (Lesaze)
2. ✖ మెరాజ్ (Meraz)
3. ✔ టాపజ్ (Topaz)
4. ✖ బిజార్డ్ (Bizard)

**Question Number : 13 Question Id : 630680317916 Is Question Mandatory : No Calculator : None Response Time : N.A Think Time : N.A Minimum Instruction Time : 0**

**Correct Marks : 1 Wrong Marks : 0.33**

What is the name of an AI-first set of services, solutions, and platforms launched by Infosys to help amplify the potential of humans, enterprises and communities to tap into the next generation of opportunities to create value from unprecedented innovations, connected ecosystems and pervasive efficiencies?

**Options :**

1. ✖ Lesaze
2. ✖ Meraz
3. ✔ Topaz
4. ✖ Bizard

**Question Number : 14 Question Id : 630680317917 Is Question Mandatory : No Calculator : None Response Time : N.A Think Time : N.A Minimum Instruction Time : 0**

**Correct Marks : 1 Wrong Marks : 0.33**

Which of these is/are correct about Jugalbandi, a multilingual AI-chat bot?

- I. It was launched by Google in May 2023.
- II. The chatbot has been developed by AI4Bharat in collaboration with IIT Madras.
- III. It will be accessible via popular messaging platform, WhatsApp.

**Options :**

1. ✖ Only I
2. ✔ Both II and III
3. ✖ Both I and III
4. ✖ I, II and III



**Question Number : 14 Question Id : 630680317917 Is Question Mandatory : No Calculator : None Response Time : N.A Think Time :**

**N.A Minimum Instruction Time : 0**

**Correct Marks : 1 Wrong Marks : 0.33**

బహుభాషా AI-చాట్ బోట్ అయిన జుగల్బందీ(Jugalbandi)కి సంబంధించి వీటిలో ఏది/వి సరైనది/వి?

I. దీన్ని మే 2023లో గూగుల్ ప్రారంభించింది.

II. చాట్బాట్ను ఐఐటి మద్రాస్‌తో కలిసి AI4Bharat అభివృద్ధి చేసింది.

III. ఇది ప్రముఖ మెసేజింగ్ ప్లాట్‌ఫారమ్ వాట్సాప్(WhatsApp) ద్వారా యాక్సెస్ చేయబడుతుంది.

**Options :**

1. ✖ I మాత్రమే

2. ✔ II మరియు III రెండూ

3. ✖ I మరియు III రెండూ

4. ✖ I, II మరియు III

**Question Number : 15 Question Id : 630680317918 Is Question Mandatory : No Calculator : None Response Time : N.A Think Time :**

**N.A Minimum Instruction Time : 0**

**Correct Marks : 1 Wrong Marks : 0.33**

కింది వాటిలో 5G & బియాండ్ హ్యాకథాన్ 2023కి సంబంధించి సరైనది ఏది?

I. 5G & బియాండ్ హ్యాకథాన్‌ను డిపార్ట్‌మెంట్ ఆఫ్ సైన్స్ & టెక్నాలజీ 28 జూన్ 2023న ప్రకటించింది.

II. వ్యక్తులు, విద్యార్థులు, స్టార్టప్‌లు మరియు విద్యాసంస్థలు ఇందులో పాల్గొనవచ్చు.

III. హ్యాకథాన్‌లో వంద మంది విజేతలు మొత్తం ₹1 కోటి బహుమతిని పంచుకుంటారు.

**Options :**

1. ✖ I మాత్రమే

2. ✖ I మరియు II రెండూ

3. ✔ II మరియు III రెండూ

4. ✖ I, II మరియు III

**Question Number : 15 Question Id : 630680317918 Is Question Mandatory : No Calculator : None Response Time : N.A Think Time :**

**N.A Minimum Instruction Time : 0**

**Correct Marks : 1 Wrong Marks : 0.33**

Which of the following is/are correct about 5G & Beyond Hackathon 2023?

- I. The 5G & Beyond Hackathon was announced by the Department of Science & Technology on 28th June 2023.
- II. It is open to individuals, students, start-ups and academic institutions.
- III. Hundred winners of the hackathon will share a total prize pool of ₹1 crore.

**Options :**

1. ✘ Only I
2. ✘ Both I and II
3. ✔ Both II and III
4. ✘ I, II and III

**Question Number : 16 Question Id : 630680317919 Is Question Mandatory : No Calculator : None Response Time : N.A Think Time : N.A Minimum Instruction Time : 0**

**Correct Marks : 1 Wrong Marks : 0.33**

For Draft National Curriculum Framework for School Education 2023, in which month was the Citizen Centric Survey launched by the Ministry of Education?

**Options :**

1. ✔ August 2022
2. ✘ October 2022
3. ✘ December 2022
4. ✘ February 2023

**Question Number : 16 Question Id : 630680317919 Is Question Mandatory : No Calculator : None Response Time : N.A Think Time : N.A Minimum Instruction Time : 0**

**Correct Marks : 1 Wrong Marks : 0.33**

పాఠశాల విద్య 2023 కోసం జాతీయ పాఠ్యప్రణాళిక చట్ర ముసాయిదా కోసం, విద్యా మంత్రిత్వ శాఖ సిటిజన్ సెంట్రిక్ సర్వేను ఏ నెలలో ప్రారంభించింది?

**Options :**

1. ✔ ఆగస్టు 2022
2. ✘ అక్టోబర్ 2022
3. ✘ డిసెంబర్ 2022
4. ✘ ఫిబ్రవరి 2023

**Question Number : 17 Question Id : 630680317920 Is Question Mandatory : No Calculator : None Response Time : N.A Think Time :**

**N.A Minimum Instruction Time : 0**

**Correct Marks : 1 Wrong Marks : 0.33**

In which month was National Health Accounts Estimates for India (2019-20) released by Dr Vinod K Paul, Member (Health) of NITI Aayog?

**Options :**

1. ✘ February 2023
2. ✔ April 2023
3. ✘ May 2023
4. ✘ June 2023

**Question Number : 17 Question Id : 630680317920 Is Question Mandatory : No Calculator : None Response Time : N.A Think Time :**

**N.A Minimum Instruction Time : 0**

**Correct Marks : 1 Wrong Marks : 0.33**

నీతి ఆయోగ్ సభ్యుడు (ఆరోగ్యం) డాక్టర్ వినోద్ కె పాల్ భారతదేశానికి సంబంధించిన జాతీయ ఆరోగ్య ఖాతాల అంచనాలను (2019-20) ఏ నెలలో విడుదల చేశారు?

**Options :**

1. ✘ ఫిబ్రవరి 2023
2. ✔ ఏప్రిల్ 2023
3. ✘ మే 2023
4. ✘ జూన్ 2023

**Question Number : 18 Question Id : 630680317921 Is Question Mandatory : No Calculator : None Response Time : N.A Think Time :**

**N.A Minimum Instruction Time : 0**

**Correct Marks : 1 Wrong Marks : 0.33**

జూన్ 2023లో, మహారాష్ట్ర ప్రభుత్వం బొంబాయి హైకోర్టుకు ఇచ్చిన సమాధానానికి వ్యతిరేకంగా 2023 జూన్ 27న ముంబైలో నిరసన ప్రదర్శన చేసిన ఈ వర్గాల్లో ఏ వర్గానికి హరిజాంటల్ రిజర్వేషన్ అంశం మళ్ళీ వెలుగులోకి వచ్చింది?

**Options :**

1. ✘ లెస్సియన్
2. ✘ గే
3. ✘ బైసెక్సువల్
4. ✔ ట్రాన్స్జెండర్

**Question Number : 18 Question Id : 630680317921 Is Question Mandatory : No Calculator : None Response Time : N.A Think Time : N.A Minimum Instruction Time : 0**

**Correct Marks : 1 Wrong Marks : 0.33**

In June 2023, the matter of horizontal reservation for which of these communities came into light again for which a protest took place on 27th June 2023 in Mumbai against the reply of Maharashtra government to Bombay High Court?

**Options :**

1. ✘ Lesbian
2. ✘ Gay
3. ✘ Bisexual
4. ✔ Transgender

**Question Number : 19 Question Id : 630680317922 Is Question Mandatory : No Calculator : None Response Time : N.A Think Time : N.A Minimum Instruction Time : 0**

**Correct Marks : 1 Wrong Marks : 0.33**

26 ఏప్రిల్ 2023 నాటికి, కింది ఏ పథకం క్రింద 34.18 కోట్ల కంటే ఎక్కువ సంచిత నమోదులు జరిగాయి మరియు 1,15,951 క్లెయిమ్లకు గానూ ₹2,302.26 కోట్ల మొత్తం చెల్లింపులు జరిగాయి?

**Options :**

1. ✔ ప్రధాన మంత్రి సురక్ష బీమా యోజన (PMSBY)
2. ✘ అటల్ పెన్షన్ యోజన (APY)
3. ✘ ప్రధాన మంత్రి జీవన్ జ్యోతి బీమా యోజన (PMJJBY)
4. ✘ వరిష్ట పెన్షన్ బీమా యోజన (VPBY)

**Question Number : 19 Question Id : 630680317922 Is Question Mandatory : No Calculator : None Response Time : N.A Think Time : N.A Minimum Instruction Time : 0**

**Correct Marks : 1 Wrong Marks : 0.33**

As of 26 April 2023, the cumulative enrolments under which of the following schemes have been more than 34.18 crore and an amount of ₹2,302.26 crore has been paid for 1,15,951 claims?

**Options :**

1. ✔ Pradhan Mantri Suraksha Bima Yojana (PMSBY)
2. ✘ Atal Pension Yojana (APY)
3. ✘ Pradhan Mantri Jeevan Jyoti Bima Yojana (PMJJBY)
4. ✘ Varishtha Pension Bima Yojana (VPBY)

**Question Number : 20 Question Id : 630680317923 Is Question Mandatory : No Calculator : None Response Time : N.A Think Time : N.A Minimum Instruction Time : 0**

**Correct Marks : 1 Wrong Marks : 0.33**

10 మే 2023 నాటికి, అత్యధిక ODF ప్లస్ గ్రామాల శాతం కలిగి ఉన్న రాష్ట్రాలు క్రింద ఇవ్వబడ్డాయి. సరికాని జతను గుర్తించండి.

- I. తెలంగాణ ---- 98.7%
- II. కర్ణాటక --- 99.5%
- III. తమిళనాడు --- 97.8%
- IV. ఉత్తర ప్రదేశ్ ---- 95.2%

**Options :**

- 1. ✓ I మాత్రమే
- 2. ✘ III మాత్రమే
- 3. ✘ I మరియు II రెండూ
- 4. ✘ IV మాత్రమే

**Question Number : 20 Question Id : 630680317923 Is Question Mandatory : No Calculator : None Response Time : N.A Think Time : N.A Minimum Instruction Time : 0**

**Correct Marks : 1 Wrong Marks : 0.33**

As of 10th May 2023, the states with the highest percentage of ODF Plus villages are given below. Identify the INCORRECT match.

- I. Telangana ---- 98.7%
- II. Karnataka --- 99.5%
- III. Tamil Nadu --- 97.8%
- IV. Uttar Pradesh---- 95.2%

**Options :**

- 1. ✓ Only I
- 2. ✘ Only III
- 3. ✘ Both I and II
- 4. ✘ Only IV

**Question Number : 21 Question Id : 630680317924 Is Question Mandatory : No Calculator : None Response Time : N.A Think Time : N.A Minimum Instruction Time : 0**

**Correct Marks : 1 Wrong Marks : 0.33**

Which of the following is/are true according to the fifth annual World Air Quality Report 2022?

- I. India was the world's eighth most polluted country in 2022 with an annual average PM2.5 concentration of 53.3 micrograms per cubic metre.
- II. With an annual average PM2.5 concentration of 92.6 micrograms per cubic metre, Mumbai has been ranked the fourth most polluted city in the world.
- III. In the list of most polluted cities in the world, out of the 50 cities, 42 are in India.
- IV. As per the report, In India, the transportation sector causes 20-35 per cent of the PM2.5 pollution while other sources of pollution are industrial units, coal-fired power plants and biomass burning.

**Options :**

- 1. ✘ Both I and III
- 2. ✔ Both I and IV
- 3. ✘ Both II and III
- 4. ✘ Only I, III and IV

**Question Number : 21 Question Id : 630680317924 Is Question Mandatory : No Calculator : None Response Time : N.A Think Time : N.A Minimum Instruction Time : 0**

**Correct Marks : 1 Wrong Marks : 0.33**

కింది వాటిలో ఐదవ వార్షిక ప్రపంచ గాలి గుణాత్మకత నివేదిక 2022 ప్రకారం ఏది/వి సత్యము(లు)?

- i. ఘనపు మీటర్ కు PM2.5 గాఢత 53.3 మైక్రోగ్రాముల వార్షిక సగటుతో 2022లో భారతదేశం ప్రపంచంలో ఎనిమిదవ అత్యంత కాలుష్య దేశంగా ఉంది.
- II. ఘనపు మీటర్ కు PM2.5 గాఢత 92.6 మైక్రోగ్రాముల వార్షిక సగటుతో, ముంబై ప్రపంచంలోనే అత్యంత కలుషితమైన నగరాల్లో నాల్గవ స్థానంలో ఉంది.
- III. ప్రపంచంలోని అత్యంత కాలుష్య నగరాల జాబితాలో, 50 నగరాల్లో, 42 భారతదేశంలో ఉన్నాయి.
- IV. నివేదిక ప్రకారం, భారతదేశంలో, రవాణా రంగం PM2.5 కాలుష్య కారకాలలో 20-35 శాతం కారణమవుతుంది, అయితే ఇతర కాలుష్య కారకాలుగా పారిశ్రామిక యూనిట్లు, బొగ్గు ఆధారిత పవర్ ప్లాంట్లు మరియు బయోమాస్ బర్నింగ్ ఉన్నాయి.

**Options :**

- 1. ✘ I మరియు III రెండూ
- 2. ✔ I మరియు IV రెండూ
- 3. ✘ II మరియు III రెండూ

4. ✖ I, III మరియు IV మాత్రమే

**Question Number : 22 Question Id : 630680317925 Is Question Mandatory : No Calculator : None Response Time : N.A Think Time : N.A Minimum Instruction Time : 0**

**Correct Marks : 1 Wrong Marks : 0.33**

Who created history by securing India's first-ever medal, a bronze, at the Asian fencing championships in Wuxi, China, in June 2023?

**Options :**

1. ✖ Aishwarya Mishra
2. ✔ Bhavani Devi
3. ✖ Jyothi Yarraji
4. ✖ Nithya Ramraj

**Question Number : 22 Question Id : 630680317925 Is Question Mandatory : No Calculator : None Response Time : N.A Think Time : N.A Minimum Instruction Time : 0**

**Correct Marks : 1 Wrong Marks : 0.33**

జూన్ 2023లో చైనాలోని వుక్సిలో జరిగిన ఆసియా ఫెన్సింగ్ ఛాంపియన్షిప్లో కాంస్య పతకం రూపంలో భారతదేశం యొక్క మొట్టమొదటి పతకాన్ని సాధించి చరిత్ర సృష్టించింది ఎవరు?

**Options :**

1. ✖ ఐశ్వర్య మిశ్రా
2. ✔ భవనీ దేవి
3. ✖ జ్యోతి యర్రాజి
4. ✖ నిత్య రామరాజ్

**Question Number : 23 Question Id : 630680317926 Is Question Mandatory : No Calculator : None Response Time : N.A Think Time : N.A Minimum Instruction Time : 0**

**Correct Marks : 1 Wrong Marks : 0.33**

India's Sunil Kumar scored \_\_\_\_\_ points and clinched gold in the men's decathlon at the Asian U20 Athletics Championships in Yecheon, South Korea.

**Options :**

1. ✖ 5006
2. ✖ 4960
3. ✖ 8012

4. ✓ 7003

**Question Number : 23 Question Id : 630680317926 Is Question Mandatory : No Calculator : None Response Time : N.A Think Time : N.A Minimum Instruction Time : 0**

**Correct Marks : 1 Wrong Marks : 0.33**

దక్షిణ కొరియాలోని యెచియోన్లో జరిగిన ఆసియా U20 అథ్లెటిక్స్ ఛాంపియన్షిప్లో పురుషుల డెకాథ్లాన్లో భారతదేశానికి చెందిన సునీల్ కుమార్ \_\_\_\_\_ పాయింట్లు సాధించి స్వర్ణం సాధించాడు.

**Options :**

1. ✘ 5006
2. ✘ 4960
3. ✘ 8012
4. ✓ 7003

**Question Number : 24 Question Id : 630680317927 Is Question Mandatory : No Calculator : None Response Time : N.A Think Time : N.A Minimum Instruction Time : 0**

**Correct Marks : 1 Wrong Marks : 0.33**

మహిళల కరీబియన్ ప్రీమియర్ లీగ్ (WCPL)కు సంతకం చేసిన మొదటి భారతీయ క్రికెటర్గా చరిత్ర సృష్టించిన శ్రేయాంక పాటిల్, 2023 ఆగస్టు 31 నుండి 10 సెప్టెంబర్ 2023 వరకు జరిగే మ్యాచ్లను \_\_\_\_\_ జట్టు కోసం ఆడనుంది.

**Options :**

1. ✘ ట్రిన్బాగో నైట్ రైడర్స్
2. ✓ గయానా అమెజాన్ వారియర్స్
3. ✘ బార్బడోస్ రాయల్స్ వుమెన్
4. ✘ జమైకా తల్లావాస్

**Question Number : 24 Question Id : 630680317927 Is Question Mandatory : No Calculator : None Response Time : N.A Think Time : N.A Minimum Instruction Time : 0**

**Correct Marks : 1 Wrong Marks : 0.33**

Shreyanka Patil, who made history by becoming the first Indian cricketer to be signed for the Women's Caribbean Premier League (WCPL), will play the match to be held from 31 August to 10 September 2023 for \_\_\_\_\_ team.

**Options :**

1. ✘ Trinbago Knight Riders
2. ✓ Guyana Amazon Warriors



3. ✘ Barbados Royals Women

4. ✘ Jamaica Tallawahs

**Question Number : 25 Question Id : 630680317928 Is Question Mandatory : No Calculator : None Response Time : N.A Think Time : N.A Minimum Instruction Time : 0**

**Correct Marks : 1 Wrong Marks : 0.33**

Match the following winner of the First Janjatiya Khel Mahotsav kicked off at KIIT DU in June 2023.

Sports Category	Winner
I. Kabaddi Men's Category	a. Odisha
II. Kabaddi Women's Category	b. Karnataka
III. Football Women's Category	c. Chhattisgarh

**Options :**

1. ✘ I-a, II-c, III-b

2. ✘ I-b, II-c, III-a

3. ✔ I-a, II-b, III-c

4. ✘ I-b, II-a, III-c

**Question Number : 25 Question Id : 630680317928 Is Question Mandatory : No Calculator : None Response Time : N.A Think Time : N.A Minimum Instruction Time : 0**

**Correct Marks : 1 Wrong Marks : 0.33**

జూన్ 2023లో KIIT DUలో ప్రారంభమైన మొదటి జన్జాతీయ ఖేల్ మహోత్సవంలోని క్రీడలను వాటి విజేతతో జతచేయండి.

క్రీడ కేటగిరీ	విజేత
I. కబడ్డీ పురుషుల కేటగిరీ	a. ఒడిషా
II. కబడ్డీ మహిళల కేటగిరీ	b. కర్ణాటక
III. ఫుట్బాల్ మహిళల కేటగిరీ	c. ఛత్తీస్ గఢ్

Options :

1. ✘ I-a, II-c, III-b
2. ✘ I-b, II-c, III-a
3. ✔ I-a, II-b, III-c
4. ✘ I-b, II-a, III-c

Question Number : 26 Question Id : 630680317929 Is Question Mandatory : No Calculator : None Response Time : N.A Think Time : N.A Minimum Instruction Time : 0

Correct Marks : 1 Wrong Marks : 0.33

\_\_\_\_\_ అనేది ఒక సాంకేతికత, దీని ద్వారా భూమిలోనికి చొరబడిన నీరు భూగర్భజలాల అసంతృప్త ప్రాంతం గుండా వెళ్ళి నీటి బల్లలో(వాటర్ శేబుల్లో) కలుస్తుంది.

Options :

1. ✘ వాటర్ శేబుల్ ఫిల్టరేషన్
2. ✘ వాటర్ శాచురేషన్ సాంకేతికత
3. ✘ భూగర్భ సంపింగ్
4. ✔ భూగర్భ జలాల రీఛార్జ్

**Question Number : 26 Question Id : 630680317929 Is Question Mandatory : No Calculator : None Response Time : N.A Think Time : N.A Minimum Instruction Time : 0**

**Correct Marks : 1 Wrong Marks : 0.33**

\_\_\_\_\_ is a technique by which infiltrated water passes through the unsaturated region of groundwater and joins the water table.

**Options :**

1. ✘ Water table filtration
2. ✘ Water saturation technique
3. ✘ Underground sumping
4. ✔ Groundwater recharge

**Question Number : 27 Question Id : 630680317930 Is Question Mandatory : No Calculator : None Response Time : N.A Think Time : N.A Minimum Instruction Time : 0**

**Correct Marks : 1 Wrong Marks : 0.33**

కింది వాటిలో పల్ప్ చాంబర్ను శుభ్రపరిచి, క్రిమిసంహారకం చేసి, పర్మినెంట్ ఫిల్లింగ్ చేసి చీము పట్టిన దంతాన్ని రక్షించడానికి ఉపయోగించే ప్రక్రియ ఏది?

**Options :**

1. ✘ సర్జికల్ గమ్ గ్రాఫ్ట్
2. ✘ జింజివోప్లాస్టీ
3. ✘ ఎనామెల్ బయాప్సీ
4. ✔ రూట్ కెనాల్ థెరపీ

**Question Number : 27 Question Id : 630680317930 Is Question Mandatory : No Calculator : None Response Time : N.A Think Time : N.A Minimum Instruction Time : 0**

**Correct Marks : 1 Wrong Marks : 0.33**

Which of the following is a procedure used to save an abscessed tooth in which the pulp chamber is cleaned out, disinfected, and filled with a permanent filling?

**Options :**

1. ✘ Surgical gum graft
2. ✘ Gingivoplasty
3. ✘ Enamel biopsy
4. ✔ Root canal therapy

**Question Number : 28 Question Id : 630680317931 Is Question Mandatory : No Calculator : None Response Time : N.A Think Time : N.A Minimum Instruction Time : 0 Correct Marks : 1 Wrong Marks : 0.33**

వాక్యము (A) మరియు కారణం (R) అని లేబుల్ చేయబడిన క్రింది రెండు ప్రకటనలకు సంబంధించి సరైన ఎంపికను ఎంచుకోండి.

వాక్యము (A): MRI తరచుగా మోకాలి మరియు భుజం గాయాలను చిత్రీకరించడానికి ఉపయోగిస్తారు.

కారణం (R): కండరాలు, స్నాయువులు మరియు స్నాయు బంధనాలు సాధారణ x- కిరణాలు మరియు CT ద్వారా కంటే MRIతో చాలా స్పష్టంగా కనిపిస్తాయి.

**Options :**

1. ✓ A మరియు R రెండూ సత్యం మరియు R అనేది A యొక్క సరైన వివరణ.
2. ✗ A మరియు R రెండూ సత్యం, కానీ R అనేది A యొక్క సరైన వివరణ కాదు.
3. ✗ A సత్యం, కానీ R అసత్యం.
4. ✗ A మరియు R రెండూ అసత్యము.

**Question Number : 28 Question Id : 630680317931 Is Question Mandatory : No Calculator : None Response Time : N.A Think Time : N.A Minimum Instruction Time : 0 Correct Marks : 1 Wrong Marks : 0.33**

Select the option that is true regarding the following two statements labelled Assertion (A) and Reason (R).

Assertion (A): MRI is often used to image knee and shoulder injuries.

Reason (R): The muscles, ligaments, and tendons are seen much more clearly with MRI than with regular x-rays and CT.

**Options :**

1. ✓ Both A and R are true, and R is the correct explanation of A.
2. ✗ Both A and R are true, but R is not the correct explanation of A.
3. ✗ A is true, but R is false.
4. ✗ Both A and R are false.

**Question Number : 29 Question Id : 630680317932 Is Question Mandatory : No Calculator : None Response Time : N.A Think Time : N.A Minimum Instruction Time : 0 Correct Marks : 1 Wrong Marks : 0.33**

వాక్యము క్లీన్ గా క్రింది వాటిలో \_\_\_\_\_ మినహా మిగిలిన అన్నింటికీ తగినది.

**Options :**

1. ✗ గట్టి చెక్కతో (హార్డ్ వుడ్ తో) చేసిన ప్లాస్టిక్ నుండి దుమ్ము మరియు ధూళిని తొలగించడం

2. ✘ కార్లు మరియు మెట్లు శుభ్రం చేయడం
3. ✔ గాజు ముక్కలు తీయడం
4. ✘ అప్ హోల్స్ట్రీ నుండి ధూళి మరియు ధూళిని తొలగించడం

**Question Number : 29 Question Id : 630680317932 Is Question Mandatory : No Calculator : None Response Time : N.A Think Time : N.A Minimum Instruction Time : 0**

**Correct Marks : 1 Wrong Marks : 0.33**

A vacuum cleaner can be suitable for all, EXCEPT \_\_\_\_\_.

**Options :**

1. ✘ removing dirt and dust from floors made of hardwood
2. ✘ cleaning cars and stairs
3. ✔ picking up glass pieces
4. ✘ removing dirt and dust from upholstery

**Question Number : 30 Question Id : 630680317933 Is Question Mandatory : No Calculator : None Response Time : N.A Think Time : N.A Minimum Instruction Time : 0**

**Correct Marks : 1 Wrong Marks : 0.33**

వాక్యం (A) మరియు కారణం (R) అని లేబుల్ చేయబడిన క్రింది రెండు ప్రకటనలకు సంబంధించి సరైన ఎంపికను ఎంచుకోండి.

వాక్యం (A): WhatsApp అనేది ప్రపంచంలో అత్యంత ప్రజాదరణ పొందిన క్రాస్-ప్లాట్ఫారమ్ మెసేజింగ్ యాప్.

కారణం (R): WhatsApp అనేది వినియోగదారులు వారి సంభాషణలను వెబ్ బ్రౌజర్ ద్వారా యాక్సెస్ చేయడానికి అనుమతిస్తుంది.

**Options :**

1. ✘ A మరియు R రెండూ సత్యం మరియు R అనేది A యొక్క సరైన వివరణ.
2. ✔ A మరియు R రెండూ సత్యం, కానీ R అనేది A యొక్క సరైన వివరణ కాదు.
3. ✘ A సత్యం, కానీ R అసత్యం.
4. ✘ A మరియు R రెండూ అసత్యము.

**Question Number : 30 Question Id : 630680317933 Is Question Mandatory : No Calculator : None Response Time : N.A Think Time : N.A Minimum Instruction Time : 0**

**Correct Marks : 1 Wrong Marks : 0.33**

Select the option that is true regarding the following two statements labelled Assertion (A) and Reason (R).

Assertion (A): WhatsApp is the world's most popular cross-platform messaging app.

Reason (R): WhatsApp enables users to access their conversations through a web browser.

**Options :**

1. ✖ Both A and R are true, and R is the correct explanation of A.
2. ✔ Both A and R are true, but R is not the correct explanation of A.
3. ✖ A is true, but R is false.
4. ✖ Both A and R are false.

**Question Number : 31 Question Id : 630680317934 Is Question Mandatory : No Calculator : None Response Time : N.A Think Time : N.A Minimum Instruction Time : 0**

**Correct Marks : 1 Wrong Marks : 0.33**

వాక్యం (A) మరియు కారణం (R) అని లేబుల్ చేయబడిన క్రింది రెండు ప్రకటనలకు సంబంధించి సరైన ఎంపికను ఎంచుకోండి.

వాక్యము (A): పిండం అభివృద్ధిని అంచనా వేయడానికి అల్ట్రాసౌండ్ స్కాన్లను ఉపయోగిస్తారు అలాగే అవి కాలేయం, గుండె, మూత్రపిండాలు లేదా జీర్ణాశయంలోని సమస్యలను గుర్తించగలవు.

కారణం (R): గర్భం యొక్క పురోగతిని పరిశీలించడానికి అల్ట్రాసౌండ్ స్కాన్లను తరచుగా ఉపయోగిస్తారు.

**Options :**

1. ✔ A మరియు R రెండూ సత్యం మరియు R అనేది A యొక్క సరైన వివరణ.
2. ✖ A మరియు R రెండూ సత్యం , కానీ R అనేది A యొక్క సరైన వివరణ కాదు.
3. ✖ A సత్యం, కానీ R అసత్యం.
4. ✖ A మరియు R రెండూ అసత్యం.

**Question Number : 31 Question Id : 630680317934 Is Question Mandatory : No Calculator : None Response Time : N.A Think Time : N.A Minimum Instruction Time : 0**

**Correct Marks : 1 Wrong Marks : 0.33**

Select the option that is true regarding the following two statements labelled Assertion (A) and Reason (R).

Assertion (A): Ultrasound scans are used to evaluate foetal development, and they can detect problems in the liver, heart, kidney, or abdomen.

Reason (R): Ultrasound scans are often used to check the progress of a pregnancy.

**Options :**

1. ✔ Both A and R are true, and R is the correct explanation of A.
2. ✖ Both A and R are true, but R is not the correct explanation of A.
3. ✖ A is true, but R is false.

4. ✖ Both A and R are false.

**Question Number : 32 Question Id : 630680317935 Is Question Mandatory : No Calculator : None Response Time : N.A Think Time : N.A Minimum Instruction Time : 0 Correct Marks : 1 Wrong Marks : 0.33**

వాక్యం (A) మరియు కారణం (R) అని లేబుల్ చేయబడిన క్రింది రెండు ప్రకటనలకు సంబంధించి సరైన ఎంపికను ఎంచుకోండి.

వాక్యం (A): సహజ వనరుల వెలికితీతలో ఇసుక, కంకర, రాయి, చమురు, సహజ వాయువు మరియు తవ్వకం, డ్రిల్లింగ్, బోరింగ్ లేదా ఇతర పద్ధతుల ద్వారా పొందిన ఇతర సహజ పదార్థాల సంగ్రహణకు ప్రత్యేకమైన కార్యకలాపాలు ఉంటాయి.

కారణం (R): పంప్ జాక్స్ బావుల నుండి చమురును తీయడానికి ఉపయోగించే యంత్రాలు.

**Options :**

1. ✖ A మరియు R రెండూ సత్యం మరియు R అనేది A యొక్క సరైన వివరణ.
2. ✔ A మరియు R రెండూ సత్యం , కానీ R అనేది A యొక్క సరైన వివరణ కాదు.
3. ✖ A సత్యం, కానీ R అసత్యం.
4. ✖ A మరియు R రెండూ అసత్యం.

**Question Number : 32 Question Id : 630680317935 Is Question Mandatory : No Calculator : None Response Time : N.A Think Time : N.A Minimum Instruction Time : 0 Correct Marks : 1 Wrong Marks : 0.33**

Select the option that is true regarding the following two statements labelled Assertion (A) and Reason (R).

Assertion (A): Natural resource extraction includes activities dedicated to the recovery of sand, gravel, rock, oil, natural gas, and other natural materials that are obtained by excavation, drilling, boring, or other methods.

Reason (R): Pumpjacks are machines used to extract oil from wells.

**Options :**

1. ✖ Both A and R are true, and R is the correct explanation of A.
2. ✔ Both A and R are true, but R is not the correct explanation of A.
3. ✖ A is true, but R is false.
4. ✖ Both A and R are false.

**Question Number : 33 Question Id : 630680317936 Is Question Mandatory : No Calculator : None Response Time : N.A Think Time : N.A Minimum Instruction Time : 0 Correct Marks : 1 Wrong Marks : 0.33**

ఫెరులా మొక్కల వేర్ల నుండి పొందిన మరియు అనేక భారతీయ వంటలలో ఉపయోగించే ఎండిన రసం లేదా గమ్ రెసిన్ అయిన అసఫోటిడా (ఫెరులా ఆసఫోటిడా) యొక్క సాధారణ నామం ఏమిటి?

**Options :**

1. ✖ మేతి
2. ✖ సాన్ఫ్
3. ✔ ఇంగువ
4. ✖ ఐజ్వైన్

**Question Number : 33 Question Id : 630680317936 Is Question Mandatory : No Calculator : None Response Time : N.A Think Time : N.A Minimum Instruction Time : 0**

**Correct Marks : 1 Wrong Marks : 0.33**

What is the common name of Asafoetida (Ferula asafoetida) which is the dried sap or gum resin obtained from the roots of Ferula plants and used in several Indian dishes?

**Options :**

1. ✖ Methi
2. ✖ Saunf
3. ✔ Hing
4. ✖ Aijwain

**Question Number : 34 Question Id : 630680317937 Is Question Mandatory : No Calculator : None Response Time : N.A Think Time : N.A Minimum Instruction Time : 0**

**Correct Marks : 1 Wrong Marks : 0.33**

కింది వాటిలో మానవులలోని విసర్జన వ్యవస్థలో భాగం కానిది ఏది?

**Options :**

1. ✔ నిస్సల్ కణికలు
2. ✖ గ్లోమెరులస్
3. ✖ హెన్లీ శిక్యం
4. ✖ బౌమాన్ గుళిక

**Question Number : 34 Question Id : 630680317937 Is Question Mandatory : No Calculator : None Response Time : N.A Think Time : N.A Minimum Instruction Time : 0**

**Correct Marks : 1 Wrong Marks : 0.33**



Which of the following is NOT a part of the excretory system in humans?

**Options :**

1. ✓ Nissl's granules
2. ✗ Glomerulus
3. ✗ Henle's loop
4. ✗ Bowman's Capsule

**Question Number : 35 Question Id : 630680317938 Is Question Mandatory : No Calculator : None Response Time : N.A Think Time : N.A Minimum Instruction Time : 0**

**Correct Marks : 1 Wrong Marks : 0.33**

Vitamins are a group of substances that are needed for normal cell function, growth, and development. Match the following Vitamins with their chemical name.

Vitamin	Chemical name
I. Vitamin B2	a. Niacin
II. Vitamin B6	b. Riboflavin
III. Vitamin B3	c. Biotin
IV. Vitamin B7	d. Pyridoxine

**Options :**

1. ✗ I-a, II-c, III-b, IV-d
2. ✓ I-b, II-d, III-a, IV-c
3. ✗ I-a, II-b, III-c, IV-d
4. ✗ I-d, II-b, III-c, IV-a

**Question Number : 35 Question Id : 630680317938 Is Question Mandatory : No Calculator : None Response Time : N.A Think Time :**

**N.A Minimum Instruction Time : 0**

**Correct Marks : 1 Wrong Marks : 0.33**

విటమిన్లు సాధారణ కణాల పనితీరు, పెరుగుదల మరియు అభివృద్ధికి అవసరమైన పదార్థాల సమూహం. కింది విటమిన్లను వాటి రసాయన నామంతో జతపరచండి.

విటమిన్	రసాయన నామం
I. విటమిన్ B2	a. నియాసిన్
II. విటమిన్ B6	b. రిబోఫ్లావిన్
III. విటమిన్ B3	c. బయోటిన్
IV. విటమిన్ B7	d. పైరిడాక్సిన్

**Options :**

1. ✘ I-a, II-c, III-b, IV-d
2. ✔ I-b, II-d, III-a, IV-c
3. ✘ I-a, II-b, III-c, IV-d
4. ✘ I-d, II-b, III-c, IV-a

**Question Number : 36 Question Id : 630680317939 Is Question Mandatory : No Calculator : None Response Time : N.A Think Time : N.A Minimum Instruction Time : 0**

**Correct Marks : 1 Wrong Marks : 0.33**

In primary succession in water, the pioneers are the \_\_\_\_\_.

**Options :**

1. ✘ rooted-submerged plants
2. ✔ small phytoplanktons
3. ✘ rooted-floating angiosperms
4. ✘ reed-swamp

**Question Number : 36 Question Id : 630680317939 Is Question Mandatory : No Calculator : None Response Time : N.A Think Time : N.A Minimum Instruction Time : 0**

**Correct Marks : 1 Wrong Marks : 0.33**

నీటిలో జీవించే జీవులలో ఆద్యులు \_\_\_\_\_.

**Options :**

1. ✖ నాటుకుపోయిన-నీటిలో మునిగి ఉండే మొక్కలు
2. ✔ చిన్న వృక్ష సంబంధ పైటో ప్లవకాలు
3. ✖ వేర్లు కలిగి-తేలుతున్న ఆవృత బీజ మొక్కలు
4. ✖ రెల్లు-చిత్తడి

**Question Number : 37 Question Id : 630680317940 Is Question Mandatory : No Calculator : None Response Time : N.A Think Time : N.A Minimum Instruction Time : 0**

**Correct Marks : 1 Wrong Marks : 0.33**

ఒక ప్రకటన, దాని తర్వాత రెండు పర్యవసానాలు ఇవ్వబడ్డాయి. ఇచ్చిన ఐచ్ఛికముల నుండి సరైన జవాబును ఎంచుకోండి.

ప్రకటన:

అష్కెల్ మింత్స్ (Aschelminthes) ను రౌండ్‌వార్మ్‌లు అంటారు.

పర్యవసానం:

- i) మధ్యచ్ఛేద సమయంలో అష్కెల్ మింత్స్ శరీరం వృత్తాకారంలో ఉంటుంది.
- ii) రౌండ్‌వార్మ్‌లు శరీరం అవయవ-వ్యవస్థ స్థాయిని కలిగి ఉంటుంది.

**Options :**

1. ✔ పర్యవసానం (i) మాత్రమే సరైనది.
2. ✖ పర్యవసానం (ii) మాత్రమే సరైనది.
3. ✖ రెండు పర్యవసానాలు (i) మరియు (ii) సరైనవి.
4. ✖ పర్యవసానం (i) కానీ లేదా (ii) కానీ ఏదీ సరైనది కాదు.

**Question Number : 37 Question Id : 630680317940 Is Question Mandatory : No Calculator : None Response Time : N.A Think Time : N.A Minimum Instruction Time : 0**

**Correct Marks : 1 Wrong Marks : 0.33**

A statement is given followed by two conclusions. Select the correct response from the given options.

Statement:

Aschelminthes are called roundworms.

Conclusion:

- i) The body of the aschelminthes is circular in cross-section.
- ii) Roundworms have organ-system level of body organisation.

**Options :**

- 1. ✓ Only conclusion (i) is correct.
- 2. ✗ Only conclusion (ii) is correct.
- 3. ✗ Both conclusions (i) and (ii) are correct.
- 4. ✗ Neither conclusion (i) nor (ii) is correct.

**Question Number : 38 Question Id : 630680317941 Is Question Mandatory : No Calculator : None Response Time : N.A Think Time : N.A Minimum Instruction Time : 0**

**Correct Marks : 1 Wrong Marks : 0.33**

Living systems are made up of various complex biomolecules which include carbohydrates. Match the following Group of Carbohydrates with their examples.

Group of Carbohydrates	Examples
I. Monosaccharides	a. Cellulose
II. Oligosaccharides	b. Ribose
III. Polysaccharides	c. Maltose

**Options :**

- 1. ✗ I-a, II-c, III-b
- 2. ✓ I-b, II-c, III-a
- 3. ✗ I-a, II-b, III-c
- 4. ✗ I-b, II-a, III-c

**Question Number : 38 Question Id : 630680317941 Is Question Mandatory : No Calculator : None Response Time : N.A Think Time : N.A Minimum Instruction Time : 0**

**Correct Marks : 1 Wrong Marks : 0.33**

జీవన వ్యవస్థలు కార్పోహైడ్రేట్లను కలిగి ఉన్న వివిధ సంక్లిష్ట జీవాణువులతో రూపొందించబడ్డాయి. కింది కార్పోహైడ్రేట్ల సమూహాన్ని వాటి ఉదాహరణలతో జతపరచండి.

కార్పోహైడ్రేట్ల సమూహం	ఉదాహరణలు
I. మోనోశాకరైడ్లు	a. సెల్యులోజ్
II. ఒలిగోశాకరైడ్లు	b. రైబోస్
III. పాలీశాకరైడ్లు	c. మాల్టోస్

IN

**Options :**

1. ✘ I-a, II-c, III-b
2. ✔ I-b, II-c, III-a
3. ✘ I-a, II-b, III-c
4. ✘ I-b, II-a, III-c

**Question Number : 39 Question Id : 630680317942 Is Question Mandatory : No Calculator : None Response Time : N.A Think Time : N.A Minimum Instruction Time : 0**

**Correct Marks : 1 Wrong Marks : 0.33**

Match the given component of living tissues with the percentage of the total cellular mass.

Component	Percentage of the total cellular mass
I. Lipids	a. 5-7%
II. Proteins	b. 10-15%
III. Carbohydrates	c. 3%
IV. Nucleic acids	d. 2%

**Options :**

1. ✘ I-a, II-c, III-b, IV-d
2. ✘ I-b, II-d, III-a, IV-c
3. ✘ I-a, II-b, III-c, IV-d
4. ✔ I-d, II-b, III-c, IV-a

**Question Number : 39 Question Id : 630680317942 Is Question Mandatory : No Calculator : None Response Time : N.A Think Time : N.A Minimum Instruction Time : 0**

**Correct Marks : 1 Wrong Marks : 0.33**

పేర్కొన్న జీవ కణజాల భాగాన్ని మొత్తం కణ ద్రవ్యరాశి శాతంలో జతపరచండి.

భాగం	మొత్తం కణ ద్రవ్యరాశి శాతం
I. లిపిడ్లు	a. 5-7%
II. ప్రొటీన్లు	b. 10-15%
III. కార్బోహైడ్రేట్లు	c. 3%
IV. న్యూక్లియిక్ ఆమ్లాలు	d. 2%

Options :

1. ✘ I-a, II-c, III-b, IV-d
2. ✘ I-b, II-d, III-a, IV-c
3. ✘ I-a, II-b, III-c, IV-d
4. ✔ I-d, II-b, III-c, IV-a

Question Number : 40 Question Id : 630680317943 Is Question Mandatory : No Calculator : None Response Time : N.A Think Time : N.A Minimum Instruction Time : 0

Correct Marks : 1 Wrong Marks : 0.33

ఈ ప్రశ్నలో, ఒక ప్రకటన ఇవ్వబడి, దాని తర్వాత రెండు పర్యవసానాలు ఉంటాయి. ఇవ్వబడిన నాలుగు ఐచ్ఛికాల నుండి సరైన సమాధానాన్ని ఎంచుకోండి:

ప్రకటన :

క్లోరోఫైటీ సభ్యులను సాధారణంగా గ్రీన్ ఆల్గే అని పిలుస్తారు.

పర్యవసానం:

i) గ్రీన్ ఆల్గే సాధారణంగా సెల్యులోజ్ యొక్క లోపలి పొర మరియు పెక్టోస్ యొక్క బయటి పొరతో తయారు చేయబడిన దృఢమైన కణ గోడను కలిగి ఉంటుంది.

ii) క్లోరోఫైట్ ఎ మరియు బి వర్ణద్రవ్యాల ఆధిపత్యం కారణంగా క్లోరోఫైటీ సాధారణంగా గడ్డి ఆకుపచ్చ రంగులో ఉంటుంది.

Options :

1. ✘ పర్యవసానం (i) మాత్రమే సరైనది.
2. ✔ పర్యవసానం (ii) మాత్రమే సరైనది.
3. ✘ పర్యవసానం (i) మరియు (ii) రెండూ సరైనవి.
4. ✘ పర్యవసానాలు ఏవీ సరైనవి కావు.

**Question Number : 40 Question Id : 630680317943 Is Question Mandatory : No Calculator : None Response Time : N.A Think Time : N.A Minimum Instruction Time : 0**

**Correct Marks : 1 Wrong Marks : 0.33**

In this question, a statement is given followed by two conclusions. Choose the correct response from the given four options:

Statement:

The members of chlorophyceae are commonly called green algae.

Conclusion:

- i) Green algae usually have a rigid cell wall made of an inner layer of cellulose and an outer layer of pectose.
- ii) Chlorophyceae are usually grass green due to the dominance of pigments chlorophyll a and b.

**Options :**

1. ✘ Only conclusion (i) is correct.
2. ✔ Only conclusion (ii) is correct.
3. ✘ Both conclusion (i) and (ii) are correct.
4. ✘ None of the conclusions are correct.

**Question Number : 41 Question Id : 630680317944 Is Question Mandatory : No Calculator : None Response Time : N.A Think Time : N.A Minimum Instruction Time : 0**

**Correct Marks : 1 Wrong Marks : 0.33**

As per National Disaster Management Authority (NDMA) Report 2018-19, out of 36 states and union territories in the country, how many of them are disaster prone?

**Options :**

1. ✘ 18
2. ✘ 20
3. ✘ 25
4. ✔ 27



**Question Number : 41 Question Id : 630680317944 Is Question Mandatory : No Calculator : None Response Time : N.A Think Time : N.A Minimum Instruction Time : 0**

**Correct Marks : 1 Wrong Marks : 0.33**

జాతీయ విపత్తు నిర్వహణ ప్రాధికార సంస్థ(NDMA) నివేదిక 2018-19 ప్రకారం, దేశంలోని 36 రాష్ట్రాలు మరియు కేంద్రపాలిత ప్రాంతాలలో, వాటిలో ఎన్ని విపత్తులకు గురవుతున్నాయి?

**Options :**

1. ✘ 18
2. ✘ 20
3. ✘ 25
4. ✔ 27

**Question Number : 42 Question Id : 630680317945 Is Question Mandatory : No Calculator : None Response Time : N.A Think Time : N.A Minimum Instruction Time : 0**

**Correct Marks : 1 Wrong Marks : 0.33**

సెంటర్ ఫర్ రీసెర్చ్ ఆన్ ది ఎపిడెమియాలజీ ఆఫ్ డిజాస్టర్స్, CRED 2000 ప్రకారం విపత్తుల సమయంలో మరణించే వారిలో మహిళలు మరియు పిల్లలు ఎంత శాతం ఉన్నారు?

**Options :**

1. ✘ 60%
2. ✘ 70%
3. ✘ 75%
4. ✔ 85%

**Question Number : 42 Question Id : 630680317945 Is Question Mandatory : No Calculator : None Response Time : N.A Think Time : N.A Minimum Instruction Time : 0**

**Correct Marks : 1 Wrong Marks : 0.33**

As per the Centre for Research on the Epidemiology of Disasters, CRED 2000 what percentage of deaths during disasters are of women and children?

**Options :**

1. ✘ 60%
2. ✘ 70%
3. ✘ 75%
4. ✔ 85%

**Question Number : 43 Question Id : 630680317946 Is Question Mandatory : No Calculator : None Response Time : N.A Think Time : N.A Minimum Instruction Time : 0**

**Correct Marks : 1 Wrong Marks : 0.33**

In which year was the first Disaster Management Training Institution of India founded at Nagpur as the Central Emergency Relief Training Institute (CERTI) to support the Emergency Relief Organisation of the Government of India?

**Options :**

1. ✘ 1951
2. ✔ 1957
3. ✘ 1962
4. ✘ 1975

**Question Number : 43 Question Id : 630680317946 Is Question Mandatory : No Calculator : None Response Time : N.A Think Time : N.A Minimum Instruction Time : 0**

**Correct Marks : 1 Wrong Marks : 0.33**

భారత ప్రభుత్వం యొక్క అత్యవసర సహాయ సంస్థకు మద్దతుగా నాగ్ పూర్ లో సెంట్రల్ ఎమర్జెన్సీ రిలీఫ్ ట్రైనింగ్ ఇన్ స్టిట్యూట్ (CEERTI)గా భారతదేశంలోని మొట్ట మొదటి విపత్తు నిర్వహణ శిక్షణా సంస్థ ఏ సంవత్సరంలో స్థాపించబడింది?

**Options :**

1. ✘ 1951
2. ✔ 1957
3. ✘ 1962
4. ✘ 1975

**Question Number : 44 Question Id : 630680317947 Is Question Mandatory : No Calculator : None Response Time : N.A Think Time : N.A Minimum Instruction Time : 0**

**Correct Marks : 1 Wrong Marks : 0.33**

జనవరి 26, 2001 భూకంపం తర్వాత వెంటనే 2001లో విపత్తు నిర్వహణ చట్టం, 2005 కింద స్టేట్ డిజాస్టర్ మేనేజ్ మెంట్ అథారిటీ (SDMAలు)ని ఏ రాష్ట్రం ఏర్పాటు చేసింది ?

**Options :**

1. ✘ మహారాష్ట్ర
2. ✘ బీహార్
3. ✔ గుజరాత్

4. ✖ ఒడిషా

**Question Number : 44 Question Id : 630680317947 Is Question Mandatory : No Calculator : None Response Time : N.A Think Time : N.A Minimum Instruction Time : 0**

**Correct Marks : 1 Wrong Marks : 0.33**

Which of the following states constituted State Disaster Management Authority (SDMAs) under the Disaster Management Act, 2005 in 2001 immediately after the 26th January 2001 earthquake?

**Options :**

1. ✖ Maharashtra
2. ✖ Bihar
3. ✔ Gujarat
4. ✖ Odisha

**Question Number : 45 Question Id : 630680317948 Is Question Mandatory : No Calculator : None Response Time : N.A Think Time : N.A Minimum Instruction Time : 0**

**Correct Marks : 1 Wrong Marks : 0.33**

కింది వాటిలో దేశాన్ని వివిధ రకాల విపత్తులకు దుర్బలత్వాన్ని కలిగించే సహజ కారకం ఏది?

**Options :**

1. ✖ అశాస్త్రీయ అభివృద్ధి
2. ✔ తీవ్రమైన వాతావరణ పరిస్థితులు
3. ✖ పెరుగుతున్న జనాభా ఒత్తిడి
4. ✖ ప్రణాళిక లేని పట్టణీకరణ

**Question Number : 45 Question Id : 630680317948 Is Question Mandatory : No Calculator : None Response Time : N.A Think Time : N.A Minimum Instruction Time : 0**

**Correct Marks : 1 Wrong Marks : 0.33**

Which of the following is a natural factor which makes the country prone to various forms of disasters?

**Options :**

1. ✖ Unscientific development
2. ✔ Extreme weather conditions
3. ✖ Increasing demographic pressure
4. ✖ Unplanned urbanisation

**Question Number : 46 Question Id : 630680317949 Is Question Mandatory : No Calculator : None Response Time : N.A Think Time : N.A Minimum Instruction Time : 0**

**Correct Marks : 1 Wrong Marks : 0.33**

Which ministry in India renders technical advice to the States and UTs and Central Ministries on Fire Protection, Fire Prevention and Fire Legislation?

**Options :**

1. ✓ Ministry of Home Affairs
2. ✘ Ministry of Urban Development
3. ✘ Ministry of Earth Sciences
4. ✘ Ministry of Environment, Forest and Climate Change

**Question Number : 46 Question Id : 630680317949 Is Question Mandatory : No Calculator : None Response Time : N.A Think Time : N.A Minimum Instruction Time : 0**

**Correct Marks : 1 Wrong Marks : 0.33**

భారతదేశంలోని ఏ మంత్రిత్వ శాఖ అగ్ని రక్షణ, అగ్నిమాపక నివారణ మరియు అగ్నిమాపక చట్టాలపై రాష్ట్రాలు మరియు కేంద్ర పాలిత ప్రాంతాలు మరియు కేంద్ర మంత్రిత్వ శాఖలకు సాంకేతిక సలహాలను అందిస్తుంది?

**Options :**

1. ✓ హోం వ్యవహారాల మంత్రిత్వ శాఖ
2. ✘ పట్టణాభివృద్ధి మంత్రిత్వ శాఖ
3. ✘ భూ విజ్ఞాన మంత్రిత్వ శాఖ
4. ✘ పర్యావరణ, అటవీ మరియు వాతావరణ మార్పుల మంత్రిత్వ శాఖ

**Question Number : 47 Question Id : 630680317950 Is Question Mandatory : No Calculator : None Response Time : N.A Think Time : N.A Minimum Instruction Time : 0**

**Correct Marks : 1 Wrong Marks : 0.33**

ప్రస్తుత మరియు భవిష్యత్తు విధానాలు మరియు వాతావరణ ఉపశమనానికి మరియు అనుసరణకు సంబంధించిన కార్యక్రమాలను వివరిస్తూ, వాతావరణ మార్పులపై భారతదేశం యొక్క మొట్ట మొదటి జాతీయ కార్యాచరణ ప్రణాళిక (NAPCC)ని ఏ సంవత్సరంలో ప్రధాన మంత్రి డా. మన్మోహన్ సింగ్ విడుదల చేశారు?

**Options :**

1. ✘ 2005
2. ✓ 2008

3. ✘ 2010

4. ✘ 2013

**Question Number : 47 Question Id : 630680317950 Is Question Mandatory : No Calculator : None Response Time : N.A Think Time : N.A Minimum Instruction Time : 0**

**Correct Marks : 1 Wrong Marks : 0.33**

In which year did Prime Minister Dr Manmohan Singh release India's first National Action Plan on Climate Change (NAPCC), outlining existing and future policies and programmes addressing climate mitigation and adaptation?

**Options :**

1. ✘ 2005

2. ✔ 2008

3. ✘ 2010

4. ✘ 2013

**Question Number : 48 Question Id : 630680317951 Is Question Mandatory : No Calculator : None Response Time : N.A Think Time : N.A Minimum Instruction Time : 0**

**Correct Marks : 1 Wrong Marks : 0.33**

Which of the following is the key programme for prevention/control of outbreaks/epidemics of malaria, dengue, chikungunya etc., vaccines administered to reduce the morbidity and mortality due to diseases like measles, diphtheria, pertussis, poliomyelitis etc?

**Options :**

1. ✘ Inter-Sectoral coordination for Prevention and Control of Zoonotic Diseases

2. ✘ Integrated Disease Surveillance Programme

3. ✔ National Vector Borne Diseases Control Programme

4. ✘ Yaws Eradication Programme

**Question Number : 48 Question Id : 630680317951 Is Question Mandatory : No Calculator : None Response Time : N.A Think Time : N.A Minimum Instruction Time : 0**

**Correct Marks : 1 Wrong Marks : 0.33**

మలేరియా, డెంగ్యూ, చికున్గున్యా మొదలైన వ్యాధుల నివారణ/నియంత్రణ, తట్టు, డిఫ్టీరియా, పర్థ్యూసిస్, పోలియోమైలిటిస్ మొదలైన వ్యాధుల వల్ల వచ్చే వ్యాధి మరియు మరణాలను తగ్గించడానికి టీకాలు వేసే ముఖ్య కార్యక్రమం ఏది?

**Options :**

1. ✘ జూనోటిక్ వ్యాధుల నివారణ మరియు నియంత్రణ కోసం ఇంటర్-సెక్టోరల్ కోఆర్డినేషన్

2. ✖ ఇంటిగ్రేటెడ్ డిసీజ్ సర్వైలెన్స్ ప్రోగ్రామ్
3. ✔ నేషనల్ వెక్టర్ బర్న్ డిసీజెస్ కంట్రోల్ ప్రోగ్రామ్
4. ✖ యాస్ నిర్మూలన కార్యక్రమం

**Question Number : 49 Question Id : 630680317952 Is Question Mandatory : No Calculator : None Response Time : N.A Think Time : N.A Minimum Instruction Time : 0**

**Correct Marks : 1 Wrong Marks : 0.33**

To map and monitor the spread of coronavirus disease 2019 (COVID-19) cases, which of the following set up a war room that integrates GIS technology?

**Options :**

1. ✔ Bruhat Bengaluru Mahanagara Palike
2. ✖ Brihanmumbai Municipal Corporation
3. ✖ Kochi Municipal Corporation
4. ✖ Jodhpur Municipal Corporation North

**Question Number : 49 Question Id : 630680317952 Is Question Mandatory : No Calculator : None Response Time : N.A Think Time : N.A Minimum Instruction Time : 0**

**Correct Marks : 1 Wrong Marks : 0.33**

కింది వాటిలో కరోనావైరస్ వ్యాధి 2019 (COVID-19) కేసుల వ్యాప్తిని మ్యాప్ చేయడానికి మరియు పర్యవేక్షించడానికి, GIS సాంకేతికతను అనుసంధానించే వార్ రూమ్ను ఏర్పాటు చేసింది ఏది?

**Options :**

1. ✔ బృహత్ బెంగళూరు మహానగర పాలికే
2. ✖ బృహన్ ముంబై మున్సిపల్ కార్పొరేషన్
3. ✖ కొచ్చి మున్సిపల్ కార్పొరేషన్
4. ✖ జోధ్పూర్ మున్సిపల్ కార్పొరేషన్ నార్త్

**Question Number : 50 Question Id : 630680317953 Is Question Mandatory : No Calculator : None Response Time : N.A Think Time : N.A Minimum Instruction Time : 0**

**Correct Marks : 1 Wrong Marks : 0.33**

In this question, a statement is given followed by two conclusions. Choose the correct response from the given four options:

Statement:

Preparation of an inclusive landslide hazard zonation map needs intensive and continued efforts.

Conclusion:

- A huge quantity of data on lots of variables covering large slope areas has to be collected, stored, sorted and evaluated.
- The use of aerial photographs, satellite images and adoption of remote sensing techniques helps in the collection of data.

Options :

- ✘ Only conclusion (i) is correct.
- ✘ Only conclusion (ii) is correct.
- ✔ Both conclusions (i) and (ii) are correct.
- ✘ None of the conclusions are correct.

**Question Number : 50 Question Id : 630680317953 Is Question Mandatory : No Calculator : None Response Time : N.A Think Time : N.A Minimum Instruction Time : 0**

**Correct Marks : 1 Wrong Marks : 0.33**

ఈ ప్రశ్నలో, ఒక ప్రకటన ఇవ్వబడి, దాని తర్వాత రెండు పర్యవసానాలు ఇవ్వబడి ఉన్నాయి. ఇవ్వబడిన నాలుగు ఐచ్ఛికాల నుండి సరైన సమాధానాన్ని ఎంచుకోండి:

ప్రకటన :

ఇంక్లూజివ్ ల్యాండ్ సైడ్ ప్రమాద జోనేషన్ మ్యాప్ ను సిద్ధం చేయడానికి తీవ్రమైన మరియు నిరంతర ప్రయత్నాలు అవసరం.

పర్యవసానం:

- పెద్ద వాలు ప్రాంతాలను కవర్ చేసే చాలా వైవిధ్యాల విషయంలో భారీ మొత్తంలో డేటాను సేకరించి, నిల్వ చేసి, క్రమబద్ధీకరించి మూల్యాంకనం చేయాలి.
- వైమానిక ఛాయా చిత్రాలు, ఉపగ్రహ చిత్రాలు మరియు రిమోట్ సెన్సింగ్ పద్ధతులను ఉపయోగించడం డేటా సేకరణలో సహాయపడుతుంది.

Options :

- ✘ పర్యవసానం (i) మాత్రమే సరైనది.
- ✘ పర్యవసానం (ii) మాత్రమే సరైనది.
- ✔ పర్యవసానాలు (i) మరియు (ii) రెండు సరైనవి.
- ✘ పర్యవసానాలు ఏవీ సరైనవి కావు.

**Question Number : 51 Question Id : 630680317954 Is Question Mandatory : No Calculator : None Response Time : N.A Think Time : N.A Minimum Instruction Time : 0**

**Correct Marks : 1 Wrong Marks : 0.33**

ఈ ప్రశ్నలో, ఒక ప్రకటన, దాని తర్వాత రెండు పర్యవసానాలు ఇవ్వబడ్డాయి. ఇచ్చిన ఐచ్ఛికాల నుండి సరైన జవాబును ఎంచుకోండి.

ప్రకటన:

మ్యాప్ తయారీలో రిమోట్ సెన్సింగ్ ప్రముఖ సాధనంగా అభివృద్ధి చెందుతోంది, అయితే GIS ను నిల్వ, విశ్లేషణ మరియు తిరిగి పొందడం కోసం ఉపయోగించవచ్చు.

పర్యవసానాలు:

i) రిమోట్ సెన్సింగ్ టెక్నిక్ కింద, ఉపగ్రహ డేటా లేదా వైమానిక ఛాయాచిత్రాలను ఉపయోగించి మ్యాప్లను తయారు చేయవచ్చు, అపై GIS సాఫ్ట్వేర్ని ఉపయోగించి కంప్యూటర్లలో డిజిటలైజ్ చేసి నిల్వ చేయవచ్చు.

ii) సంప్రదాయ మాన్యువల్ మ్యాప్లతో ఉన్న ఇబ్బంది ఏమిటంటే అవి శ్రమతో కూడుకున్నవి మరియు సిద్ధం చేయడానికి సమయం తీసుకుంటాయి, నవీకరించడం కష్టం మరియు నిర్వహణకు అసౌకర్యంగా ఉంటాయి

**Options :**

1. ✖ పర్యవసానం (i) మాత్రమే సరైనది.
2. ✖ పర్యవసానం (ii) మాత్రమే సరైనది.
3. ✔ పర్యవసానాలు (i) మరియు (ii) రెండూ సరైనవి.
4. ✖ పర్యవసానం (i) కానీ లేదా (ii) కానీ ఏదీ సరైనది కాదు.

**Question Number : 51 Question Id : 630680317954 Is Question Mandatory : No Calculator : None Response Time : N.A Think Time :**

**N.A Minimum Instruction Time : 0**

**Correct Marks : 1 Wrong Marks : 0.33**

In this question, a statement is given followed by two conclusions. Select the correct response from the given options.

Statement:

Remote sensing is emerging as a popular means of map preparation while GIS can be used for storage, analysis and retrieval.

Conclusions:

i) Under remote sensing techniques, maps can be prepared using satellite data or aerial photographs, and then digitised and stored on computers using GIS software.

ii) The difficulty with traditional manual maps is that they are tedious and time consuming to prepare, difficult to update and inconvenient to maintain.

**Options :**

1. ✖ Only conclusion (i) is correct.
2. ✖ Only conclusion (ii) is correct.
3. ✔ Both conclusion (i) and (ii) are correct.



4. ✖ Neither conclusion (i) nor (ii) is correct.

**Question Number : 52 Question Id : 630680317955 Is Question Mandatory : No Calculator : None Response Time : N.A Think Time :**

**N.A Minimum Instruction Time : 0**

**Correct Marks : 1 Wrong Marks : 0.33**

Which of the following are Geological related disasters?

- I. Landslides and mudflows
- II. Earthquakes
- III. Dam failure/Dam bursts
- IV. Mine disasters
- V. Cattle epidemics

**Options :**

- 1. ✖ Only I, II and III
- 2. ✖ Both III and V
- 3. ✔ Only I, II, III and IV
- 4. ✖ Only II, III and IV

**Question Number : 52 Question Id : 630680317955 Is Question Mandatory : No Calculator : None Response Time : N.A Think Time :**

**N.A Minimum Instruction Time : 0**

**Correct Marks : 1 Wrong Marks : 0.33**

కింది వాటిలో భౌగోళిక సంబంధిత విపత్తులు ఏవి?

- I. కొండచరియలు విరిగి పడడం మరియు బురద ప్రవాహాలు
- II. భూకంపాలు
- III. ఆనకట్ట వైఫల్యం/ఆనకట్టలు పగిలిపోవడం
- IV. గని విపత్తులు
- V. పశువుల అంటువ్యాధులు

**Options :**

- 1. ✖ I, II మరియు III మాత్రమే
- 2. ✖ III మరియు V రెండూ
- 3. ✔ I, II, III మరియు IV మాత్రమే
- 4. ✖ II, III మరియు IV మాత్రమే

**Question Number : 53 Question Id : 630680317956 Is Question Mandatory : No Calculator : None Response Time : N.A Think Time : N.A Minimum Instruction Time : 0**

**Correct Marks : 1 Wrong Marks : 0.33**

Which of the following is/are the examples of Preparedness activities in India in case of disasters?

- I. Development of local warning and community evacuation plans through community education
- II. Evolving local response structures such as Community based Disaster Management Teams (DMT) and administrative preparedness by way of stockpiling of supplies
- III. Developing emergency plans for rescue and relief

**Options :**

- 1. ✖ Only I
- 2. ✖ Both II and III
- 3. ✖ Only II
- 4. ✔ I, II and III

**Question Number : 53 Question Id : 630680317956 Is Question Mandatory : No Calculator : None Response Time : N.A Think Time : N.A Minimum Instruction Time : 0**

**Correct Marks : 1 Wrong Marks : 0.33**

ఈ క్రింది వాటిలో భారతదేశంలో విపత్తులు సంభవించినప్పుడు సంసిద్ధత కార్యకలాపాలకు ఉదాహరణ/లు ఏది/వి?

- I. సామాజిక విద్య ద్వారా స్థానిక హెచ్చరిక మరియు కమ్యూనిటీ తరలింపు ప్రణాళికలను అభివృద్ధి చేయడం
- II. కమ్యూనిటీ ఆధారిత విపత్తు నిర్వహణ బృందాలు (DMT) వంటి స్థానిక ప్రతిస్పందన నిర్మాణాలను అభివృద్ధి చేయడం మరియు సరఫరాలను నిల్వ చేయడం ద్వారా పాలనా సంసిద్ధత
- III. రక్షణ మరియు సహాయ చర్యల కోసం అత్యవసర ప్రణాళికలను అభివృద్ధి చేయడం

**Options :**

- 1. ✖ I మాత్రమే
- 2. ✖ II మరియు III రెండూ
- 3. ✖ II మాత్రమే
- 4. ✔ I, II మరియు III

**Question Number : 54 Question Id : 630680317957 Is Question Mandatory : No Calculator : None Response Time : N.A Think Time : N.A Minimum Instruction Time : 0**

**Correct Marks : 1 Wrong Marks : 0.33**

Select the option that is true regarding the following two statements labelled Assertion (A) and Reason (R).

Assertion (A): UP and Bihar rank the highest in terms of casualties from cold wave.

Reason (R): The highest casualties in UP and Bihar from cold wave are due to poor level of development and lack of shelters for the outdoor workers and farmers.

**Options :**

1. ✓ Both A and R are true, and R is the correct explanation of A.
2. ✗ Both A and R are true, but R is not the correct explanation of A.
3. ✗ A is true, but R is false.
4. ✗ Both A and R are false.

**Question Number : 54 Question Id : 630680317957 Is Question Mandatory : No Calculator : None Response Time : N.A Think Time : N.A Minimum Instruction Time : 0**

**Correct Marks : 1 Wrong Marks : 0.33**

వాక్యం (A) మరియు కారణం (R) అని లేబుల్ చేయబడిన క్రింది రెండు ప్రకటనలకు సంబంధించి సరైన ఐచ్ఛికాన్ని ఎంచుకోండి.

వాక్యము (A): శీతల గాలుల వల్ల మరణించిన వారి సంఖ్య పరంగా యూపీ, బీహార్లు అత్యధిక స్థానాల్లో ఉన్నాయి.

కారణం (R): శీతల గాలుల ద్వారా UP మరియు బీహార్లలో అత్యధిక మరణాలు సంభవించడానికి కారణం తక్కువ స్థాయి అభివృద్ధి మరియు బయట పని చేసే కార్మికులు మరియు రైతులకు ఆశ్రయం లేకపోవడం.

**Options :**

1. ✓ A మరియు R రెండూ సత్యము మరియు R అనేది A యొక్క సరైన వివరణ.
2. ✗ A మరియు R రెండూ సత్యము, కానీ R అనేది A యొక్క సరైన వివరణ కాదు.
3. ✗ A సత్యము, కానీ R అసత్యము.
4. ✗ A మరియు R రెండూ అసత్యము.

**Question Number : 55 Question Id : 630680317958 Is Question Mandatory : No Calculator : None Response Time : N.A Think Time : N.A Minimum Instruction Time : 0**

**Correct Marks : 1 Wrong Marks : 0.33**

Match the number of Cold Waves which occurred in India from Year 2010-2012.

Year	Number of Cold Waves in India
I. 2010	a. 100
II. 2011	b. 212
III. 2012	c. 218

**Options :**

- ✘ I-a, II-c, III-b
- ✘ I-b, II-c, III-a
- ✔ I-a, II-b, III-c
- ✘ I-b, II-a, III-c

**Question Number : 55 Question Id : 630680317958 Is Question Mandatory : No Calculator : None Response Time : N.A Think Time : N.A Minimum Instruction Time : 0**

**Correct Marks : 1 Wrong Marks : 0.33**

2010-2012 సంవత్సరాలలో భారతదేశంలో సంభవించిన శీతల గాలుల సంఖ్యను జతపరచండి.

సంవత్సరం	భారతదేశంలో శీతల గాలుల సంఖ్య
I. 2010	a. 100
II. 2011	b. 212
III. 2012	c. 218

Options :

1. ✖ I-a, II-c, III-b
2. ✖ I-b, II-c, III-a
3. ✔ I-a, II-b, III-c
4. ✖ I-b, II-a, III-c

Question Number : 56 Question Id : 630680317959 Is Question Mandatory : No Calculator : None Response Time : N.A Think Time : N.A Minimum Instruction Time : 0

Correct Marks : 1 Wrong Marks : 0.33

కింది వాటిలో భారతదేశంలోని పేద వర్గాలకు చెట్లను నాటడం వల్ల ప్రయోజనం కానిది?

Options :

1. ✖ చెట్లు నీడను అందించడం, ఉష్ణోగ్రతను తగ్గించడం మరియు వర్షపాతాన్ని ప్రోత్సహించడం ద్వారా స్థానిక వాతావరణాన్ని వేగంగా మెరుగుపరుస్తాయి.
2. ✖ చెట్లు కంపోస్టింగ్, నీటి నిలుపుదల మరియు నేల కోతను తగ్గించడం ద్వారా నేల నాణ్యతను మెరుగుపరుస్తాయి.
3. ✔ చిన్న పరిశ్రమలు మరియు నీటిపారుదల సౌకర్యాల నుండి వచ్చే అదనపు శబ్దాన్ని చెట్లు శోషించుకుంటాయి.
4. ✖ చెట్లు గ్రామీణ కుటుంబాలకు స్థిరమైన ఆదాయాన్ని మరియు పోషకమైన ఆహారాన్ని అందిస్తాయి.

Question Number : 56 Question Id : 630680317959 Is Question Mandatory : No Calculator : None Response Time : N.A Think Time :

**N.A Minimum Instruction Time : 0**

**Correct Marks : 1 Wrong Marks : 0.33**

Which of the following is NOT a benefit of planting trees for poor communities in India?

**Options :**

1. ✘ Trees rapidly improve the local climate by providing shade, reducing the temperature, and promoting rainfall.
2. ✘ Trees improve soil quality through composting, water retention, and reduction of soil erosion.
3. ✔ Trees absorb the excess noise from small industries and irrigation facilities.
4. ✘ Trees give rural families a source of sustainable income and nutritious food.

**Question Number : 57 Question Id : 630680317960 Is Question Mandatory : No Calculator : None Response Time : N.A Think Time : N.A Minimum Instruction Time : 0**

**Correct Marks : 1 Wrong Marks : 0.33**

Which of the following is NOT among the schemes launched by the Government of India to encourage generation of solar power in the country?

**Options :**

1. ✘ Solar Park Scheme
2. ✘ Viability Gap Funding (VGF) Scheme
3. ✔ 33 Stack Defensive Scheme
4. ✘ Grid Connected Solar Rooftop Scheme

**Question Number : 57 Question Id : 630680317960 Is Question Mandatory : No Calculator : None Response Time : N.A Think Time : N.A Minimum Instruction Time : 0**

**Correct Marks : 1 Wrong Marks : 0.33**

కింది వాటిలో దేశంలో సౌర విద్యుత్ ఉత్పత్తిని ప్రోత్సహించడానికి భారత ప్రభుత్వం ప్రారంభించిన పథకం కానిది ఏది?

**Options :**

1. ✘ సోలార్ పార్క్ పథకం
2. ✘ వయబిలిటీ గ్యాప్ ఫండింగ్ (VGF) పథకం
3. ✔ 33 స్టాక్ డిఫెన్సివ్ పథకం
4. ✘ గ్రిడ్ కనెక్టెడ్ సోలార్ రూఫ్ టాప్ పథకం

**Question Number : 58 Question Id : 630680317961 Is Question Mandatory : No Calculator : None Response Time : N.A Think Time : N.A Minimum Instruction Time : 0**

**Correct Marks : 1 Wrong Marks : 0.33**

Which of the following water borne diseases caused maximum deaths in India during the period 2017 to 2021?

**Options :**

1. ✖ Viral hepatitis
2. ✖ Cholera
3. ✖ Typhoid
4. ✔ Acute diarrhoeal diseases

**Question Number : 58 Question Id : 630680317961 Is Question Mandatory : No Calculator : None Response Time : N.A Think Time : N.A Minimum Instruction Time : 0**

**Correct Marks : 1 Wrong Marks : 0.33**

నీటి ద్వారా సంక్రమించే క్రింది ఏ వ్యాధి 2017 నుండి 2021 మధ్య కాలంలో భారతదేశంలో అత్యధిక మరణాలకు కారణమయ్యింది?

**Options :**

1. ✖ వైరల్ హెపటైటిస్
2. ✖ కలరా
3. ✖ టైఫాయిడ్
4. ✔ తీవ్రమైన డయేరియా వ్యాధులు

**Question Number : 59 Question Id : 630680317962 Is Question Mandatory : No Calculator : None Response Time : N.A Think Time : N.A Minimum Instruction Time : 0**

**Correct Marks : 1 Wrong Marks : 0.33**

SDG 3 - మంచి ఆరోగ్యం మరియు శ్రేయస్సును సాధించడంలో భారతదేశం ఎదుర్కొంటున్న సవాళ్లు ఏవి?

- I. ప్రైవేట్ ఆరోగ్య సంరక్షణ ఖరీదైనది మరియు భారతదేశంలో సేవల నాణ్యత మరియు ఖర్చులలో వ్యత్యాసం ఉంటుంది.
- II. కేంద్ర ప్రభుత్వ, రాష్ట్ర ప్రభుత్వ అనుపత్రుల మధ్య సమన్వయం తప్పనిసరి.
- III. ప్రజారోగ్య సంరక్షణ చాలా చౌకైనప్పటికీ అది నమ్మదగనిది.
- IV. ముఖ్యంగా గ్రామీణ ప్రాంతాల్లో ఆరోగ్య సంరక్షణ అందుబాటులో లేదు.
- V. ఆహారం నుండి జీవనశైలి వరకు నివారణ సంరక్షణకు సంబంధించిన అవగాహనకు తరచూ ప్రోత్సాహం లభించదు.

**Options :**

1. ✖ I, II, III మరియు IV మాత్రమే
2. ✖ II, III, IV మరియు V మాత్రమే
3. ✔ I, III, IV మరియు V మాత్రమే

## 4. ✖ II, IV మరియు V మాత్రమే

**Question Number : 59 Question Id : 630680317962 Is Question Mandatory : No Calculator : None Response Time : N.A Think Time : N.A Minimum Instruction Time : 0**

**Correct Marks : 1 Wrong Marks : 0.33**

Which of the following are the challenges faced by India in achieving SDG 3 – Good health and well-being?

- I. Private healthcare can be expensive and varies in quality and costs of services in India.
- II. Coordination between Central Government and State Government hospitals is compulsory.
- III. Public healthcare though much cheaper is unreliable.
- IV. Accessibility of healthcare particularly in rural areas is lacking.
- V. Awareness regarding preventive care, from diet to lifestyle, are often underappreciated.

**Options :**

- 1. ✖ Only I, II, III and IV
- 2. ✖ Only II, III, IV and V
- 3. ✔ Only I, III, IV and V
- 4. ✖ Only II, IV and V

**Question Number : 60 Question Id : 630680317963 Is Question Mandatory : No Calculator : None Response Time : N.A Think Time : N.A Minimum Instruction Time : 0**

**Correct Marks : 1 Wrong Marks : 0.33**

Match the Five Year Plans implemented in India (Column A) to the years of their launch (Column B).

<u>Column A</u>	<u>Column B</u>
A) Seventh Five Year Plan	I) 1961
B) Fourth Five Year Plan	II) 1985
C) Fifth Five Year Plan	III) 1969
D) Third Five Year Plan	IV) 1974



**Options :**

1. ✘ A - IV, B - I, C - III, D - II
2. ✔ A - II, B - III, C - IV, D - I
3. ✘ A - III, B - IV, C - I, D - II
4. ✘ A - I, B - II, C - III, D - IV

**Question Number : 60 Question Id : 630680317963 Is Question Mandatory : No Calculator : None Response Time : N.A Think Time : N.A Minimum Instruction Time : 0**

**Correct Marks : 1 Wrong Marks : 0.33**

భారతదేశంలో అమలు చేయబడిన పంచవర్ష ప్రణాళికలను (కాలమ్ A) అవి ప్రారంభమైన సంవత్సరాలతో (కాలమ్ B) సరిపోల్పండి.

కాలమ్ A	కాలమ్ B
A) ఏడవ పంచవర్ష ప్రణాళిక	I) 1961
B) నాల్గవ పంచవర్ష ప్రణాళిక	II) 1985
C) ఐదవ పంచవర్ష ప్రణాళిక	III) 1969
D) మూడవ పంచవర్ష ప్రణాళిక	IV) 1974

**Options :**

1. ✘ A - IV, B - I, C - III, D - II
2. ✔ A - II, B - III, C - IV, D - I
3. ✘ A - III, B - IV, C - I, D - II
4. ✘ A - I, B - II, C - III, D - IV

**Question Number : 61 Question Id : 630680317964 Is Question Mandatory : No Calculator : None Response Time : N.A Think Time : N.A Minimum Instruction Time : 0**

**Correct Marks : 1 Wrong Marks : 0.33**

కింది వాటిలో ఏది హరిత విప్లవానికి సంబంధించినది కాదు?

**Options :**

1. ✖ ఇందులో అధిక దిగుబడినిచ్చే వంగడాల మెరుగైన విత్తనాలను ఉపయోగించడం జరిగింది.
2. ✔ ఇందులో అధిక పాలను ఇచ్చే యూరోపియన్ జాతి వాటితో దేశీయ ఆవులను సంకరపరచడం జరిగింది.
3. ✖ నీటిపారుదల కొరకు తగినంత మరియు హామీ ఇవ్వబడిన నీటి సరఫరా అవసరం అయ్యింది.
4. ✖ దీనికి రసాయన ఎరువులను ఎక్కువ మొత్తంలో మరియు తగినంతగా ఉపయోగించడం అవసరం అయ్యింది.

**Question Number : 61 Question Id : 630680317964 Is Question Mandatory : No Calculator : None Response Time : N.A Think Time : N.A Minimum Instruction Time : 0**

**Correct Marks : 1 Wrong Marks : 0.33**

Which of the following statements is NOT relevant to the Green Revolution?

**Options :**

1. ✖ It involved use of improved seeds of high yielding varieties.
2. ✔ It involved crossbreeding of indigenous cows with high milk yielding European breed.
3. ✖ It needed adequate and assured supply of water for irrigation.
4. ✖ It needed increased and appropriate application of chemical fertilisers.

**Question Number : 62 Question Id : 630680317965 Is Question Mandatory : No Calculator : None Response Time : N.A Think Time : N.A Minimum Instruction Time : 0**

**Correct Marks : 1 Wrong Marks : 0.33**

స్వాతంత్ర్యానికి ముందు, తగినంత \_\_\_\_\_ లేకపోవడం వల్ల భారతదేశంలో పారిశ్రామికీకరణ

రేటు నెమ్మదిగా ఉంది.

**Options :**

1. ✖ పత్తి టెక్స్టైల్ మిల్లులు
2. ✔ మూలధన వస్తువుల పరిశ్రమలు
3. ✖ సిమెంట్ పరిశ్రమలు
4. ✖ ఇనుము మరియు ఉక్కు పరిశ్రమలు

**Question Number : 62 Question Id : 630680317965 Is Question Mandatory : No Calculator : None Response Time : N.A Think Time :**

**N.A Minimum Instruction Time : 0**

**Correct Marks : 1 Wrong Marks : 0.33**

Before independence, the rate of industrialisation in India was slow due to lack of sufficient \_\_\_\_\_.

**Options :**

1. ✘ cotton textile mills
2. ✔ capital goods industries
3. ✘ cement industries
4. ✘ iron and steel industries

**Question Number : 63 Question Id : 630680317966 Is Question Mandatory : No Calculator : None Response Time : N.A Think Time : N.A Minimum Instruction Time : 0**

**Correct Marks : 1 Wrong Marks : 0.33**

బ్రిటీష్ పాలనలో భారతదేశంలో వ్యవసాయ రంగం గురించి కింది వాటిలో సరైనది ఏది?

**Options :**

1. ✔ జమీందారీ వ్యవస్థలో వ్యవసాయ రంగం నుండి వచ్చే లాభం జమీందార్లకు చేరింది.
2. ✘ జమీందారీ వ్యవస్థ నిబంధనల ప్రకారం, నిర్ణీత తేదీలోపు నిర్దేశిత రాబడిని జమ చేయని సాగుదారులు తమ హక్కులను కోల్పోయారు.
3. ✘ భారతదేశంలోని రైతులు బ్రిటీష్ పరిశ్రమల ఉపయోగం కోసం ఆహార పంటలను ఉత్పత్తి చేస్తున్నారు.
4. ✘ భారతదేశంలో వ్యవసాయ ఉత్పాదకత తక్కువగా ఉండటానికి దోహదపడిన కారణాలలో ఎరువుల గణనీయమైన వినియోగం ఒకటి.

**Question Number : 63 Question Id : 630680317966 Is Question Mandatory : No Calculator : None Response Time : N.A Think Time : N.A Minimum Instruction Time : 0**

**Correct Marks : 1 Wrong Marks : 0.33**

Which of the following statements about agricultural sector in India under the British rule is correct?

**Options :**

1. ✔ Under the zamindari system, the profit accruing out of the agriculture sector went to the zamindars.
2. ✘ Cultivators who did not deposit specified sums of revenue by a fixed date lost their rights, as per the terms of the zamindari system.
3. ✘ Farmers in India were producing food crops for use by British industries.
4. ✘ Substantial use of fertilisers was one of the reasons that contributed to low level of agricultural productivity in India.

**Question Number : 64 Question Id : 630680317967 Is Question Mandatory : No Calculator : None Response Time : N.A Think Time : N.A Minimum Instruction Time : 0**

**Correct Marks : 1 Wrong Marks : 0.33**

కింది ఏ పంచవర్ష ప్రణాళికల సమయంలో భారతదేశంలో 'కరువు పీడిత ప్రాంతాల కార్యక్రమం (DPAP)' ప్రారంభించబడింది?

**Options :**

1. ✖ ఆరవ పంచవర్ష ప్రణాళిక
2. ✖ ఐదవ పంచవర్ష ప్రణాళిక
3. ✖ మూడవ పంచవర్ష ప్రణాళిక
4. ✔ నాల్గవ పంచవర్ష ప్రణాళిక

**Question Number : 64 Question Id : 630680317967 Is Question Mandatory : No Calculator : None Response Time : N.A Think Time : N.A Minimum Instruction Time : 0**

**Correct Marks : 1 Wrong Marks : 0.33**

During which of the following Five Year Plans was the 'Drought Prone Area Programme' initiated in India?

**Options :**

1. ✖ Sixth Five Year Plan
2. ✖ Fifth Five Year Plan
3. ✖ Third Five Year Plan
4. ✔ Fourth Five Year Plan

**Question Number : 65 Question Id : 630680317968 Is Question Mandatory : No Calculator : None Response Time : N.A Think Time : N.A Minimum Instruction Time : 0**

**Correct Marks : 1 Wrong Marks : 0.33**

1950లో, గరిష్ఠంగా ₹ \_\_\_\_\_ వరకు పెట్టుబడి పెట్టిన ఒక ఎంటర్ప్రైజ్ భారతదేశంలో 'చిన్న-తరహా పారిశ్రామిక యూనిట్'గా వర్గీకరించబడింది.

**Options :**

1. ✖ ఎనిమిది లక్షలు
2. ✖ ఏడు లక్షలు
3. ✔ ఐదు లక్షలు
4. ✖ పది లక్షలు

**Question Number : 65 Question Id : 630680317968 Is Question Mandatory : No Calculator : None Response Time : N.A Think Time : N.A Minimum Instruction Time : 0**

**Correct Marks : 1 Wrong Marks : 0.33**

In 1950, an enterprise which invested a maximum of ₹ \_\_\_\_\_ was classified as a 'small-scale industrial unit' in India.

**Options :**

1. ✘ eight lakhs
2. ✘ seven lakhs
3. ✔ five lakhs
4. ✘ ten lakhs

**Question Number : 66 Question Id : 630680317969 Is Question Mandatory : No Calculator : None Response Time : N.A Think Time :**

**N.A Minimum Instruction Time : 0**

**Correct Marks : 1 Wrong Marks : 0.33**

SPMRM అనేది 2016లో ' పట్టణ స్వభావంగా భావించే సౌకర్యాలతో రాజీపడకుండా సమానత్వం మరియు సమగ్రతపై దృష్టి సారించి గ్రామీణ సమాజ జీవన సారాన్ని సంరక్షించే మరియు పెంపొందించే గ్రామాల సమూహాన్ని అభివృద్ధి చేయడం' లక్ష్యంతో ప్రారంభించబడింది.

SPMRM అనేది \_\_\_\_\_ కి సంక్షిప్త రూపం.

**Options :**

1. ✘ శ్యామా ప్రసాద్ ముఖర్జీ రూరల్ మిషన్
2. ✘ శ్యామా ప్రసాద్ ముఖర్జీ రివైవల్ మిషన్
3. ✔ శ్యామా ప్రసాద్ ముఖర్జీ రూర్బన్ మిషన్
4. ✘ శ్యామా ప్రసాద్ ముఖర్జీ రిక్లమేషన్ మిషన్

**Question Number : 66 Question Id : 630680317969 Is Question Mandatory : No Calculator : None Response Time : N.A Think Time :**

**N.A Minimum Instruction Time : 0**

**Correct Marks : 1 Wrong Marks : 0.33**

SPMRM was launched in 2016 with a goal of 'development of a cluster of villages that preserve and nurture the essence of rural community life with focus on equity and inclusiveness without compromising with the facilities perceived to be essentially urban in nature'.

SPMRM is an acronym for \_\_\_\_\_.

**Options :**

1. ✘ Shyama Prasad Mukherji Rural Mission
2. ✘ Shyama Prasad Mukherji Revival Mission
3. ✔ Shyama Prasad Mukherji Rurban Mission
4. ✘ Shyama Prasad Mukherji Reclamation Mission

**Question Number : 67 Question Id : 630680317970 Is Question Mandatory : No Calculator : None Response Time : N.A Think Time : N.A Minimum Instruction Time : 0**

**Correct Marks : 1 Wrong Marks : 0.33**

గ్లోబల్ మల్టీ డైమెన్షనల్ పావర్టీ ఇండెక్స్ (ప్రపంచ బహుమితీయ పేదరిక సూచి) 2022 ప్రకారం, భారతదేశ MPI విలువ 2019-21లో \_\_\_\_\_ వద్ద ఉంది.

**Options :**

1. ✘ 0.960
2. ✘ 0.690
3. ✘ 0.096
4. ✔ 0.069

**Question Number : 67 Question Id : 630680317970 Is Question Mandatory : No Calculator : None Response Time : N.A Think Time : N.A Minimum Instruction Time : 0**

**Correct Marks : 1 Wrong Marks : 0.33**

As per the Global Multidimensional Poverty Index 2022, India's MPI value stood at \_\_\_\_\_ in 2019-21.

**Options :**

1. ✘ 0.960
2. ✘ 0.690
3. ✘ 0.096
4. ✔ 0.069

**Question Number : 68 Question Id : 630680317971 Is Question Mandatory : No Calculator : None Response Time : N.A Think Time : N.A Minimum Instruction Time : 0**

**Correct Marks : 1 Wrong Marks : 0.33**

పాఠశాలలు, విద్యా సంస్థలు, పరిశోధనా సంస్థలు మరియు MSMEలతో సహా పరిశ్రమలలో ఆవిష్కరణ మరియు వ్యవస్థాపకత యొక్క వాతావరణాన్ని సృష్టించడం మరియు ప్రోత్సహించడం అనే లక్ష్యంతో అటల్ ఇన్నోవేషన్ మిషన్ (AIM) 2016లో \_\_\_\_\_ ద్వారా స్థాపించబడింది.

**Options :**

1. ✔ నీతి ఆయోగ్
2. ✘ ఆల్ ఇండియా కౌన్సిల్ ఫర్ టెక్నికల్ ఎడ్యుకేషన్
3. ✘ యూనివర్సిటీ గ్రాంట్స్ కమిషన్
4. ✘ విద్య మరియు పరిశోధన నెట్వర్క్

**Question Number : 68 Question Id : 630680317971 Is Question Mandatory : No Calculator : None Response Time : N.A Think Time : N.A Minimum Instruction Time : 0**

**Correct Marks : 1 Wrong Marks : 0.33**

The Atal Innovation Mission (AIM) was set up by the \_\_\_\_\_ in 2016, with an objective to create and encourage an environment of innovation and entrepreneurship across schools, educational organisations, research institutes and industries including MSMEs.

**Options :**

1. ✓ NITI Aayog
2. ✘ All India Council for Technical Education
3. ✘ University Grants Commission
4. ✘ Education and Research Network

**Question Number : 69 Question Id : 630680317972 Is Question Mandatory : No Calculator : None Response Time : N.A Think Time : N.A Minimum Instruction Time : 0**

**Correct Marks : 1 Wrong Marks : 0.33**

As of June 2023, the target group for Deen Dayal Upadhyaya Grameen Kaushalya Yojana are poor rural youth in the age group of \_\_\_\_\_ years, with relaxation in upper limit for specific vulnerable groups.

**Options :**

1. ✘ 15 - 25
2. ✓ 15 - 35
3. ✘ 15 - 50
4. ✘ 15 - 60

**Question Number : 69 Question Id : 630680317972 Is Question Mandatory : No Calculator : None Response Time : N.A Think Time : N.A Minimum Instruction Time : 0**

**Correct Marks : 1 Wrong Marks : 0.33**

జూన్ 2023 నాటికి, దీన్ దయాళ్ ఉపాధ్యాయ గ్రామీణ కౌశల్య యోజన యొక్క లక్ష్య సమూహం \_\_\_\_\_ సంవత్సరాల వయస్సు గల పేద గ్రామీణ యువత, ఇందులో నిర్దిష్ట బలహీన వర్గాలకు గరిష్ట వయో పరిమితిలో సడలింపు ఉంటుంది.

**Options :**

1. ✘ 15 - 25
2. ✓ 15 - 35
3. ✘ 15 - 50

4. ✖ 15 - 60

**Question Number : 70 Question Id : 630680317973 Is Question Mandatory : No Calculator : None Response Time : N.A Think Time : N.A Minimum Instruction Time : 0**

**Correct Marks : 1 Wrong Marks : 0.33**

Match the expert groups constituted to estimate the number of people living in poverty in India (Column A) to the features (Column B).

<u>Column A</u>	<u>Column B</u>
A) Task Force headed by Dr. YK Alagh (1979)	I) It adopted the officially measured urban poverty line of 2004-05 (25.7%) based on Lakdawala Expert Group methodology.
B) Study by VM Dandekar and N Rath (1971)	II) It quantified the poverty line in India for the first time in terms of a minimum requirement (food and non-food) of individuals for healthy living.
C) Tendulkar Expert Group (2009)	III) It defined the poverty line as the per capita consumption expenditure level to meet average per capita daily calorie requirement of 2400 kcal per capita per day in rural areas and 2100 kcal per capita per day in urban areas.
D) Working Group (1962)	IV) It first established the consumption levels required to meet a minimum calorie norm of an average calorie norm of 2,250 calories per capita per day.

**Options :**

1. ✖ A - IV, B - III, C - II, D - I
2. ✔ A - III, B - IV, C - I, D - II
3. ✖ A - II, B - I, C - IV, D - III
4. ✖ A - I, B - II, C - III, D - IV

**Question Number : 70 Question Id : 630680317973 Is Question Mandatory : No Calculator : None Response Time : N.A Think Time :**



**N.A Minimum Instruction Time : 0**

**Correct Marks : 1 Wrong Marks : 0.33**

భారతదేశంలో పేదరికంలో జీవిస్తున్న వ్యక్తుల సంఖ్యను అంచనా వేయడానికి ఏర్పాటు చేసిన నిపుణుల సమూహాలను (కాలమ్ A) వాటి లక్షణాలతో (కాలమ్ B) సరిపోల్పండి .

కాలమ్ A	కాలమ్ B
A) డా. వై.కె. అలమ్ నేతృత్వంలోని టాస్క్ ఫోర్స్ (1979)	I) ఇది లక్షావాలా ఎక్స్‌పర్ట్ గ్రూప్ మెథడాలజీ ఆధారంగా అధికారికంగా కొలిచిన 2004-05 (25.7%) పట్టణ దారిద్ర్య రేఖను స్వీకరించింది.
B) VM దండేకర్ మరియు N రాత్ అధ్యయనం (1971)	II) ఆరోగ్యకరమైన జీవనం కోసం వ్యక్తుల కనీస అవసరాలు (ఆహారం మరియు ఆహారేతర) పరంగా ఇది మొదటిసారిగా భారతదేశంలో దారిద్ర్య రేఖను లెక్కించింది.
C) టెండూల్కర్ నిపుణుల బృందం (2009)	III) ఇది దారిద్ర్య రేఖను తలసరి వినియోగ వ్యయ స్థాయిగా నిర్వచించింది, గ్రామీణ ప్రాంతాల్లో తలసరి రోజుకు 2400 కిలో కేలరీలు మరియు పట్టణ ప్రాంతాల్లో తలసరి రోజుకు 2100 కిలో కేలరీలు సగటు తలసరి రోజువారీ కేలరీల అవసరాన్ని తీర్చడానికి ఏర్పాటుయ్యింది.
D) వర్కింగ్ గ్రూప్ (1962)	IV) ఇది మొదట రోజుకు తలసరి 2,250 కేలరీల సగటు క్యాలరీ ప్రమాణం యొక్క కనీస క్యాలరీ ప్రమాణాన్ని చేరుకోవడానికి అవసరమైన వినియోగ స్థాయిలను ఏర్పాటు చేసింది.

**Options :**

1. ✘ A - IV, B - III, C - II, D - I
2. ✔ A - III, B - IV, C - I, D - II
3. ✘ A - II, B - I, C - IV, D - III
4. ✘ A - I, B - II, C - III, D - IV

**Question Number : 71 Question Id : 630680317974 Is Question Mandatory : No Calculator : None Response Time : N.A Think Time :**

**N.A Minimum Instruction Time : 0**

**Correct Marks : 1 Wrong Marks : 0.33**

ఇండియన్ మినరల్స్ ఇయర్‌బుక్ 2021 ప్రకారం, \_\_\_\_\_ 2020-21లో 99% ఉత్పత్తితో ప్రాథమిక బంగారం ఉత్పత్తిలో అగ్రగామిగా ఉంది.

**Options :**

1. ✓ కర్ణాటక
2. ✗ ఛత్తీస్‌గఢ్
3. ✗ మధ్యప్రదేశ్
4. ✗ కేరళ

**Question Number : 71 Question Id : 630680317974 Is Question Mandatory : No Calculator : None Response Time : N.A Think Time : N.A Minimum Instruction Time : 0**

**Correct Marks : 1 Wrong Marks : 0.33**

As per the Indian Minerals Yearbook 2021, \_\_\_\_\_ was the leading producer of primary gold accounting for 99% production in 2020-21.

**Options :**

1. ✓ Karnataka
2. ✗ Chhattisgarh
3. ✗ Madhya Pradesh
4. ✗ Kerala

**Question Number : 72 Question Id : 630680317975 Is Question Mandatory : No Calculator : None Response Time : N.A Think Time : N.A Minimum Instruction Time : 0**

**Correct Marks : 1 Wrong Marks : 0.33**

హిమాద్రి పర్వత శ్రేణి గురించిన కింది ప్రకటనలలో ఏది తప్పు?

**Options :**

1. ✗ ఇది హిమాలయాలకు అత్యంత ఉత్తరాన ఉన్న శ్రేణి.
2. ✗ ఇది హిమాలయాలలో అతి ఎత్తైన శ్రేణి.
3. ✗ ఇది పశ్చిమం నుండి తూర్పు వరకు విస్తరించి ఉంది.
4. ✓ డెహ్రాడూన్ ఈ శ్రేణిలోనే ఉంది.

**Question Number : 72 Question Id : 630680317975 Is Question Mandatory : No Calculator : None Response Time : N.A Think Time : N.A Minimum Instruction Time : 0**

**Correct Marks : 1 Wrong Marks : 0.33**

Which of the following statements about the Himadri Range is INCORRECT?

**Options :**

- ✘ It is the northernmost range of the Himalayas.
- ✘ It is the highest range of the Himalayas.
- ✘ It maintains its continuity from west to east.
- ✔ Dehradun is situated in this range.

**Question Number : 73 Question Id : 630680317976 Is Question Mandatory : No Calculator : None Response Time : N.A Think Time : N.A Minimum Instruction Time : 0**

**Correct Marks : 1 Wrong Marks : 0.33**

బ్రహ్మపుత్ర నది మరియు దాని ఉపనదుల గమనాన్ని మార్చడం \_\_\_\_\_ ద్వీపం ఏర్పడటానికి దారితీసింది.

**Options :**

- ✔ మజులీ
- ✘ డయ్యూ
- ✘ పాంబన్
- ✘ కార్ నికోబార్

**Question Number : 73 Question Id : 630680317976 Is Question Mandatory : No Calculator : None Response Time : N.A Think Time : N.A Minimum Instruction Time : 0**

**Correct Marks : 1 Wrong Marks : 0.33**

The changing course of the river Brahmaputra and its tributaries led to the formation of \_\_\_\_\_ island.

**Options :**

- ✔ Majuli
- ✘ Diu
- ✘ Pamban
- ✘ Car Nicobar

**Question Number : 74 Question Id : 630680317977 Is Question Mandatory : No Calculator : None Response Time : N.A Think Time : N.A Minimum Instruction Time : 0**

**Correct Marks : 1 Wrong Marks : 0.33**

భూమి లోపలి భాగంలో సంభవించే ఆకస్మిక కదలికలు \_\_\_\_\_ కు కారణమవుతుంది/ సృష్టించవచ్చు.

**Options :**

- ✔ అగ్నిపర్వతాలు

2. ✖ ఖండాలు
3. ✖ పీఠభూములు
4. ✖ మహాసముద్రాలు

**Question Number : 74 Question Id : 630680317977 Is Question Mandatory : No Calculator : None Response Time : N.A Think Time : N.A Minimum Instruction Time : 0**

**Correct Marks : 1 Wrong Marks : 0.33**

The Sudden movements in the interior of the earth can cause/create \_\_\_\_\_.

**Options :**

1. ✔ volcanoes
2. ✖ continents
3. ✖ plateaus
4. ✖ oceans

**Question Number : 75 Question Id : 630680317978 Is Question Mandatory : No Calculator : None Response Time : N.A Think Time : N.A Minimum Instruction Time : 0**

**Correct Marks : 1 Wrong Marks : 0.33**

\_\_\_\_\_ అనేది నది ఎగువ భాగంలో ఏర్పడిన ఒక భూ లక్షణం .

**Options :**

1. ✖ వరద మైదానం
2. ✖ ఒండ్రు ఫ్యాన్
3. ✔ లోయ (క్యానియోన్)
4. ✖ డెల్టా

**Question Number : 75 Question Id : 630680317978 Is Question Mandatory : No Calculator : None Response Time : N.A Think Time : N.A Minimum Instruction Time : 0**

**Correct Marks : 1 Wrong Marks : 0.33**

A/An \_\_\_\_\_ is a land feature formed by a river in its upper course.

**Options :**

1. ✖ flood plain
2. ✖ alluvial fan

3. ✓ canyon

4. ✗ delta

**Question Number : 76 Question Id : 630680317979 Is Question Mandatory : No Calculator : None Response Time : N.A Think Time : N.A Minimum Instruction Time : 0**

**Correct Marks : 1 Wrong Marks : 0.33**

ఇండియన్ మినరల్స్ ఇయర్బుక్ 2021 ప్రకారం, భారతదేశం 2020-21లో సుమారు \_\_\_\_\_ మిలియన్ టన్నుల ఇనుప ఖనిజాన్ని ఉత్పత్తి చేసింది.

**Options :**

1. ✗ 103

2. ✓ 204

3. ✗ 301

4. ✗ 402

**Question Number : 76 Question Id : 630680317979 Is Question Mandatory : No Calculator : None Response Time : N.A Think Time : N.A Minimum Instruction Time : 0**

**Correct Marks : 1 Wrong Marks : 0.33**

As per the Indian Minerals Yearbook 2021, India produced about \_\_\_\_\_ million tonnes of iron ore in 2020-21.

**Options :**

1. ✗ 103

2. ✓ 204

3. ✗ 301

4. ✗ 402

**Question Number : 77 Question Id : 630680317980 Is Question Mandatory : No Calculator : None Response Time : N.A Think Time : N.A Minimum Instruction Time : 0**

**Correct Marks : 1 Wrong Marks : 0.33**

Select the option that is correct regarding the correctness of the following two statements labelled Assertion (A) and Reason (R).

A: Two of the highest peaks of Himalayas, Mt. Everest (in Nepal) and Kanchenjunga are not very far from the plains.

R: In the east, the Himalayas rise almost abruptly from the plains of West Bengal and Assam.

**Options :**

1. ✓ Both A and R are individually true, and R is the correct explanation of A

2. ✖ Both A and R are individually true, but R is not the correct explanation of A
3. ✖ A is true but R is false
4. ✖ A is false but R is true

**Question Number : 77 Question Id : 630680317980 Is Question Mandatory : No Calculator : None Response Time : N.A Think Time : N.A Minimum Instruction Time : 0**

**Correct Marks : 1 Wrong Marks : 0.33**

వాక్యం (A) మరియు కారణం (R) అని లేబుల్ చేయబడిన క్రింది రెండు ప్రకటనల ఖచ్చితత్వానికి సంబంధించి సరైన ఎంపికను ఎంచుకోండి.

(A): హిమాలయాలలోని ఎత్తైన రెండు శిఖరాలు, మౌంట్ ఎవరెస్ట్ (నేపాల్‌లో) మరియు కాంచనజంగాలు మైదానాలకు చాలా దూరంలో లేవు.

(R): తూర్పున, పశ్చిమ బెంగాల్ మరియు అస్సాం మైదానాల నుండి హిమాలయాల ఎత్తు ఆకస్మికంగా పెరుగుతుంది.

**Options :**

1. ✔ A మరియు R రెండూ విడివిడిగా సత్యములు మరియు R అనేది A యొక్క సరైన వివరణ
2. ✖ A మరియు R రెండూ విడివిడిగా సత్యములు, కానీ R అనేది A యొక్క సరైన వివరణ కాదు
3. ✖ A సత్యం కానీ R అసత్యం
4. ✖ A అసత్యం కానీ R సత్యం

**Question Number : 78 Question Id : 630680317981 Is Question Mandatory : No Calculator : None Response Time : N.A Think Time : N.A Minimum Instruction Time : 0**

**Correct Marks : 1 Wrong Marks : 0.33**

'హార్స్‌షైన్' \_\_\_\_\_ తో అనుబంధమై ఉన్న లక్షణాలు.

**Options :**

1. ✖ పాత ముడుత పర్వతాలు
2. ✖ కొత్త ముడుత పర్వతాలు
3. ✔ బ్లాక్ పర్వతాలు
4. ✖ అగ్నిపర్వత పర్వతాలు

**Question Number : 78 Question Id : 630680317981 Is Question Mandatory : No Calculator : None Response Time : N.A Think Time : N.A Minimum Instruction Time : 0**

**Correct Marks : 1 Wrong Marks : 0.33**

'Horsts' are features associated with \_\_\_\_\_.

**Options :**

1. ✘ old fold mountains
2. ✘ new fold mountains
3. ✔ block mountains
4. ✘ volcanic mountains

**Question Number : 79 Question Id : 630680317982 Is Question Mandatory : No Calculator : None Response Time : N.A Think Time : N.A Minimum Instruction Time : 0**

**Correct Marks : 1 Wrong Marks : 0.33**

Match the regions of the Northern plains (Column A) to their features (Column B).

<u>Column A</u>	<u>Column B</u>
A) bangar (bhangar)	I) made of pebbles/gravel
B) khadar	II) marshy land
C) bhabar	III) never covered with flood water of rivers
D) terai	IV) flooded by streams almost every year

**Options :**

1. ✘ A - IV, B - III, C - II, D - I
2. ✔ A - III, B - IV, C - I, D - II
3. ✘ A - II, B - I, C - IV, D - III
4. ✘ A - I, B - II, C - III, D - IV

**Question Number : 79 Question Id : 630680317982 Is Question Mandatory : No Calculator : None Response Time : N.A Think Time : N.A Minimum Instruction Time : 0**

Correct Marks : 1 Wrong Marks : 0.33

ఉత్తర మైదానాల ప్రాంతాలను (కాలమ్ A) వాటి లక్షణాలతో (కాలమ్ B) సరిపోల్పండి.

కాలమ్ A	కాలమ్ B
A) బంగర్ (భంగర్)	I) గులకరాళ్లు/కంకరతో కూడి ఉంటాయి
B) ఖాదర్	II) చిత్తడి నేల
C) భాబర్	III) నదుల వరద నీటితో ఎప్పుడూ ముంపుకు గురి కానివి
D) తెరాయ్	IV) దాదాపు ప్రతి సంవత్సరం ప్రవాహాల ద్వారా ముంపుకు గురవుతుంది

Options :

1. ✘ A - IV, B - III, C - II, D - I
2. ✔ A - III, B - IV, C - I, D - II
3. ✘ A - II, B - I, C - IV, D - III
4. ✘ A - I, B - II, C - III, D - IV

Question Number : 80 Question Id : 630680317983 Is Question Mandatory : No Calculator : None Response Time : N.A Think Time : N.A Minimum Instruction Time : 0

Correct Marks : 1 Wrong Marks : 0.33

సున్నపురాయి గుహల పైకప్పుల నుండి వేలాడుతున్న ఘన శంఖాకార నిక్షేపణ లక్షణాలను \_\_\_\_\_ అంటారు.

Options :

1. ✘ హార్న్లు
2. ✘ సర్కాలు



3. ✘ స్థాలగ్మిట్స్

4. ✔ స్థాలక్టైట్స్

**Question Number : 80 Question Id : 630680317983 Is Question Mandatory : No Calculator : None Response Time : N.A Think Time : N.A Minimum Instruction Time : 0**

**Correct Marks : 1 Wrong Marks : 0.33**

The solid conical depositional features hanging from the roofs of limestone caves are called \_\_\_\_\_.

**Options :**

1. ✘ horns

2. ✘ cirques

3. ✘ stalagmites

4. ✔ stalactites

**Question Number : 81 Question Id : 630680317984 Is Question Mandatory : No Calculator : None Response Time : N.A Think Time : N.A Minimum Instruction Time : 0**

**Correct Marks : 1 Wrong Marks : 0.33**

The Panjnad is formed by successive confluence of five rivers. They are \_\_\_\_\_.

**Options :**

1. ✔ Beas, Chenab, Jhelum, Ravi and Satluj

2. ✘ Beas, Kaveri, Kosi, Ravi and Satluj

3. ✘ Beas, Jhelum, Mahi, Kaveri and Satluj

4. ✘ Beas, Chenab, Mahi, Kosi and Satluj

**Question Number : 81 Question Id : 630680317984 Is Question Mandatory : No Calculator : None Response Time : N.A Think Time : N.A Minimum Instruction Time : 0**

**Correct Marks : 1 Wrong Marks : 0.33**

పంజ్ నాద్ అనేది ఐదు నదుల వరుస సంగమం ద్వారా ఏర్పడింది . అవి \_\_\_\_\_.

**Options :**

1. ✔ బియాస్, చీనాబ్, జీలం, రావి మరియు సట్లజ్

2. ✘ బియాస్, కావేరి, కోసి, రావి మరియు సట్లజ్

3. ✘ బియాస్, జీలం, మహి, కావేరి మరియు సట్లజ్

4. ✖ బియాస్, చీనాబ్, మహి, కోసి మరియు సట్లూజ్

Question Number : 82 Question Id : 630680317985 Is Question Mandatory : No Calculator : None Response Time : N.A Think Time :

N.A Minimum Instruction Time : 0

Correct Marks : 1 Wrong Marks : 0.33

కింది వాటిలో కావేరీ నదికి ఉపనది ఏది?

Options :

1. ✖ బెరి

2. ✔ కబిని

3. ✖ తిల

4. ✖ సేతి

Question Number : 82 Question Id : 630680317985 Is Question Mandatory : No Calculator : None Response Time : N.A Think Time :

N.A Minimum Instruction Time : 0

Correct Marks : 1 Wrong Marks : 0.33

Which of the following is a tributary of the river Kaveri?

Options :

1. ✖ Beri

2. ✔ Kabini

3. ✖ Tila

4. ✖ Seti

Question Number : 83 Question Id : 630680317986 Is Question Mandatory : No Calculator : None Response Time : N.A Think Time :

N.A Minimum Instruction Time : 0

Correct Marks : 1 Wrong Marks : 0.33

As per the Indian Minerals Yearbook 2021, \_\_\_\_\_ has the largest reserves/resources of copper ore in India.

Options :

1. ✖ Andhra Pradesh

2. ✖ Telangana

3. ✖ Odisha

4. ✔ Rajasthan

**Question Number : 83 Question Id : 630680317986 Is Question Mandatory : No Calculator : None Response Time : N.A Think Time : N.A Minimum Instruction Time : 0**

**Correct Marks : 1 Wrong Marks : 0.33**

ఇండియన్ మినరల్స్ ఇయర్బుక్ 2021 ప్రకారం, భారతదేశంలో రాగి ధాతువు యొక్క అతిపెద్ద నిల్వలు/వనరులను \_\_\_\_\_ కలిగి ఉంది.

**Options :**

1. ✘ ఆంధ్రప్రదేశ్
2. ✘ తెలంగాణ
3. ✘ ఒడిషా
4. ✔ రాజస్థాన్

**Question Number : 84 Question Id : 630680317987 Is Question Mandatory : No Calculator : None Response Time : N.A Think Time : N.A Minimum Instruction Time : 0**

**Correct Marks : 1 Wrong Marks : 0.33**

\_\_\_\_\_ is the site of confluence of the rivers Alaknanda and Pindar.

**Options :**

1. ✘ Vishnuprayag
2. ✘ Nandaprayag
3. ✔ Karnaprayag
4. ✘ Devprayag

**Question Number : 84 Question Id : 630680317987 Is Question Mandatory : No Calculator : None Response Time : N.A Think Time : N.A Minimum Instruction Time : 0**

**Correct Marks : 1 Wrong Marks : 0.33**

\_\_\_\_\_ అలకనంద మరియు పిండార్ నదుల సంగమ ప్రదేశం.

**Options :**

1. ✘ విష్ణుప్రయాగ
2. ✘ నందప్రయాగ
3. ✔ కర్ణప్రయాగ
4. ✘ దేవప్రయాగ

**Question Number : 85 Question Id : 630680317988 Is Question Mandatory : No Calculator : None Response Time : N.A Think Time : N.A Minimum Instruction Time : 0**

**Correct Marks : 1 Wrong Marks : 0.33**

టిబెట్‌లో, \_\_\_\_\_ ని 'లాంగ్‌చెన్ ఖంబాబ్' అని పిలుస్తారు.

**Options :**

1. ✖ సింధు
2. ✔ సట్లజ్
3. ✖ కోసి
4. ✖ సుబంసిరి

**Question Number : 85 Question Id : 630680317988 Is Question Mandatory : No Calculator : None Response Time : N.A Think Time : N.A Minimum Instruction Time : 0**

**Correct Marks : 1 Wrong Marks : 0.33**

In Tibet, the \_\_\_\_\_ is known as 'Langchen Khambab'.

**Options :**

1. ✖ Indus
2. ✔ Satluj
3. ✖ Kosi
4. ✖ Subansiri

**Question Number : 86 Question Id : 630680317989 Is Question Mandatory : No Calculator : None Response Time : N.A Think Time : N.A Minimum Instruction Time : 0**

**Correct Marks : 1 Wrong Marks : 0.33**

The rising to an elevation of about \_\_\_\_\_ metres, Gurushikhar is the highest peak in the Aravalli Range.

**Options :**

1. ✖ 1277
2. ✔ 1722
3. ✖ 1227
4. ✖ 2217

**Question Number : 86 Question Id : 630680317989 Is Question Mandatory : No Calculator : None Response Time : N.A Think Time : N.A Minimum Instruction Time : 0**

**Correct Marks : 1 Wrong Marks : 0.33**

సుమారు \_\_\_\_\_ మీటర్ల ఎత్తులో ఉన్న గురుశిఖర్ ఆరావళి శ్రేణిలో అతి ఎత్తైన శిఖరం.

**Options :**

1. ✘ 1277
2. ✔ 1722
3. ✘ 1227
4. ✘ 2217

**Question Number : 87 Question Id : 630680317990 Is Question Mandatory : No Calculator : None Response Time : N.A Think Time : N.A Minimum Instruction Time : 0**

**Correct Marks : 1 Wrong Marks : 0.33**

Who was the Chief of the Army Staff of India during the Indo-Pakistan War of 1971?

**Options :**

1. ✘ Tapishwar Narain Raina
2. ✔ Sam Manekshaw
3. ✘ Kodendera Subayya Thimayya
4. ✘ Kodandera Madappa Cariappa

**Question Number : 87 Question Id : 630680317990 Is Question Mandatory : No Calculator : None Response Time : N.A Think Time : N.A Minimum Instruction Time : 0**

**Correct Marks : 1 Wrong Marks : 0.33**

1971 ఇండో-పాకిస్తాన్ యుద్ధం సమయంలో భారత ఆర్మీ సిబ్బంది చీఫ్ ఎవరు?

**Options :**

1. ✘ తపీశ్వర్ నారాయణ్ రైనా
2. ✔ సామ్ మాణెక్ షా
3. ✘ కోదండర సుబ్బయ్య తిమ్మయ్య
4. ✘ కోదండర మాదప్ప కరియప్ప

**Question Number : 88 Question Id : 630680317991 Is Question Mandatory : No Calculator : None Response Time : N.A Think Time : N.A Minimum Instruction Time : 0**

**Correct Marks : 1 Wrong Marks : 0.33**

The Shimla (Simla) Agreement was signed between \_\_\_\_\_ of India and Zulfikar Ali Bhutto of Pakistan.

**Options :**

1. ✘ Jawaharlal Nehru
2. ✘ Morarji Desai
3. ✔ Indira Gandhi
4. ✘ Lal Bahadur Shastri

**Question Number : 88 Question Id : 630680317991 Is Question Mandatory : No Calculator : None Response Time : N.A Think Time : N.A Minimum Instruction Time : 0**

**Correct Marks : 1 Wrong Marks : 0.33**

పిమ్లా (సిమ్లా) ఒప్పందం భారతదేశానికి చెందిన \_\_\_\_\_ మరియు పాకిస్తాన్‌కు చెందిన జుల్పికర్ అలీ భుట్టో మధ్య సంతకం చేయబడింది.

**Options :**

1. ✘ జవహర్‌లాల్ నెహ్రూ
2. ✘ మొరార్జీ దేశాయ్
3. ✔ ఇందిరా గాంధీ
4. ✘ లాల్ బహదూర్ శాస్త్రి

**Question Number : 89 Question Id : 630680317992 Is Question Mandatory : No Calculator : None Response Time : N.A Think Time : N.A Minimum Instruction Time : 0**

**Correct Marks : 1 Wrong Marks : 0.33**

Swami Vivekananda founded the \_\_\_\_\_ in 1897 for the upliftment of the masses.

**Options :**

1. ✔ Ramakrishna Mission
2. ✘ Satyashodhak Samaj
3. ✘ Prarthana Samaj
4. ✘ Young Bengal Movement

**Question Number : 89 Question Id : 630680317992 Is Question Mandatory : No Calculator : None Response Time : N.A Think Time : N.A Minimum Instruction Time : 0**

**Correct Marks : 1 Wrong Marks : 0.33**

స్వామి వివేకానంద 1897లో ప్రజల అభ్యున్నతి కోసం \_\_\_\_\_ ని స్థాపించారు.

**Options :**

1. ✓ రామకృష్ణ మిషన్
2. ✘ సత్యశోధక్ సమాజ్
3. ✘ ప్రార్థన సమాజం
4. ✘ యువ బెంగాల్ ఉద్యమం

**Question Number : 90 Question Id : 630680317993 Is Question Mandatory : No Calculator : None Response Time : N.A Think Time : N.A Minimum Instruction Time : 0**

**Correct Marks : 1 Wrong Marks : 0.33**

The Communist Party of India was formed in \_\_\_\_\_ in 1920.

**Options :**

1. ✓ Tashkent
2. ✘ Tokyo
3. ✘ Singapore
4. ✘ Moscow

**Question Number : 90 Question Id : 630680317993 Is Question Mandatory : No Calculator : None Response Time : N.A Think Time : N.A Minimum Instruction Time : 0**

**Correct Marks : 1 Wrong Marks : 0.33**

భారత కమ్యూనిస్ట్ పార్టీ 1920లో \_\_\_\_\_ లో స్థాపించబడింది.

**Options :**

1. ✓ తాషెంట్
2. ✘ టోక్యో
3. ✘ సింగపూర్
4. ✘ మాస్కో

**Question Number : 91 Question Id : 630680317994 Is Question Mandatory : No Calculator : None Response Time : N.A Think Time : N.A Minimum Instruction Time : 0**

**Correct Marks : 1 Wrong Marks : 0.33**

The Section 2 of the Prevention of Insults to National Honour Act 1971 stipulates imprisonment for a period up to \_\_\_\_\_ or fine, or both, as punishment for insulting the National Flag of India.

**Options :**

1. ✘ one year

2. ✖ two years
3. ✔ three years
4. ✖ five years

**Question Number : 91 Question Id : 630680317994 Is Question Mandatory : No Calculator : None Response Time : N.A Think Time : N.A Minimum Instruction Time : 0**

**Correct Marks : 1 Wrong Marks : 0.33**

జాతీయ గౌరవానికి అవమానాల నిరోధక చట్టం 1971లోని సెక్షన్ 2 ప్రకారం, భారత జాతీయ జెండాను అవమానించినందుకు శిక్షగా \_\_\_\_\_ వరకు జైలు శిక్ష లేదా జరిమానా లేదా రెండూ విధించబడతాయి.

**Options :**

1. ✖ ఒక సంవత్సరం
2. ✖ రెండు సంవత్సరాలు
3. ✔ మూడు సంవత్సరాలు
4. ✖ ఐదు సంవత్సరాలు

**Question Number : 92 Question Id : 630680317995 Is Question Mandatory : No Calculator : None Response Time : N.A Think Time : N.A Minimum Instruction Time : 0**

**Correct Marks : 1 Wrong Marks : 0.33**



సంస్కరణ ఉద్యమాలను (కాలమ్ A) వాటి వ్యవస్థాపకులకు (కాలమ్ B) సరిపోల్పండి.

కాలమ్ A	కాలమ్ B
A) దయానంద్ సరస్వతి	1) ప్రార్థన సమాజం
B) రాజా రామ్ మోహన్ రాయ్	2) యువ బెంగాల్ ఉద్యమం
C) ఆత్మ రామ్ పాండురంగ్	3) ఆర్యసమాజ్
D) హెన్రీ లూయి వివియన్ డెరోజియో	4) బ్రహ్మ సమాజం

Options :

1. ✘ A - 4, B - 1, C - 3, D - 2
2. ✘ A - 2, B - 3, C - 4, D - 1
3. ✔ A - 3, B - 4, C - 1, D - 2
4. ✘ A - 1, B - 2, C - 3, D - 4

Question Number : 92 Question Id : 630680317995 Is Question Mandatory : No Calculator : None Response Time : N.A Think Time : N.A Minimum Instruction Time : 0

Correct Marks : 1 Wrong Marks : 0.33

Match the reform movements (Column A) to their founders (Column B).

<u>Column A</u>	<u>Column B</u>
A) Dayanand Saraswati	1) Prarthana Samaj
B) Raja Ram Mohan Roy	2) Young Bengal Movement
C) Atma Ram Pandurang	3) Arya Samaj
D) Henry Lui Vivian Derozio	4) Brahmo Samaj

Options :

1. ✘ A - 4, B - 1, C - 3, D - 2
2. ✘ A - 2, B - 3, C - 4, D - 1
3. ✔ A - 3, B - 4, C - 1, D - 2
4. ✘ A - 1, B - 2, C - 3, D - 4

Question Number : 93 Question Id : 630680317996 Is Question Mandatory : No Calculator : None Response Time : N.A Think Time : N.A Minimum Instruction Time : 0

Correct Marks : 1 Wrong Marks : 0.33

గుజరాత్‌లో జన్మించిన సంఘ సంస్కర్త మూల్ శంకర్ తివారీని \_\_\_\_\_ అని కూడా పిలుస్తారు.

Options :

1. ✔ దయానంద్ సరస్వతి
2. ✘ రామకృష్ణ పరమహంస
3. ✘ స్వామి వివేకానంద
4. ✘ స్వామి సహజానంద సరస్వతి

Question Number : 93 Question Id : 630680317996 Is Question Mandatory : No Calculator : None Response Time : N.A Think Time : N.A Minimum Instruction Time : 0

Correct Marks : 1 Wrong Marks : 0.33

Mool Shankar Tiwari, a social reformer born in Gujarat, was popularly known as \_\_\_\_\_.

**Options :**

1. ✓ Dayanand Saraswati
2. ✗ Ramakrishna Paramhansa
3. ✗ Swami Vivekananda
4. ✗ Swami Sahajanand Saraswati

**Question Number : 94 Question Id : 630680317997 Is Question Mandatory : No Calculator : None Response Time : N.A Think Time : N.A Minimum Instruction Time : 0**

**Correct Marks : 1 Wrong Marks : 0.33**

వాక్యం (A) మరియు కారణం (R) అని లేబుల్ చేయబడిన క్రింది రెండు ప్రకటనల ఖచ్చితత్వానికి సంబంధించి సరైన ఎంపికను ఎంచుకోండి.

(A): బ్రిటిష్ వారు 1911లో ఢిల్లీలో ఒక సమావేశం లేదా 'దర్బార్' నిర్వహించారు.

(R): కింగ్ ఎడ్వర్డ్ VII పట్టాభిషేకం ఢిల్లీలోని 'దర్బార్'లో జరిగింది.

**Options :**

1. ✗ A మరియు R రెండూ విడివిడిగా సత్యములు మరియు R అనేది A యొక్క సరైన వివరణ
2. ✓ A మరియు R రెండూ విడివిడిగా సత్యములు, కానీ R అనేది A యొక్క సరైన వివరణ కాదు
3. ✗ A సత్యం కానీ R అసత్యం
4. ✗ A అసత్యం కానీ R సత్యం

**Question Number : 94 Question Id : 630680317997 Is Question Mandatory : No Calculator : None Response Time : N.A Think Time : N.A Minimum Instruction Time : 0**

**Correct Marks : 1 Wrong Marks : 0.33**

Select the option that is correct regarding the correctness of the following two statements labelled Assertion (A) and Reason (R).

A: The British held an assemblage or 'Durbar' in Delhi in 1911.

R: The coronation of King Edward VII was celebrated at a 'Durbar' in Delhi.

**Options :**

1. ✗ Both A and R are individually true, and R is the correct explanation of A
2. ✓ Both A and R are individually true, but R is not the correct explanation of A
3. ✗ A is true but R is false
4. ✗ A is false but R is true

**Question Number : 95 Question Id : 630680317998 Is Question Mandatory : No Calculator : None Response Time : N.A Think Time : N.A Minimum Instruction Time : 0**

**Correct Marks : 1 Wrong Marks : 0.33**

స్వామి వివేకానంద గురించి ఈ క్రింది వాక్యాలలో ఏది తప్పు?

**Options :**

1. ✘ ఆయన పుట్టిన పేరు నరేంద్రనాథ్ దత్తా.
2. ✘ అతను 1863లో కోల్కతాలో జన్మించాడు.
3. ✔ అతను 1879లో రామకృష్ణ మిషన్‌ను స్థాపించాడు.
4. ✘ ఇతను గదాధర్ చటోపాధ్యాయ శిష్యుడు .

**Question Number : 95 Question Id : 630680317998 Is Question Mandatory : No Calculator : None Response Time : N.A Think Time : N.A Minimum Instruction Time : 0**

**Correct Marks : 1 Wrong Marks : 0.33**

Which of the following statements about Swami Vivekanand is INCORRECT?

**Options :**

1. ✘ His birth name was Narendranath Datta.
2. ✘ He was born in Kolkata in 1863.
3. ✔ He founded the Ramakrishan Mission in 1879.
4. ✘ He was a disciple of Gadadhar Chattopadhyaya.

**Question Number : 96 Question Id : 630680317999 Is Question Mandatory : No Calculator : None Response Time : N.A Think Time : N.A Minimum Instruction Time : 0**

**Correct Marks : 1 Wrong Marks : 0.33**

ఉద్యోగుల రాష్ట్ర బీమా చట్టం(ఎంప్లాయిస్ స్టేట్ ఇన్సూరెన్స్ యాక్ట్) \_\_\_\_\_లో ఉద్యోగులకు అనారోగ్యం, ప్రసూతి మరియు ఉపాధి గాయం విషయంలో కొన్ని ప్రయోజనాలను అందించడానికి మరియు కొన్ని ఇతర సంబంధిత విషయాల కోసం ఏర్పాటు చేయడానికి రూపొందించబడింది.

**Options :**

1. ✘ 1950
2. ✘ 1949
3. ✔ 1948
4. ✘ 1947

**Question Number : 96 Question Id : 630680317999 Is Question Mandatory : No Calculator : None Response Time : N.A Think Time : N.A Minimum Instruction Time : 0**

**Correct Marks : 1 Wrong Marks : 0.33**

The Employees' State Insurance Act was enacted in \_\_\_\_\_ to provide for certain benefits to employees in case of sickness, maternity and employment injury and to make provision for certain other related matters.

**Options :**

1. ✘ 1950
2. ✘ 1949
3. ✔ 1948
4. ✘ 1947

**Question Number : 97 Question Id : 630680318000 Is Question Mandatory : No Calculator : None Response Time : N.A Think Time : N.A Minimum Instruction Time : 0**

**Correct Marks : 1 Wrong Marks : 0.33**

1949లో భారతదేశం మరియు \_\_\_\_\_ మధ్య మొదటిసారి స్నేహ సహకార ఒప్పందం సంతకం చేయబడింది మరియు తరువాత 2007లో సవరించబడింది.

**Options :**

1. ✔ భూటాన్
2. ✘ మయన్మార్
3. ✘ నేపాల్
4. ✘ శ్రీలంక

**Question Number : 97 Question Id : 630680318000 Is Question Mandatory : No Calculator : None Response Time : N.A Think Time : N.A Minimum Instruction Time : 0**

**Correct Marks : 1 Wrong Marks : 0.33**

The Treaty of Friendship and Cooperation was first signed between India and \_\_\_\_\_ in 1949, and later revised in 2007.

**Options :**

1. ✔ Bhutan
2. ✘ Myanmar
3. ✘ Nepal
4. ✘ Sri Lanka

Question Number : 98 Question Id : 630680318001 Is Question Mandatory : No Calculator : None Response Time : N.A Think Time : N.A Minimum Instruction Time : 0

Correct Marks : 1 Wrong Marks : 0.33

భారతదేశం నిర్వహించిన సైనిక కార్యకలాపాలను (కాలమ్ A) దాని వివరణకు (కాలమ్ B) సరిపోల్పండి.

కాలమ్ A	కాలమ్ B
A) ఆపరేషన్ మైత్రి	I) నేపాల్‌లో భారతదేశం యొక్క భూకంప సహాయం మరియు రెస్క్యూ మిషన్
B) ఆపరేషన్ కాక్టస్ లిల్లి	II) వెస్ట్రన్ ఫ్రంట్‌లో పాకిస్తాన్‌పై భారత వైమానిక దాడి
C) ఆపరేషన్ పవన్	III) శ్రీలంక అంతర్యుద్ధం సమయంలో భారత శాంతి పరిరక్షక దళం సైనిక చర్య
D) ఆపరేషన్ కాక్టస్	IV) ప్రజాస్వామ్యబద్ధంగా ఎన్నికైన ప్రభుత్వాన్ని పునరుద్ధరించడానికి మాల్దీవులలో భారతదేశం యొక్క సైనిక జోక్యం

Options :

1. ✘ A - IV, B - I, C - III, D - II
2. ✘ A - II, B - III, C - IV, D - I
3. ✘ A - III, B - IV, C - I, D - II
4. ✔ A - I, B - II, C - III, D - IV

Question Number : 98 Question Id : 630680318001 Is Question Mandatory : No Calculator : None Response Time : N.A Think Time :

**N.A Minimum Instruction Time : 0**

**Correct Marks : 1 Wrong Marks : 0.33**

Match the military operations carried out by India (Column A) to the description thereof (Column B).

<u>Column A</u>	<u>Column B</u>
A) Operation Maitri	I) India's earthquake relief and rescue mission in Nepal
B) Operation Cactus Lilly	II) Indian air attack against Pakistan at Western front
C) Operation Pawan	III) Military action by Indian Peace Keeping Force during Sri Lankan civil war
D) Operation Cactus	IV) India's military intervention in the Maldives to restore democratically elected government

**Options :**

1. ✘ A - IV, B - I, C - III, D - II
2. ✘ A - II, B - III, C - IV, D - I
3. ✘ A - III, B - IV, C - I, D - II
4. ✔ A - I, B - II, C - III, D - IV

**Question Number : 99 Question Id : 630680318002 Is Question Mandatory : No Calculator : None Response Time : N.A Think Time :**

**N.A Minimum Instruction Time : 0**

**Correct Marks : 1 Wrong Marks : 0.33**

బ్రిటిష్ ఇండియాలో మొదటి విద్యా సంస్థ అయిన కలకత్తా మదరాస్ \_\_\_\_\_ చే స్థాపించబడింది.

**Options :**

1. ✖ విలియం బెంటింక్
2. ✔ వారెన్ హేస్టింగ్స్
3. ✖ జాన్ షోర్
4. ✖ జార్జ్ బార్లో

**Question Number : 99 Question Id : 630680318002 Is Question Mandatory : No Calculator : None Response Time : N.A Think Time : N.A Minimum Instruction Time : 0**

**Correct Marks : 1 Wrong Marks : 0.33**

The first education institution in British India, the Calcutta Madrassa, was founded by \_\_\_\_\_.

**Options :**

1. ✖ William Bentinck
2. ✔ Warren Hastings
3. ✖ John Shore
4. ✖ George Barlow

**Question Number : 100 Question Id : 630680318003 Is Question Mandatory : No Calculator : None Response Time : N.A Think Time : N.A Minimum Instruction Time : 0**

**Correct Marks : 1 Wrong Marks : 0.33**

భారతీయ శిక్షాస్ఫూర్తిలోని XX అధ్యాయం \_\_\_\_\_తో వ్యవహరిస్తుంది.

**Options :**

1. ✔ వివాహానికి సంబంధించిన నేరాలు
2. ✖ దేశానికి వ్యతిరేకంగా నేరాలు
3. ✖ పరువు నష్టం
4. ✖ నేరపూరిత కుట్ర

**Question Number : 100 Question Id : 630680318003 Is Question Mandatory : No Calculator : None Response Time : N.A Think Time : N.A Minimum Instruction Time : 0**

**Correct Marks : 1 Wrong Marks : 0.33**

Chapter XX of the Indian Penal Code deals with \_\_\_\_\_.

**Options :**



1. ✓ offences relating to marriage
2. ✘ offences against the State
3. ✘ defamation
4. ✘ criminal conspiracy

**Question Number : 101 Question Id : 630680318004 Is Question Mandatory : No Calculator : None Response Time : N.A Think Time : N.A Minimum Instruction Time : 0**

**Correct Marks : 1 Wrong Marks : 0.33**

సింగ్ సభ ఉద్యమ నాయకులు \_\_\_\_\_ సంవత్సరంలో అమృత్సర్లో ఖల్సా కళాశాలను స్థాపించారు.

**Options :**

1. ✘ 1894
2. ✘ 1896
3. ✘ 1898
4. ✓ 1892

**Question Number : 101 Question Id : 630680318004 Is Question Mandatory : No Calculator : None Response Time : N.A Think Time : N.A Minimum Instruction Time : 0**

**Correct Marks : 1 Wrong Marks : 0.33**

Leaders of the Singh Sabha Movement established the Khalsa College in Amritsar in the year \_\_\_\_\_.

**Options :**

1. ✘ 1894
2. ✘ 1896
3. ✘ 1898
4. ✓ 1892

**Question Number : 102 Question Id : 630680318005 Is Question Mandatory : No Calculator : None Response Time : N.A Think Time : N.A Minimum Instruction Time : 0**

**Correct Marks : 1 Wrong Marks : 0.33**

జూన్ 2023 నాటికి, ఆయుష్మాన్ భారత్ - ప్రధాన్ మంత్రి జన్ ఆరోగ్య యోజన (AB-PMJAY) ప్రతి లబ్ధిదారు కుటుంబానికి సంవత్సరానికి గరిష్టంగా ₹\_\_\_\_\_ ఆరోగ్య రక్షణను అందిస్తుంది.

**Options :**

1. ✘ 2 లక్షలు

2. ✖ 1 లక్ష
3. ✔ 5 లక్షలు
4. ✖ 3 లక్షలు

**Question Number : 102 Question Id : 630680318005 Is Question Mandatory : No Calculator : None Response Time : N.A Think Time : N.A Minimum Instruction Time : 0**

**Correct Marks : 1 Wrong Marks : 0.33**

As of June 2023, the Ayushman Bharat - Pradhan Mantri Jan Arogya Yojana (AB-PMJAY) provides a maximum health cover of ₹\_\_\_\_\_ per beneficiary family per annum.

**Options :**

1. ✖ 2 lakhs
2. ✖ 1 lakh
3. ✔ 5 lakhs
4. ✖ 3 lakhs

**Question Number : 103 Question Id : 630680318006 Is Question Mandatory : No Calculator : None Response Time : N.A Think Time : N.A Minimum Instruction Time : 0**

**Correct Marks : 1 Wrong Marks : 0.33**

భారత రాజ్యాంగంలోని ఆర్టికల్ 370 \_\_\_\_\_ సంవత్సరంలో పనిచేయకుండా నిలిచిపోయింది.

**Options :**

1. ✖ 2016
2. ✔ 2019
3. ✖ 2018
4. ✖ 2017

**Question Number : 103 Question Id : 630680318006 Is Question Mandatory : No Calculator : None Response Time : N.A Think Time : N.A Minimum Instruction Time : 0**

**Correct Marks : 1 Wrong Marks : 0.33**

Article 370 of the Constitution of India was rendered inoperative in the year \_\_\_\_\_.

**Options :**

1. ✖ 2016
2. ✔ 2019

3. ✖ 2018

4. ✖ 2017

**Question Number : 104 Question Id : 630680318007 Is Question Mandatory : No Calculator : None Response Time : N.A Think Time : N.A Minimum Instruction Time : 0**

**Correct Marks : 1 Wrong Marks : 0.33**

భారత న్యాయవ్యవస్థ స్వీకరించిన 'కొలీజియం వ్యవస్థ' అనేది భారత ప్రధాన న్యాయమూర్తి మరియు సుప్రీంకోర్టులోని \_\_\_\_ అత్యంత సీనియర్ న్యాయమూర్తులు కలిసి న్యాయ నియామకాల కోసం అభ్యర్థులను భారత రాష్ట్రపతికి సిఫార్సు చేసే వ్యవస్థను సూచిస్తుంది.

**Options :**

1. ✔ నలుగురు

2. ✖ ఇద్దరు

3. ✖ ముగ్గురు

4. ✖ ఐదుగురు

**Question Number : 104 Question Id : 630680318007 Is Question Mandatory : No Calculator : None Response Time : N.A Think Time : N.A Minimum Instruction Time : 0**

**Correct Marks : 1 Wrong Marks : 0.33**

The 'collegium system' adopted by the Indian judiciary refers to a system where the Chief Justice of India and the \_\_\_\_ senior-most judges of the Supreme Court recommend candidates for judicial appointments, to the President of India.

**Options :**

1. ✔ four

2. ✖ two

3. ✖ three

4. ✖ five

**Question Number : 105 Question Id : 630680318008 Is Question Mandatory : No Calculator : None Response Time : N.A Think Time : N.A Minimum Instruction Time : 0**

**Correct Marks : 1 Wrong Marks : 0.33**

వాక్యం (A) మరియు కారణం (R) అని లేబుల్ చేయబడిన క్రింది రెండు ప్రకటనల ఖచ్చితత్వానికి సంబంధించి సరైన ఎంపికను ఎంచుకోండి.

(A): AgriMarket మొబైల్ యాప్‌ని పరికరం ఉన్న ప్రదేశం నుండి 10 km లోపు మార్కెట్‌లలో పంటల మార్కెట్ ధరను పొందడానికి

ఉపయోగించవచ్చు.

(R): కిసాన్ సువిధ అనేది రైతులకు సంబంధిత సమాచారాన్ని త్వరగా అందించడం ద్వారా వారికి సహాయం చేయడానికి అభివృద్ధి చేయబడిన omnibus మొబైల్ యాప్.

**Options :**

1. ✘ A మరియు R రెండూ విడివిడిగా సత్యములు మరియు R అనేది A యొక్క సరైన వివరణ
2. ✘ A మరియు R రెండూ విడివిడిగా సత్యములు, కానీ R అనేది A యొక్క సరైన వివరణ కాదు
3. ✘ A సత్యం కానీ R అసత్యం
4. ✔ A అసత్యం కానీ R సత్యం

**Question Number : 105 Question Id : 630680318008 Is Question Mandatory : No Calculator : None Response Time : N.A Think Time :**

**N.A Minimum Instruction Time : 0**

**Correct Marks : 1 Wrong Marks : 0.33**

Select the option that is correct regarding the correctness of the following two statements labelled Assertion (A) and Reason (R).

A: AgriMarket mobile app can be used to get the market price of crops in the markets within 10 km of the device's location.

R: Kisan Suvidha is an omnibus mobile app developed to help farmers by providing relevant information to them quickly.

**Options :**

1. ✘ Both A and R are individually true, and R is the correct explanation of A
2. ✘ Both A and R are individually true, but R is not the correct explanation of A
3. ✘ A is true but R is false
4. ✔ A is false but R is true

**Question Number : 106 Question Id : 630680318009 Is Question Mandatory : No Calculator : None Response Time : N.A Think Time :**

**N.A Minimum Instruction Time : 0**

**Correct Marks : 1 Wrong Marks : 0.33**

జూన్ 2023 నాటికి, స్వచ్ఛ భారత్ మిషన్-గ్రామీన్ (SBM-G) \_\_\_\_\_ ద్వారా నిర్వహించబడుతుంది.

**Options :**

1. ✔ జల శక్తి మంత్రిత్వ శాఖ
2. ✘ గ్రామీణాభివృద్ధి మంత్రిత్వ శాఖ
3. ✘ పంచాయితీ రాజ్ మంత్రిత్వ శాఖ
4. ✘ వినియోగదారుల వ్యవహారాల మంత్రిత్వ శాఖ, ఆహారం మరియు ప్రజా పంపిణీ

**Question Number : 106 Question Id : 630680318009 Is Question Mandatory : No Calculator : None Response Time : N.A Think Time : N.A Minimum Instruction Time : 0**

**Correct Marks : 1 Wrong Marks : 0.33**

As of June 2023, the Swachh Bharat Mission-Grameen (SBM-G) is administered by the \_\_\_\_\_.

**Options :**

1. ✓ Ministry of Jal Shakti
2. ✗ Ministry of Rural Development
3. ✗ Ministry of Panchayati Raj
4. ✗ Ministry of Consumer Affairs, Food and Public Distribution

**Question Number : 107 Question Id : 630680318010 Is Question Mandatory : No Calculator : None Response Time : N.A Think Time : N.A Minimum Instruction Time : 0**

**Correct Marks : 1 Wrong Marks : 0.33**

జూన్ 2023 నాటికి, స్వచ్ఛ భారత్ మిషన్-అర్బన్ (SBM-U) \_\_\_\_\_ ద్వారా నిర్వహించబడుతుంది.

**Options :**

1. ✗ జల శక్తి మంత్రిత్వ శాఖ
2. ✓ గృహ మరియు పట్టణ వ్యవహారాల మంత్రిత్వ శాఖ
3. ✗ వాణిజ్యం మరియు పరిశ్రమల మంత్రిత్వ శాఖ
4. ✗ వినియోగదారుల వ్యవహారాల మంత్రిత్వ శాఖ, ఆహారం మరియు ప్రజా పంపిణీ

**Question Number : 107 Question Id : 630680318010 Is Question Mandatory : No Calculator : None Response Time : N.A Think Time : N.A Minimum Instruction Time : 0**

**Correct Marks : 1 Wrong Marks : 0.33**

As of June 2023, the Swachh Bharat Mission-Urban (SBM-U) is administered by the \_\_\_\_\_.

**Options :**

1. ✗ Ministry of Jal Shakti
2. ✓ Ministry of Housing and Urban Affairs
3. ✗ Ministry of Commerce and Industry
4. ✗ Ministry of Consumer Affairs, Food and Public Distribution

**Question Number : 108 Question Id : 630680318011 Is Question Mandatory : No Calculator : None Response Time : N.A Think Time : N.A Minimum Instruction Time : 0**

**Correct Marks : 1 Wrong Marks : 0.33**

భారత ప్రభుత్వం ప్రారంభించిన ఆన్‌లైన్ కార్యక్రమం అయిన స్వయం(SWAYAM) అనేది తరగతి గదులలో \_\_\_\_\_ నుండి బోధించే కోర్సుల హోస్టింగ్‌కు వెసులుబాటు కలిగిస్తుంది.

**Options :**

1. ✘ తరగతి I నుండి II వరకు
2. ✘ తరగతి V నుండి VIII వరకు
3. ✔ తరగతి IX నుండి పోస్ట్-గ్రాడ్యుయేషన్ వరకు
4. ✘ తరగతి III నుండి IV వరకు

**Question Number : 108 Question Id : 630680318011 Is Question Mandatory : No Calculator : None Response Time : N.A Think Time : N.A Minimum Instruction Time : 0**

**Correct Marks : 1 Wrong Marks : 0.33**

SWAYAM, the online programme initiated by the Government of India, facilitates hosting of courses taught in classrooms from \_\_\_\_\_.

**Options :**

1. ✘ class I to II
2. ✘ class V to VIII
3. ✔ class IX to post-graduation
4. ✘ class III to IV

**Question Number : 109 Question Id : 630680318012 Is Question Mandatory : No Calculator : None Response Time : N.A Think Time : N.A Minimum Instruction Time : 0**

**Correct Marks : 1 Wrong Marks : 0.33**

The Union Government of India established the National Judicial Appointment Commission by introducing the \_\_\_\_\_ Constitutional Amendment.

**Options :**

1. ✘ 98th
2. ✔ 99th
3. ✘ 92nd
4. ✘ 96th

**Question Number : 109 Question Id : 630680318012 Is Question Mandatory : No Calculator : None Response Time : N.A Think Time : N.A Minimum Instruction Time : 0**

**Correct Marks : 1 Wrong Marks : 0.33**

భారత కేంద్ర ప్రభుత్వం \_\_\_\_\_ రాజ్యాంగ సవరణను ప్రవేశపెట్టడం ద్వారా జాతీయ న్యాయ నియామక కమీషన్‌ను ఏర్పాటు చేసింది.

**Options :**

1. ✘ 98 వ
2. ✔ 99 వ
3. ✘ 92 వ
4. ✘ 96 వ

**Question Number : 110 Question Id : 630680318013 Is Question Mandatory : No Calculator : None Response Time : N.A Think Time : N.A Minimum Instruction Time : 0**

**Correct Marks : 1 Wrong Marks : 0.33**

1 జూన్ 2023 నాటికి భారతదేశంలో కొత్త డ్రైవింగ్ లైసెన్స్ కోసం దరఖాస్తు చేయడానికి క్రింది పోర్టల్/సాఫ్ట్‌వేర్‌లలో దేనిని ఉపయోగించవచ్చు?

**Options :**

1. ✘ HAMRAAZ
2. ✘ MADAD
3. ✘ VAHAN
4. ✔ SARATHI

**Question Number : 110 Question Id : 630680318013 Is Question Mandatory : No Calculator : None Response Time : N.A Think Time : N.A Minimum Instruction Time : 0**

**Correct Marks : 1 Wrong Marks : 0.33**

Which of the of the following portals/software can be used to apply for a new driving license in India as of 1 June 2023?

**Options :**

1. ✘ HAMRAAZ
2. ✘ MADAD
3. ✘ VAHAN
4. ✔ SARATHI

**Question Number : 111 Question Id : 630680318014 Is Question Mandatory : No Calculator : None Response Time : N.A Think Time : N.A Minimum Instruction Time : 0**

**Correct Marks : 1 Wrong Marks : 0.33**

The National Single Sign-on platform launched by the Government of India in July 2022, to facilitate/provide citizens ease of access to

government portals is called \_\_\_\_\_.

**Options :**

1. ✓ MeriPehchaan
2. ✗ MyScheme
3. ✗ MyGov
4. ✗ UMANG

**Question Number : 111 Question Id : 630680318014 Is Question Mandatory : No Calculator : None Response Time : N.A Think Time : N.A Minimum Instruction Time : 0 Correct Marks : 1 Wrong Marks : 0.33**

పౌరులకు ప్రభుత్వ పోర్టల్‌లను సులభంగా యాక్సెస్ చేయడానికి/అందించడానికి భారత ప్రభుత్వం జూలై 2022లో ప్రారంభించిన నేషనల్ సింగిల్ సైన్-ఆన్ ప్లాట్‌ఫారమ్‌ను \_\_\_\_\_ అంటారు.

**Options :**

1. ✓ MeriPehchaan
2. ✗ MyScheme
3. ✗ MyGov
4. ✗ UMANG

**Question Number : 112 Question Id : 630680318015 Is Question Mandatory : No Calculator : None Response Time : N.A Think Time : N.A Minimum Instruction Time : 0 Correct Marks : 1 Wrong Marks : 0.33**

నేషనల్ ఇ-గవర్నెన్స్ ప్లాన్‌ను కేంద్ర మంత్రివర్గం మే \_\_\_\_\_లో ఆమోదించింది.

**Options :**

1. ✗ 2017
2. ✗ 2014
3. ✓ 2006
4. ✗ 2010

**Question Number : 112 Question Id : 630680318015 Is Question Mandatory : No Calculator : None Response Time : N.A Think Time : N.A Minimum Instruction Time : 0 Correct Marks : 1 Wrong Marks : 0.33**

The National e-Governance Plan was approved by the Union Cabinet in May \_\_\_\_\_.



**Options :**

1. ✖ 2017
2. ✖ 2014
3. ✔ 2006
4. ✖ 2010

**Question Number : 113 Question Id : 630680318016 Is Question Mandatory : No Calculator : None Response Time : N.A Think Time : N.A Minimum Instruction Time : 0**

**Correct Marks : 1 Wrong Marks : 0.33**

UMANG provides a single platform for all Indian Citizens to access pan India e-Gov services ranging from Central to Local Government bodies. UMANG is an acronym for \_\_\_\_\_.

**Options :**

1. ✔ Unified Mobile Application for New-age Governance
2. ✖ Unlimited Mobile Access for Neo Governance
3. ✖ Unilateral Mobile Application for Nodal Governance
4. ✖ Uninterrupted Mobile Access for National Governance

**Question Number : 113 Question Id : 630680318016 Is Question Mandatory : No Calculator : None Response Time : N.A Think Time : N.A Minimum Instruction Time : 0**

**Correct Marks : 1 Wrong Marks : 0.33**

UMANG భారతీయ పౌరులందరికీ కేంద్ర నుండి స్థానిక ప్రభుత్వ సంస్థల వరకు పాన్ ఇండియా ఇ-గవర్నమెంట్ సేవలను యాక్సెస్ చేయడానికి ఒకే వేదికను అందిస్తుంది. UMANG అనేది \_\_\_\_\_ కి సంక్షిప్త రూపం.

**Options :**

1. ✔ యూనిఫైడ్ మొబైల్ అప్లికేషన్ ఫర్ న్యూ-ఎజ్ గవర్నెన్స్ (Unified Mobile Application for New-age Governance)
2. ✖ యూనిఫైడ్ మొబైల్ యాక్సెస్ ఫర్ నియో గవర్నెన్స్ (Unlimited Mobile Access for Neo Governance)
3. ✖ యూనిలేటరల్ మొబైల్ అప్లికేషన్ ఫర్ నోడల్ గవర్నెన్స్ (Unilateral Mobile Application for Nodal Governance)
4. ✖ అన్ఇంటర్మిట్టెడ్ మొబైల్ యాక్సెస్ ఫర్ నేషనల్ గవర్నెన్స్ (Uninterrupted Mobile Access for National Governance)

**Question Number : 114 Question Id : 630680318017 Is Question Mandatory : No Calculator : None Response Time : N.A Think Time : N.A Minimum Instruction Time : 0**

**Correct Marks : 1 Wrong Marks : 0.33**

గోప్యత హక్కు అనేది 'జీవితం మరియు వ్యక్తిగత స్వేచ్ఛలో అంతర్లీనమైనది' మరియు అది \_\_\_\_\_ కింద అంతర్గతంగా

సంరక్షించబడుతుంది మరియు రాజ్యాంగంలోని పార్ట్ III ద్వారా హామీ ఇవ్వబడిన స్వేచ్ఛలో భాగంగా ఉంది' అని 2017లో, భారత సుప్రీంకోర్టు తీర్పు నిచ్చింది.

**Options :**

1. ✘ ఆర్టికల్ 23
2. ✘ ఆర్టికల్ 22
3. ✔ ఆర్టికల్ 21
4. ✘ ఆర్టికల్ 20

**Question Number : 114 Question Id : 630680318017 Is Question Mandatory : No Calculator : None Response Time : N.A Think Time : N.A Minimum Instruction Time : 0**

**Correct Marks : 1 Wrong Marks : 0.33**

In 2017, The Supreme Court of India ruled that Right to Privacy is 'intrinsic to life and personal liberty' and is inherently protected under \_\_\_\_\_, and as a part of the freedom guaranteed by Part III of the Constitution.

**Options :**

1. ✘ Article 23
2. ✘ Article 22
3. ✔ Article 21
4. ✘ Article 20

**Question Number : 115 Question Id : 630680318018 Is Question Mandatory : No Calculator : None Response Time : N.A Think Time : N.A Minimum Instruction Time : 0**

**Correct Marks : 1 Wrong Marks : 0.33**

జూన్ 2023 నాటికి కింది వాటిలో ఏ మంత్రిత్వ శాఖ బేటీ బచావో, బేటీ పఢావో (BBBP) పథకంతో జోక్యం కలిగి లేదు ?

**Options :**

1. ✘ మానవ వనరుల అభివృద్ధి మంత్రిత్వ శాఖ
2. ✔ సామాజిక న్యాయం మరియు సాధికారత మంత్రిత్వ శాఖ
3. ✘ ఆరోగ్య మరియు కుటుంబ సంక్షేమ మంత్రిత్వ శాఖ
4. ✘ మహిళా మరియు శిశు అభివృద్ధి మంత్రిత్వ శాఖ

**Question Number : 115 Question Id : 630680318018 Is Question Mandatory : No Calculator : None Response Time : N.A Think Time : N.A Minimum Instruction Time : 0**

**Correct Marks : 1 Wrong Marks : 0.33**

Which of the following Ministries is NOT involved with the Beti Bachao, Beti Padhao (BBBP) Scheme as of June 2023?

**Options :**

1. ✘ Ministry of Human Resource Development
2. ✔ Ministry of Social Justice and Empowerment
3. ✘ Ministry of Health and Family Welfare
4. ✘ Ministry of Women and Child Development

**Question Number : 116 Question Id : 630680318019 Is Question Mandatory : No Calculator : None Response Time : N.A Think Time : N.A Minimum Instruction Time : 0**

**Correct Marks : 1 Wrong Marks : 0.33**

దేశంలోని బాలికలకు మద్దతు మరియు అవకాశాలను అందించాలనే లక్ష్యంతో భారతదేశం ప్రతి సంవత్సరం \_\_\_\_\_ని జాతీయ బాలికా దినోత్సవంగా పాటిస్తుంది .

**Options :**

1. ✘ 12 జనవరి
2. ✘ 18 జనవరి
3. ✘ 21 జనవరి
4. ✔ 24 జనవరి

**Question Number : 116 Question Id : 630680318019 Is Question Mandatory : No Calculator : None Response Time : N.A Think Time : N.A Minimum Instruction Time : 0**

**Correct Marks : 1 Wrong Marks : 0.33**

India observes \_\_\_\_\_ as National Girl Child Day every year, with an objective to provide support and opportunities to the girls of the country.

**Options :**

1. ✘ 12 January
2. ✘ 18 January
3. ✘ 21 January
4. ✔ 24 January

**Question Number : 117 Question Id : 630680318020 Is Question Mandatory : No Calculator : None Response Time : N.A Think Time : N.A Minimum Instruction Time : 0**

**Correct Marks : 1 Wrong Marks : 0.33**

In January 2023, the Chief Minister of Andhra Pradesh declared \_\_\_\_\_ as the capital of the state.

**Options :**

1. ✘ Amravati
2. ✔ Visakhapatnam
3. ✘ Guntur
4. ✘ Kurnool

**Question Number : 117 Question Id : 630680318020 Is Question Mandatory : No Calculator : None Response Time : N.A Think Time : N.A Minimum Instruction Time : 0**

**Correct Marks : 1 Wrong Marks : 0.33**

జనవరి 2023లో, ఆంధ్రప్రదేశ్ ముఖ్యమంత్రి \_\_\_\_\_ని రాష్ట్ర రాజధానిగా ప్రకటించారు.

**Options :**

1. ✘ అమరావతి
2. ✔ విశాఖపట్నం
3. ✘ గుంటూరు
4. ✘ కర్నూలు

**Question Number : 118 Question Id : 630680318021 Is Question Mandatory : No Calculator : None Response Time : N.A Think Time : N.A Minimum Instruction Time : 0**

**Correct Marks : 1 Wrong Marks : 0.33**

వాక్యం (A) మరియు కారణం (R) అని లేబుల్ చేయబడిన క్రింది రెండు ప్రకటనల ఖచ్చితత్వానికి సంబంధించి సరైన ఎంపికను ఎంచుకోండి.

(A): కృష్ణపట్నం ఓడరేవు భారతదేశ తూర్పు తీరంలో ఉంది.

(R): ఆంధ్రప్రదేశ్‌ను విభజించిన తర్వాత తెలంగాణకు ఓడరేవులు లేవు .

**Options :**

1. ✘ A మరియు R రెండూ విడివిడిగా సత్యములు మరియు R అనేది A యొక్క సరైన వివరణ
2. ✔ A మరియు R రెండూ విడివిడిగా సత్యములు, కానీ R అనేది A యొక్క సరైన వివరణ కాదు
3. ✘ A సత్యం కానీ R అసత్యం
4. ✘ A అసత్యం కానీ R సత్యం

**Question Number : 118 Question Id : 630680318021 Is Question Mandatory : No Calculator : None Response Time : N.A Think Time : N.A Minimum Instruction Time : 0**

**Correct Marks : 1 Wrong Marks : 0.33**

Select the option that is correct regarding the correctness of the following two statements labelled Assertion (A) and Reason (R).

A: The Krishnapatnam port is located on the east coast of India.

R: On bifurcation of Andhra Pradesh, Telangana was left with no sea ports.

**Options :**

1. ✘ Both A and R are individually true, and R is the correct explanation of A
2. ✔ Both A and R are individually true, but R is not the correct explanation of A
3. ✘ A is true but R is false
4. ✘ A is false but R is true

**Question Number : 119 Question Id : 630680318022 Is Question Mandatory : No Calculator : None Response Time : N.A Think Time : N.A Minimum Instruction Time : 0**

**Correct Marks : 1 Wrong Marks : 0.33**

Section 108 of the Andhra Pradesh Reorganisation Act 2014 enables referring disputes between the two states (Andhra Pradesh and Telangana) to the \_\_\_\_\_.

**Options :**

1. ✘ Prime Minister of India
2. ✔ President of India
3. ✘ Chief Justice of India
4. ✘ Union Home Minister

**Question Number : 119 Question Id : 630680318022 Is Question Mandatory : No Calculator : None Response Time : N.A Think Time : N.A Minimum Instruction Time : 0**

**Correct Marks : 1 Wrong Marks : 0.33**

ఆంధ్రప్రదేశ్ పునర్వ్యవస్థీకరణ చట్టం 2014లోని సెక్షన్ 108 రెండు రాష్ట్రాల (ఆంధ్రప్రదేశ్ మరియు తెలంగాణ) మధ్య వివాదాలను \_\_\_\_\_ కి సూచించడాన్ని అనుమతిస్తుంది.

**Options :**

1. ✘ భారత ప్రధాని
2. ✔ భారత రాష్ట్రపతి
3. ✘ భారత ప్రధాన న్యాయమూర్తి
4. ✘ కేంద్ర హోం మంత్రి

**Question Number : 120 Question Id : 630680318023 Is Question Mandatory : No Calculator : None Response Time : N.A Think Time : N.A Minimum Instruction Time : 0**

**Correct Marks : 1 Wrong Marks : 0.33**

28 నవంబర్ 2018 నాటి ఉత్తర్వు ద్వారా, ఆంధ్రప్రదేశ్ మరియు తెలంగాణ రాష్ట్రాల మధ్య విభజన సమస్యలను పరిష్కరించడానికి భారతదేశ అత్యున్నత న్యాయస్థానం \_\_\_\_\_ని ఏర్పాటు చేసింది.

**Options :**

1. ✖ జస్టిస్ SP తాలుక్దార్ కమిటీ
2. ✖ జస్టిస్ BM షా కమిటీ
3. ✖ జస్టిస్ JS వర్మ కమిటీ
4. ✔ జస్టిస్ DM ధర్మాధికారి కమిటీ

**Question Number : 120 Question Id : 630680318023 Is Question Mandatory : No Calculator : None Response Time : N.A Think Time : N.A Minimum Instruction Time : 0**

**Correct Marks : 1 Wrong Marks : 0.33**

Through an order dated 28 November 2018, the Supreme Court of India constituted the \_\_\_\_\_ to resolve bifurcation issues between the states of Andhra Pradesh and Telangana.

**Options :**

1. ✖ Justice S P Talukdar Committee
2. ✖ Justice B M Shah Committee
3. ✖ Justice J S Verma Committee
4. ✔ Justice D M Dharmadhikari Committee

**Question Number : 121 Question Id : 630680318024 Is Question Mandatory : No Calculator : None Response Time : N.A Think Time : N.A Minimum Instruction Time : 0**

**Correct Marks : 1 Wrong Marks : 0.33**

K, L, M, N, O, P మరియు R అనే ఏడుగురు వ్యక్తులు ఉత్తరాభిముఖంగా సరళ రేఖలో కూర్చున్నారు. N అనే వ్యక్తి L కి ఎడమ వైపున రెండవ స్థానంలో ఉన్నాడు. P అనే వ్యక్తి O కి కుడి వైపున మూడవ స్థానంలో ఉన్నాడు. O కు తక్షణమే పొరుగున N లేడు. K మరియు O ల మధ్య L మాత్రమే కూర్చోని ఉన్నాడు. M అనే వ్యక్తి L కు కుడివైపు మూడవ స్థానంలో ఉన్నాడు. N ఒక చివరన కూర్చున్నాడు. అయిన P కి ఎడమ వైపు నాల్గవ స్థానంలో ఎవరు కూర్చున్నారు?

**Options :**

1. ✖ R

2. ✖ N
3. ✖ K
4. ✔ L

**Question Number : 121 Question Id : 630680318024 Is Question Mandatory : No Calculator : None Response Time : N.A Think Time : N.A Minimum Instruction Time : 0**

**Correct Marks : 1 Wrong Marks : 0.33**

Seven people named K, L, M, N, O, P and R are sitting in a straight line facing north direction. N is second to the left of L. P is third to the right of O. N is not the immediate neighbour of O. Only L is sitting between K and O. M is third to the right of L. N is at one of the ends. Who is sitting fourth to the left of P?

**Options :**

1. ✖ R
2. ✖ N
3. ✖ K
4. ✔ L

**Question Number : 122 Question Id : 630680318025 Is Question Mandatory : No Calculator : None Response Time : N.A Think Time : N.A Minimum Instruction Time : 0**

**Correct Marks : 1 Wrong Marks : 0.33**

A, B, C, D, E, F మరియు G లకు సోమవారం నుండి ప్రారంభమై ఆదివారంతో ముగిసేలా ఒకే వారంలో రోజుకొక్కరి చొప్పున పరీక్షలున్నాయి. E యొక్క పరీక్ష A కు తక్షణమే ముందు ఉంటుంది. B పరీక్ష తర్వాత ఇద్దరు వ్యక్తులు మాత్రమే పరీక్షలను కలిగి ఉంటారు. A మరియు B ల పరీక్షల మధ్య ఇద్దరికి మాత్రమే పరీక్షలు ఉన్నాయి. C పరీక్ష F పరీక్షకు తక్షణమే ముందు ఉంది. G పరీక్ష F పరీక్ష తర్వాత ఒక రోజున ఉంది. G పరీక్ష D పరీక్ష తర్వాత తక్షణమే ఉంది. అయిన F యొక్క పరీక్ష ఏ రోజున ఉంది?

**Options :**

1. ✖ మంగళవారం
2. ✖ బుధవారం
3. ✔ గురువారం
4. ✖ శనివారం

**Question Number : 122 Question Id : 630680318025 Is Question Mandatory : No Calculator : None Response Time : N.A Think Time : N.A Minimum Instruction Time : 0**

**Correct Marks : 1 Wrong Marks : 0.33**

Each of A, B, C, D, E, F and G has an exam on a different day of a week starting from Monday and ending on Sunday of the same week. E's exam is immediately before A. Only two people have exams after B. Only two people have exams between the exams of A and B. C's exam is immediately before F. G's exam is on some day after F. G's exam is immediately after D. On which day is F's exam?

**Options :**

1. ✖ Tuesday
2. ✖ Wednesday
3. ✔ Thursday
4. ✖ Saturday

**Question Number : 123 Question Id : 630680318026 Is Question Mandatory : No Calculator : None Response Time : N.A Think Time : N.A Minimum Instruction Time : 0**

**Correct Marks : 1 Wrong Marks : 0.33**

P, Q, R, S, T, U, V మరియు W అనే ఎనిమిది మంది స్నేహితులు భవనంలోని వివిధ అంతస్తులలో నివసిస్తున్నారు. కింది అంతస్తు సంఖ్యను 1గా, దాని పైన ఉన్న అంతస్తు సంఖ్యను 2గా మరియు అదే క్రమంలో అన్నిటికంటే పై అంతస్తు సంఖ్యను 8గా గుర్తించారు. Q అనే వ్యక్తి W యొక్క అంతస్తుకు తక్షణమే పైన ఉన్న అంతస్తులో నివసిస్తున్నాడు. S మరియు U ల యొక్క అంతస్తుల మధ్య R మాత్రమే నివసిస్తున్నాడు. V మరియు P ల యొక్క అంతస్తుల మధ్య ముగ్గురు వ్యక్తులు మాత్రమే నివసిస్తారు. V అనే వ్యక్తి అన్నిటికంటే పై అంతస్తులో నివసిస్తున్నారు. U అనే వ్యక్తి 1వ అంతస్తులో నివసిస్తున్నారు. T అనే వ్యక్తి W యొక్క అంతస్తు క్రింద ఉన్న వాటిలో ఒక అంతస్తులో నివసిస్తున్నారు. అయిన 5వ అంతస్తులో ఎవరు నివసిస్తున్నారు?

**Options :**

1. ✖ W
2. ✖ Q
3. ✔ T
4. ✖ S

**Question Number : 123 Question Id : 630680318026 Is Question Mandatory : No Calculator : None Response Time : N.A Think Time : N.A Minimum Instruction Time : 0**

**Correct Marks : 1 Wrong Marks : 0.33**

Eight friends named P, Q, R, S, T, U, V and W live on different floors of a building. The ground floor is number 1, the floor above it number 2 and so on till the top floor is number 8. Q lives on the floor immediately above W's floor. Only R lives between the floors of S and U. Only three people live between the floors of V and P. V lives on the top floor. U lives on floor 1. T lives on some floor below W's floor. Who lives on floor 5?

**Options :**

1. ✖ W



2. ✘ Q

3. ✔ T

4. ✘ S

**Question Number : 124 Question Id : 630680318027 Is Question Mandatory : No Calculator : None Response Time : N.A Think Time : N.A Minimum Instruction Time : 0**

**Correct Marks : 1 Wrong Marks : 0.33**

Read the given statements and conclusions carefully. Assuming that the information given in the statements is true, even if it appears to be at variance with commonly known facts, decide which of the given conclusions logically follow(s) from the statement(s).

Statements:

All televisions are computers.

Some televisions are mixers.

Conclusions:

I. Some computers are mixers.

II. No computer is mixer.

**Options :**

1. ✔ Only conclusion I follows

2. ✘ Only conclusion II follows

3. ✘ Both conclusions I and II follow

4. ✘ Neither conclusion I nor II follows

**Question Number : 124 Question Id : 630680318027 Is Question Mandatory : No Calculator : None Response Time : N.A Think Time : N.A Minimum Instruction Time : 0**

**Correct Marks : 1 Wrong Marks : 0.33**

ఇచ్చిన ప్రకటనలు మరియు పర్యవసానాలను జాగ్రత్తగా చదవండి. ప్రకటనలలో ఇచ్చిన సమాచారం సాధారణంగా తెలిసిన వాస్తవాలతో విభేదిస్తున్నట్లు కనిపించినప్పటికీ దానిని నిజమని భావించి, ప్రకటన(ల) నుండి తార్కికంగా అనుసరించే పర్యవసానము(ల)ను నిర్ణయించండి.

ప్రకటనలు:

అన్ని టెలివిజన్లు కంప్యూటర్లు.

కొన్ని టెలివిజన్లు మిక్సర్లు.

పర్యవసానాలు:

- I. కొన్ని కంప్యూటర్లు మిక్సర్లు.  
II. ఏ కంప్యూటర్ మిక్సర్ కాదు.

**Options :**

1. ✓ పర్యవసానం I మాత్రమే అనుసరిస్తుంది
2. ✘ పర్యవసానం II మాత్రమే అనుసరిస్తుంది
3. ✘ I మరియు II రెండు పర్యవసానాలు అనుసరిస్తాయి
4. ✘ పర్యవసానం I కానీ లేదా II కానీ ఏదీ అనుసరించదు

**Question Number : 125 Question Id : 630680318028 Is Question Mandatory : No Calculator : None Response Time : N.A Think Time : N.A Minimum Instruction Time : 0**

**Correct Marks : 1 Wrong Marks : 0.33**

Read the given statements and conclusions carefully. Assuming that the information given in the statements is true, even if it appears to be at variance with commonly known facts, decide which of the given conclusions logically follow(s) from the statement(s).

Statements:

- All animals are tigers.  
All tigers are birds.  
No bird is a pigeon.

Conclusions:

- I. No tiger is a pigeon.  
II. Some pigeons are animals.  
III. Some animals are not birds.

**Options :**

1. ✓ Only conclusion I follows
2. ✘ Only conclusion II follows
3. ✘ Conclusions I and II follow
4. ✘ Conclusions I and III follow

**Question Number : 125 Question Id : 630680318028 Is Question Mandatory : No Calculator : None Response Time : N.A Think Time : N.A Minimum Instruction Time : 0**

**Correct Marks : 1 Wrong Marks : 0.33**

ఇచ్చిన ప్రకటనలు మరియు పర్యవసానాలను జాగ్రత్తగా చదవండి. ప్రకటనలలో ఇచ్చిన సమాచారం సాధారణంగా తెలిసిన వాస్తవాలతో విభేదిస్తున్నట్లు కనిపించినప్పటికీ దానిని నిజమని భావించి, ప్రకటన(ల) నుండి తార్కికంగా అనుసరించే పర్యవసానము(ల)ను

నిర్ణయించండి.

ప్రకటనలు:

జంతువులన్నీ పులులే.

పులులన్నీ పక్షులే.

ఏ పక్షి పావురం కాదు.

పర్యవసానాలు:

I. ఏ పులి పావురం కాదు.

II. కొన్ని పావురాలు జంతువులు.

III. కొన్ని జంతువులు పక్షులు కావు.

**Options :**

1. ✓ పర్యవసానం I మాత్రమే అనుసరిస్తుంది
2. ✘ పర్యవసానం II మాత్రమే అనుసరిస్తుంది
3. ✘ I మరియు II పర్యవసానాలు అనుసరిస్తాయి
4. ✘ I మరియు III పర్యవసానాలు అనుసరిస్తాయి

**Question Number : 126 Question Id : 630680318029 Is Question Mandatory : No Calculator : None Response Time : N.A Think Time : N.A Minimum Instruction Time : 0**

**Correct Marks : 1 Wrong Marks : 0.33**

If  $V = Y > K > P > W = R$  and  $Y < J < T$ , then which of the following is NOT correct?

**Options :**

1. ✘  $W < V$
2. ✓  $K > T$
3. ✘  $Y > R$
4. ✘  $J > P$

**Question Number : 126 Question Id : 630680318029 Is Question Mandatory : No Calculator : None Response Time : N.A Think Time : N.A Minimum Instruction Time : 0**

**Correct Marks : 1 Wrong Marks : 0.33**

ఒకవేళ  $V = Y > K > P > W = R$  మరియు  $Y < J < T$  అయినట్లైతే, కింది వాటిలో సరైనది కానిది ఏది?

**Options :**

1. ✘  $W < V$

2. ✓ K > T

3. ✗ Y > R

4. ✗ J > P

**Question Number : 127 Question Id : 630680318030 Is Question Mandatory : No Calculator : None Response Time : N.A Think Time : N.A Minimum Instruction Time : 0**

**Correct Marks : 1 Wrong Marks : 0.33**

కింది శ్రేణిలో ప్రశ్న గుర్తు (?)ని భర్తీ చేసే పదాన్ని ఎంచుకోండి.

FOD-13, CKY-29, ZGT-61, WCO-125, ?, QUE-509

**Options :**

1. ✓ TYJ-253

2. ✗ TYK-258

3. ✗ TZJ-250

4. ✗ TYH-244

**Question Number : 127 Question Id : 630680318030 Is Question Mandatory : No Calculator : None Response Time : N.A Think Time : N.A Minimum Instruction Time : 0**

**Correct Marks : 1 Wrong Marks : 0.33**

Select the term that will replace the question mark (?) in the following series.

FOD-13, CKY-29, ZGT-61, WCO-125, ?, QUE-509

**Options :**

1. ✓ TYJ-253

2. ✗ TYK-258

3. ✗ TZJ-250

4. ✗ TYH-244

**Question Number : 128 Question Id : 630680318031 Is Question Mandatory : No Calculator : None Response Time : N.A Think Time : N.A Minimum Instruction Time : 0**

**Correct Marks : 1 Wrong Marks : 0.33**

BRISTLES' అనే పదంలో, ఆంగ్ల అక్షరమాల శ్రేణిలో ఏవేని రెండక్షరాల మధ్య ఉన్నన్ని అక్షరాలనే తమ మధ్య కలిగిన అక్షరాల జతలు

ఎన్ని ఉన్నాయో కనుగొనండి? (ముందుకు మరియు వెనుకకు రెండు దిశలను పరిగణలోకి తీసుకోండి.)

**Options :**

1. ✘ 1
2. ✘ 2
3. ✔ 3
4. ✘ 4

**Question Number : 128 Question Id : 630680318031 Is Question Mandatory : No Calculator : None Response Time : N.A Think Time : N.A Minimum Instruction Time : 0**

**Correct Marks : 1 Wrong Marks : 0.33**

How many such pairs of letters are there in the word 'BRISTLES' that have as many letters between them as in the English alphabetical series? (Count both forward and backward directions.)

**Options :**

1. ✘ 1
2. ✘ 2
3. ✔ 3
4. ✘ 4

**Question Number : 129 Question Id : 630680318032 Is Question Mandatory : No Calculator : None Response Time : N.A Think Time : N.A Minimum Instruction Time : 0**

**Correct Marks : 1 Wrong Marks : 0.33**

Select the option that is related to the fifth letter cluster in the same way as the first letter cluster is related to the second letter cluster and the third letter cluster is related to the fourth letter cluster.

PROUD: FWQTR: : TIGHT : VJKV : : RISER : ?

**Options :**

1. ✘ THVKT
2. ✔ TGUKT
3. ✘ GTULT
4. ✘ TFUKT

**Question Number : 129 Question Id : 630680318032 Is Question Mandatory : No Calculator : None Response Time : N.A Think Time : N.A Minimum Instruction Time : 0**

**Correct Marks : 1 Wrong Marks : 0.33**

మొదటి అక్షర-సమూహం రెండవ అక్షర- సమూహంతో, అలాగే మూడవ అక్షర సమూహం నాల్గవ అక్షర- సమూహంతో ఎలా సంబంధాన్ని కలిగి ఉన్నాయో అదే విధంగా ఐదవ అక్షర- సమూహంతో సంబంధాన్ని కలిగి ఉన్న ఎంపికను ఎంచుకోండి.

PROUD: FWQTR: : TIGHT : VJIKV : :RISER : ?

**Options :**

1. ✘ THVKT
2. ✔ TGUKT
3. ✘ GTULT
4. ✘ TFUKT

**Question Number : 130 Question Id : 630680318033 Is Question Mandatory : No Calculator : None Response Time : N.A Think Time : N.A Minimum Instruction Time : 0**

**Correct Marks : 1 Wrong Marks : 0.33**

ప్రశ్నలో ఇచ్చిన పద త్రయం కలిగియున్నట్టి సంబంధాన్నే కలిగి ఉన్న పద త్రయాన్ని ఐచ్ఛికాల నుండి ఎంచుకోండి.

CLAN: XOZM: OFQD

**Options :**

1. ✘ TOYS: GLBF: RWUA
2. ✘ SOME: HLNK: LPRZ
3. ✘ BITS: YRFH: UBKI
4. ✔ COMB: XLNY: RFEP

**Question Number : 130 Question Id : 630680318033 Is Question Mandatory : No Calculator : None Response Time : N.A Think Time : N.A Minimum Instruction Time : 0**

**Correct Marks : 1 Wrong Marks : 0.33**

Select the letter cluster triad in which the letters clusters have the same relationship as in the letter cluster triad given below.

CLAN: XOZM: OFQD

**Options :**

1. ✘ TOYS: GLBF: RWUA
2. ✘ SOME: HLNK: LPRZ
3. ✘ BITS: YRFH: UBKI

## 4. ✓ COMB: XLNY: RFEP

**Question Number : 131 Question Id : 630680318034 Is Question Mandatory : No Calculator : None Response Time : N.A Think Time : N.A Minimum Instruction Time : 0**

**Correct Marks : 1 Wrong Marks : 0.33**

కింది నాలుగు పద-జతలలో మూడు నిర్దిష్ట పద్ధతిలో ఒకేలా ఉంటాయి మరియు ఒకటి భిన్నంగా ఉంటుంది. వాటిలో భిన్నమైనదాన్ని ఎంచుకోండి.

**Options :**

1. ✘ క్రికెట్: ఓవర్‌త్రో
2. ✘ ఫుట్‌బాల్: బ్రేస్
3. ✘ గోల్ఫ్: డఫ్
4. ✓ పోల్: డ్యూస్

**Question Number : 131 Question Id : 630680318034 Is Question Mandatory : No Calculator : None Response Time : N.A Think Time : N.A Minimum Instruction Time : 0**

**Correct Marks : 1 Wrong Marks : 0.33**

Three of the following four word-pairs are alike in a certain manner and one is different. Select the one that is different.

**Options :**

1. ✘ Cricket: Overthrow
2. ✘ Football: Brace
3. ✘ Golf: Duff
4. ✓ Polo: Deuce

**Question Number : 132 Question Id : 630680318035 Is Question Mandatory : No Calculator : None Response Time : N.A Think Time : N.A Minimum Instruction Time : 0**

**Correct Marks : 1 Wrong Marks : 0.33**

కింది శ్రేణిలో ప్రశ్న గుర్తు (?)ని భర్తీ చేయగల సంఖ్యను ఇవ్వబడిన ఐచ్ఛికాల నుండి ఎంచుకోండి.

23, 24, 32, 59, 123, ?, 464

**Options :**

1. ✘ 224
2. ✘ 240

3. ✓ 248

4. ✗ 260

**Question Number : 132 Question Id : 630680318035 Is Question Mandatory : No Calculator : None Response Time : N.A Think Time : N.A Minimum Instruction Time : 0**

**Correct Marks : 1 Wrong Marks : 0.33**

Select the number from among the given options that can replace the question mark (?) in the following series.

23, 24, 32, 59, 123, ?, 464

**Options :**

1. ✗ 224

2. ✗ 240

3. ✓ 248

4. ✗ 260

**Question Number : 133 Question Id : 630680318036 Is Question Mandatory : No Calculator : None Response Time : N.A Think Time : N.A Minimum Instruction Time : 0**

**Correct Marks : 1 Wrong Marks : 0.33**

ఒక నిర్దిష్ట కోడ్ భాషలో, ఒకవేళ '&' అంటే 'కూడిక', '#' అంటే 'గుణకారం', '@' అంటే భాగాహారం మరియు '%' అంటే 'వ్యవకలనం' అయినట్లైతే క్రింది సమాసం విలువను కనుగొనండి

97 % (64 @ 4)@8 # (25@5) & (88%64) # 2.

**Options :**

1. ✗ 110

2. ✗ 115

3. ✓ 135

4. ✗ 150

**Question Number : 133 Question Id : 630680318036 Is Question Mandatory : No Calculator : None Response Time : N.A Think Time : N.A Minimum Instruction Time : 0**

**Correct Marks : 1 Wrong Marks : 0.33**

In a certain code language, if '&' means 'addition', '#' means 'multiplication', '@' means 'division' and '%' means 'subtraction', then find the value of



97 % (64 @ 4)@8 # (25@5) & (88%64) # 2.

**Options :**

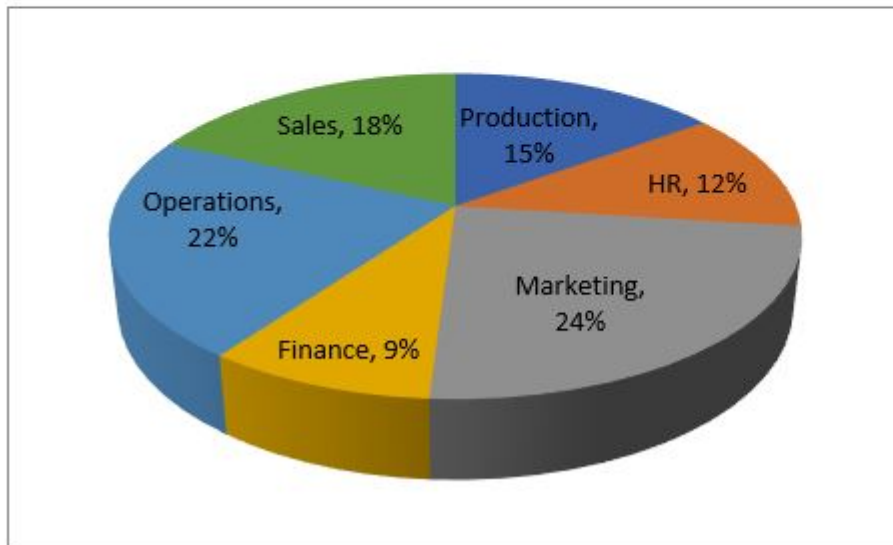
- 1. ✖ 110
- 2. ✖ 115
- 3. ✔ 135
- 4. ✖ 150

**Question Number : 134 Question Id : 630680318037 Is Question Mandatory : No Calculator : None Response Time : N.A Think Time : N.A Minimum Instruction Time : 0**

**Correct Marks : 1 Wrong Marks : 0.33**

Study the given pie chart and answer the question that follows.

The following pie chart shows the percentage of employees working in different departments of an organisation. The total number of employees working in the organisation is 12,000. How many employees are more in Marketing department than the number of employees in Production department?



**Options :**

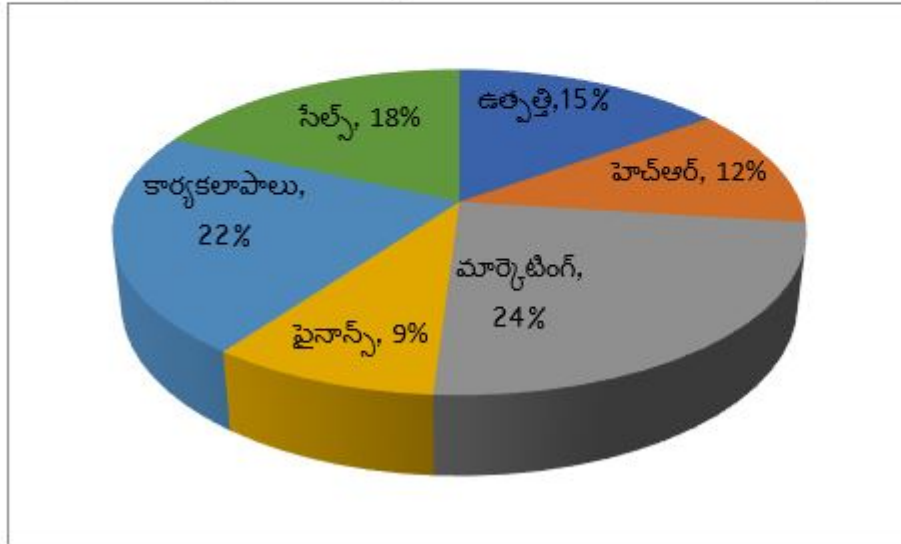
1. ✖ 720
2. ✖ 960
3. ✔ 1080
4. ✖ 1140

**Question Number : 134 Question Id : 630680318037 Is Question Mandatory : No Calculator : None Response Time : N.A Think Time : N.A Minimum Instruction Time : 0**

**Correct Marks : 1 Wrong Marks : 0.33**

ఇచ్చిన పై చార్ట్‌ని అధ్యయనం చేసి, క్రింది ప్రశ్నకు సమాధానం ఇవ్వండి.

కింది పై చార్ట్ ఒక సంస్థలోని వివిధ విభాగాలలో పని చేస్తున్న ఉద్యోగుల శాతాన్ని చూపుతుంది. సంస్థలో పని చేస్తున్న మొత్తం ఉద్యోగుల సంఖ్య 12,000. ఉత్పత్తి శాఖలోని ఉద్యోగుల సంఖ్య కంటే మార్కెటింగ్ శాఖలో ఎంత మంది ఉద్యోగులు ఎక్కువగా ఉన్నారు?

**Options :**

1. ✖ 720
2. ✖ 960
3. ✔ 1080

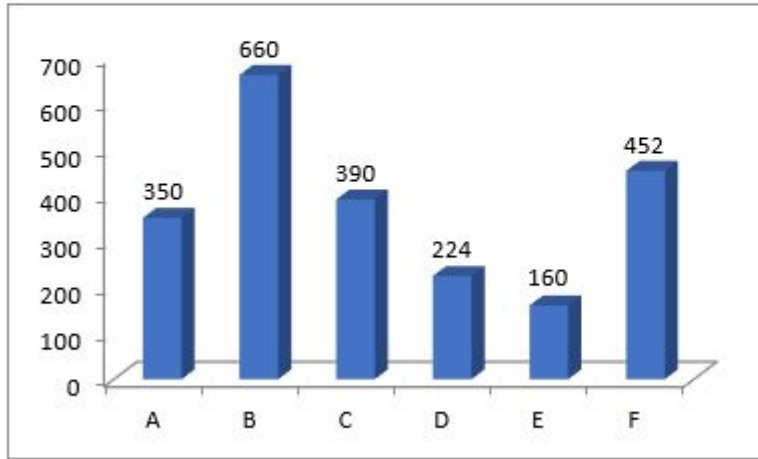
4. ✖ 1140

Question Number : 135 Question Id : 630680318038 Is Question Mandatory : No Calculator : None Response Time : N.A Think Time : N.A Minimum Instruction Time : 0

Correct Marks : 1 Wrong Marks : 0.33

ఇచ్చిన చార్ట్‌ను అధ్యయనం చేసి, కింది ప్రశ్నకు సమాధానం ఇవ్వండి.

ఈ క్రింది చార్ట్ కళాశాలలో A, B, C, D, E మరియు F అని లేబుల్ చేయబడిన ఆరు వేర్వేరు కోర్సుల్లో నమోదు చేసుకున్న విద్యార్థుల సంఖ్యను చూపుతుంది.



E కోర్సులో చేరిన విద్యార్థుల సంఖ్య మొత్తం ఆరు కోర్సుల్లో చేరిన మొత్తం విద్యార్థుల సంఖ్యలో ఎంత శాతం?

Options :

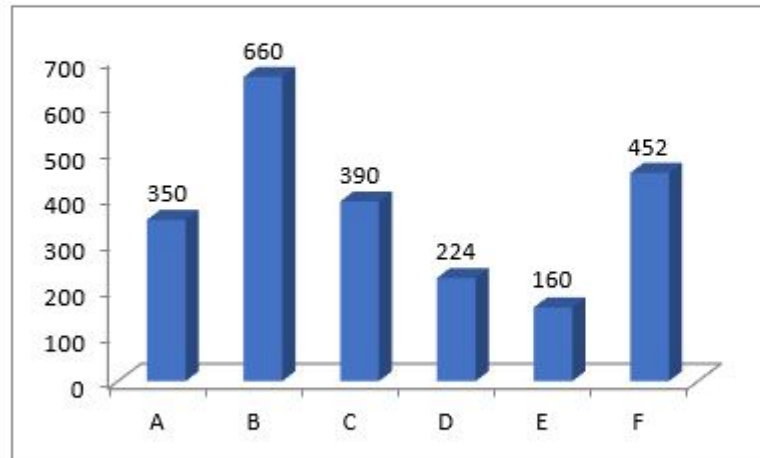
1. ✖ 5.5%
2. ✔ 7.15%
3. ✖ 9.25%
4. ✖ 11.1%

Question Number : 135 Question Id : 630680318038 Is Question Mandatory : No Calculator : None Response Time : N.A Think Time : N.A Minimum Instruction Time : 0

Correct Marks : 1 Wrong Marks : 0.33

Study the given chart and answer the question that follows.

The following chart shows the number of students enrolled in six different courses labelled A, B, C, D, E and F in a college.



The number of students enrolled in course E is what percentage of the total number of students enrolled in all six courses?

Options :

- ✘ 5.5%
- ✔ 7.15%
- ✘ 9.25%
- ✘ 11.1%

Question Number : 136 Question Id : 630680318039 Is Question Mandatory : No Calculator : None Response Time : N.A Think Time : N.A Minimum Instruction Time : 0

Correct Marks : 1 Wrong Marks : 0.33

In a school having 400 students, boys and girls are in the ratio 3 : 5. The students speak Hindi, English or both the languages. 12% of the boys speak only Hindi, 22% of the girls speak only English, 24% of the total students speak only Hindi. How many girls speak only Hindi?

Options :

1. ✘ 55
2. ✘ 117
3. ✘ 96
4. ✔ 78

Question Number : 136 Question Id : 630680318039 Is Question Mandatory : No Calculator : None Response Time : N.A Think Time : N.A Minimum Instruction Time : 0

Correct Marks : 1 Wrong Marks : 0.33

400 మంది విద్యార్థులు ఉన్న పాఠశాలలో బాలురు మరియు బాలికలు 3 : 5 నిష్పత్తిలో ఉన్నారు. విద్యార్థులు హిందీ, ఇంగ్లీష్ లేదా రెండు భాషలనూ మాట్లాడతారు. 12% మంది బాలురు హిందీ మాత్రమే మాట్లాడతారు, 22% మంది బాలికలు ఇంగ్లీష్ మాత్రమే మాట్లాడతారు, మొత్తం విద్యార్థులలో 24% మంది హిందీ మాత్రమే మాట్లాడతారు. ఎంత మంది బాలికలు హిందీ మాత్రమే మాట్లాడతారు?

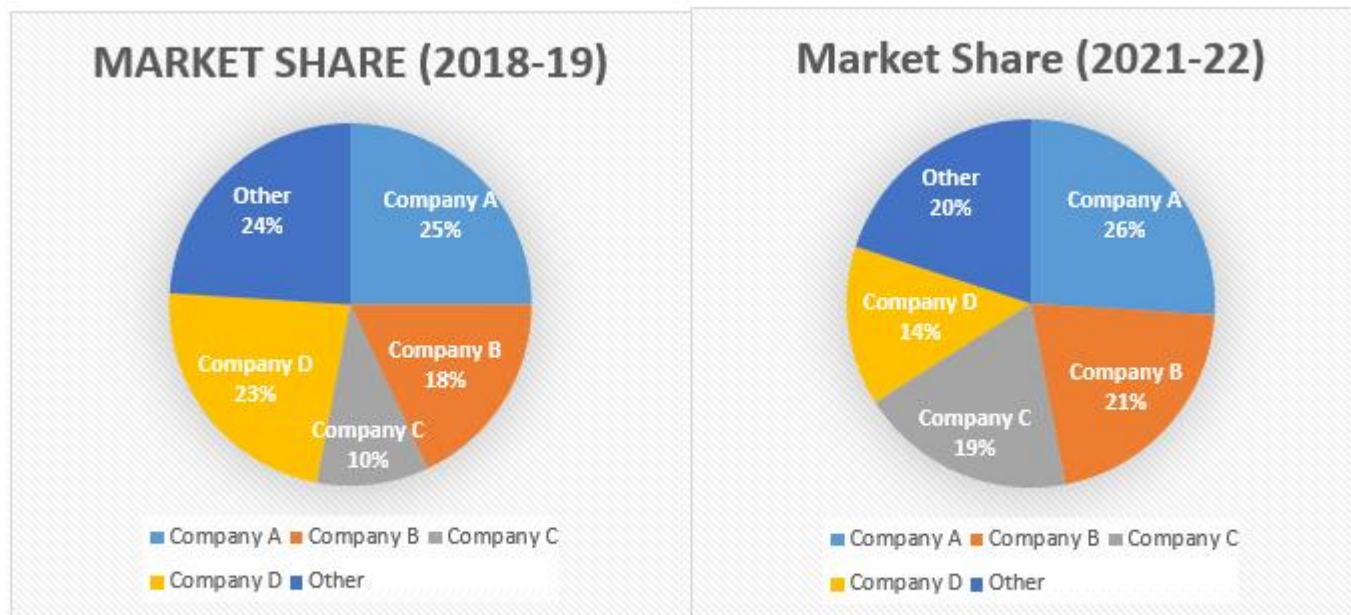
Options :

1. ✘ 55
2. ✘ 117
3. ✘ 96
4. ✔ 78

Question Number : 137 Question Id : 630680318040 Is Question Mandatory : No Calculator : None Response Time : N.A Think Time : N.A Minimum Instruction Time : 0

Correct Marks : 1 Wrong Marks : 0.33

Study the following pie graph, and answer the question given below.



If the market size in 2021-22 is ₹1,200 crores and the market size in 2018-19 is ₹1,800 crores, then the difference (in ₹ crore) between in the revenues of Company B in 2021-22 and Company D in 2018-19 is:

Options :

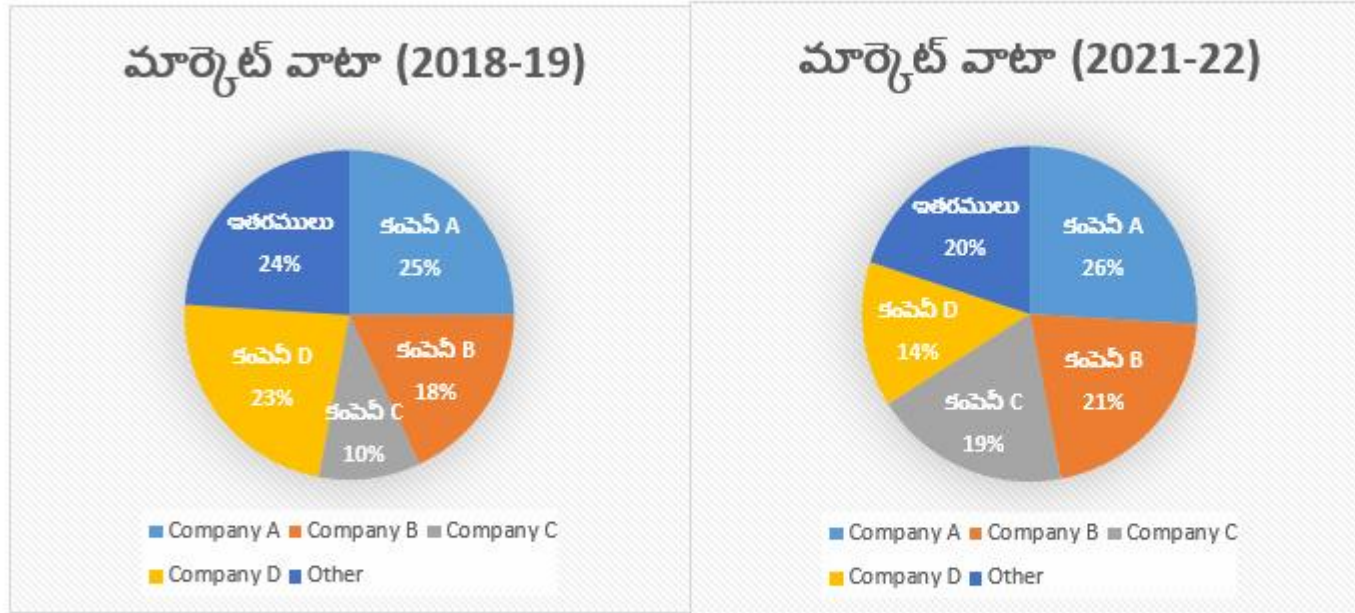
1. ✘ 168
2. ✔ 162
3. ✘ 156
4. ✘ 165



Question Number : 137 Question Id : 630680318040 Is Question Mandatory : No Calculator : None Response Time : N.A Think Time : N.A Minimum Instruction Time : 0

Correct Marks : 1 Wrong Marks : 0.33

కింది 'పై' గ్రాఫ్‌ని అధ్యయనం చేసి, దిగువన ఇవ్వబడిన ప్రశ్నకు సమాధానం ఇవ్వండి.



ఒకవేళ 2021-22లో మార్కెట్ పరిమాణం ₹1,200 కోట్లు మరియు 2018-19లో మార్కెట్ పరిమాణం ₹1,800 కోట్లు అయినట్లైతే, 2021-22లో కంపెనీ B మరియు 2018-19లో కంపెనీ D ఆదాయాల మధ్య గల వ్యత్యాసం (₹ కోట్లలో):

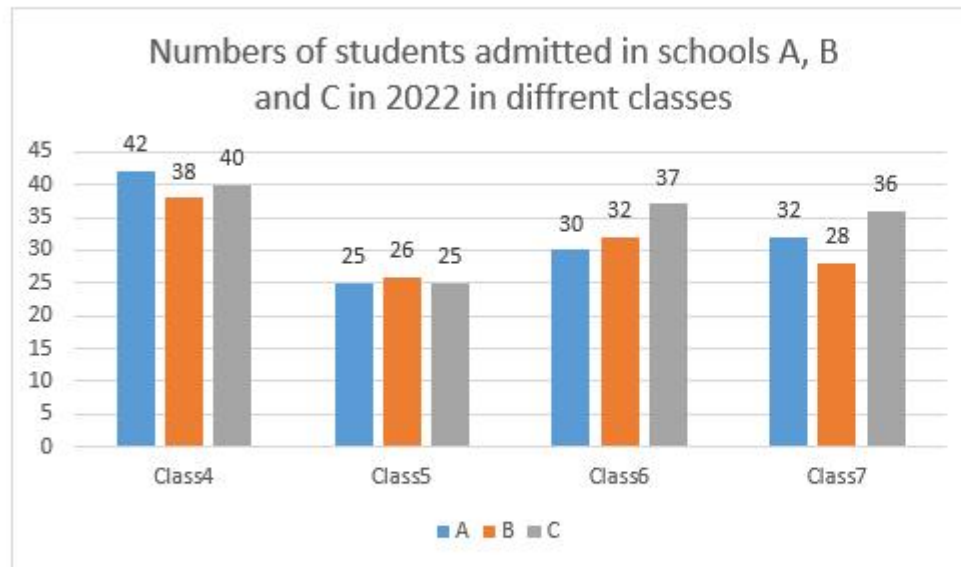
Options :

1. ✘ 168
2. ✔ 162
3. ✘ 156
4. ✘ 165

**Question Number : 138 Question Id : 630680318041 Is Question Mandatory : No Calculator : None Response Time : N.A Think Time : N.A Minimum Instruction Time : 0**

**Correct Marks : 1 Wrong Marks : 0.33**

Study the given graph and answer the question that follows.



The average number of students admitted in class 6 in all schools is what percentage of the average number of students admitted in class 4 in all schools?

**Options :**

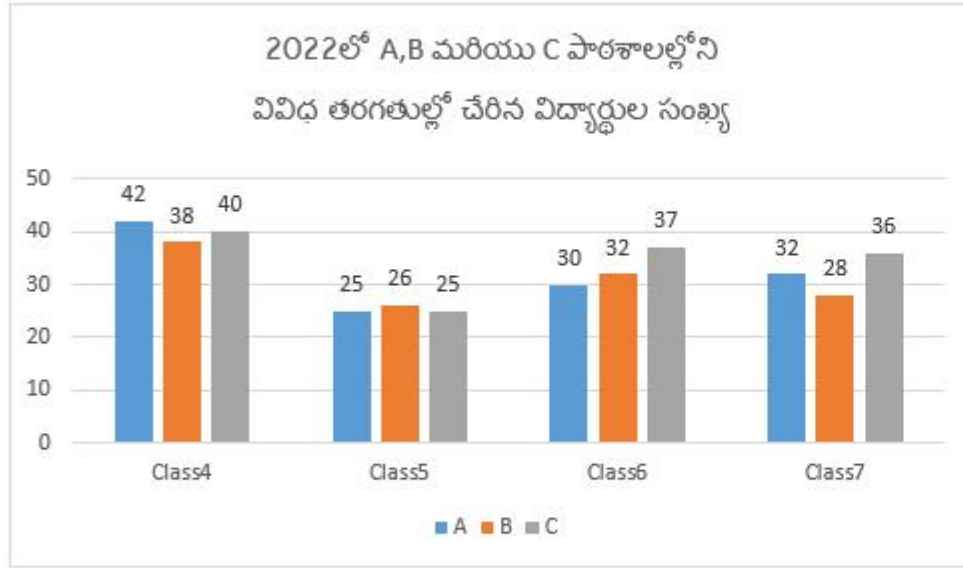
1. ✓ 82.5%
2. ✗ 80.5%
3. ✗ 75.5%
4. ✗ 78.5%



Question Number : 138 Question Id : 630680318041 Is Question Mandatory : No Calculator : None Response Time : N.A Think Time : N.A Minimum Instruction Time : 0

Correct Marks : 1 Wrong Marks : 0.33

ఇచ్చిన గ్రాఫ్‌ను అధ్యయనం చేసి, కింది ప్రశ్నకు సమాధానం ఇవ్వండి.



అన్ని పాఠశాలల్లో 6వ తరగతిలో చేరిన విద్యార్థుల సగటు సంఖ్య, అన్ని పాఠశాలల్లో 4వ తరగతిలో చేరిన విద్యార్థుల సగటులో ఎంత శాతం?

Options :

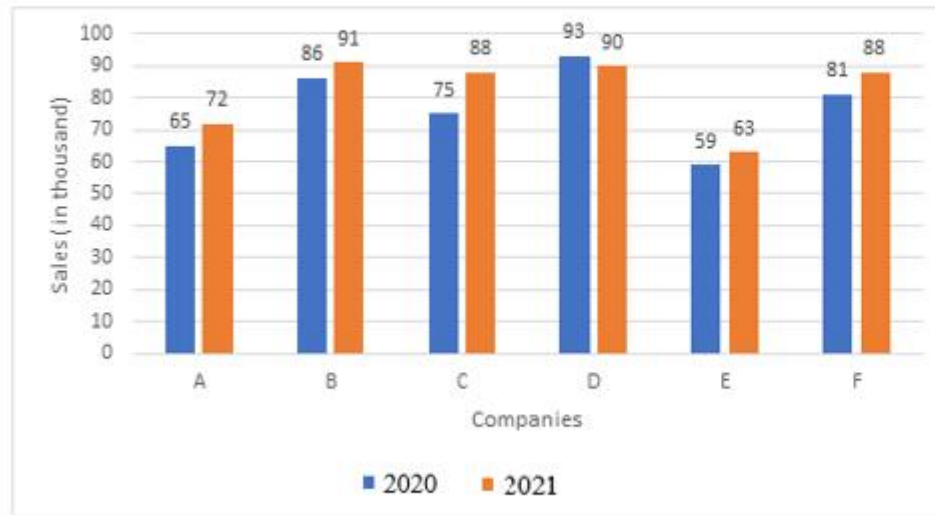
1. ✓ 82.5%
2. ✗ 80.5%
3. ✗ 75.5%
4. ✗ 78.5%

Question Number : 139 Question Id : 630680318042 Is Question Mandatory : No Calculator : None Response Time : N.A Think Time :

**N.A Minimum Instruction Time : 0**

**Correct Marks : 1 Wrong Marks : 0.33**

The given bar graph shows the sales of computers (in thousands) from the top-most six companies during two consecutive years 2020 and 2021. Study the graph and answer the question that follows.



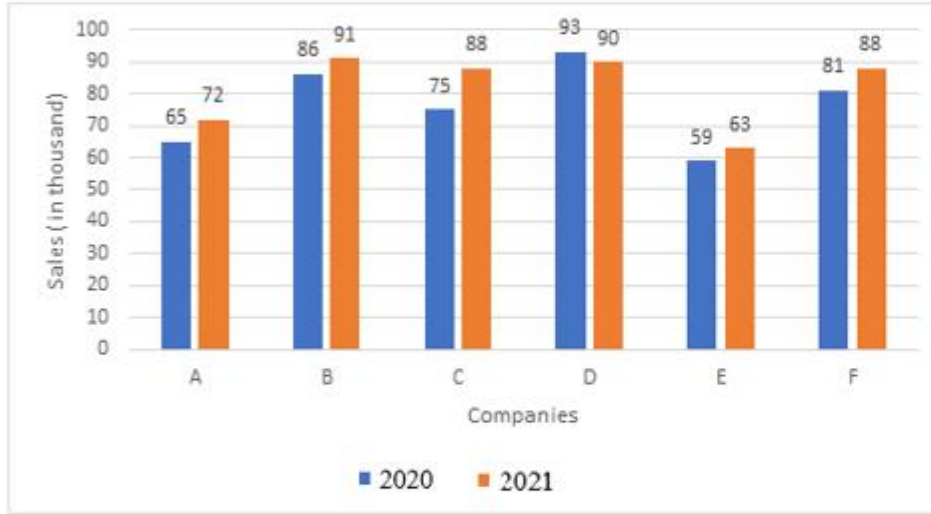
Find the ratio of the average sale of all the branches for the years 2020 and 2021.

**Options :**

1. ✘ 66.5 : 81
2. ✔ 76.5 : 82
3. ✘ 88 : 76.5
4. ✘ 80 : 81

**Question Number : 139 Question Id : 630680318042 Is Question Mandatory : No Calculator : None Response Time : N.A Think Time : N.A Minimum Instruction Time : 0 Correct Marks : 1 Wrong Marks : 0.33**

ఇచ్చిన బార్ గ్రాఫ్ 2020 మరియు 2021 రెండు వరుస సంవత్సరాలలో అత్యంత ప్రముఖ ఆరు కంపెనీల నుండి కంప్యూటర్ల విక్రయాలను (వేలలో) చూపుతుంది. గ్రాఫ్ను అధ్యయనం చేసి, కింది ప్రశ్నకు సమాధానం ఇవ్వండి.



2020 మరియు 2021 సంవత్సరాలకు గాను అన్ని శాఖల సగటు విక్రయాల నిష్పత్తిని కనుగొనండి.

అనువాద సూచనలు:

Sales (In Thousands) = విక్రయాలు (వేలలో)

Options :

1. ✘ 66.5 : 81
2. ✔ 76.5 : 82
3. ✘ 88 : 76.5
4. ✘ 80 : 81

Question Number : 140 Question Id : 630680318043 Is Question Mandatory : No Calculator : None Response Time : N.A Think Time :

**N.A Minimum Instruction Time : 0**

**Correct Marks : 1 Wrong Marks : 0.33**

కింది పట్టికను అధ్యయనం చేసి, క్రింది ప్రశ్నకు సమాధానం ఇవ్వండి.

2011 నుండి 2016 వరకు వివిధ రాష్ట్రాల్లోని బ్యాంకు శాఖల నుండి డిపాజిట్లు (₹ కోట్లలో).

2011 నుండి 2016 వరకు కేరళలోని బ్యాంకు యొక్క అన్ని శాఖలలోని మొత్తం డిపాజిట్లు, కర్ణాటకలోని అన్ని శాఖలలోని అన్ని సంవత్సరాల మొత్తం డిపాజిట్లలో ఎంత శాతం?

సంవత్సరం →	2011	2012	2013	2014	2015	2016
రాష్ట్రాలు↓						
ఆంధ్రప్రదేశ్	23	47	58	76	92	105
కర్ణాటక	0	18	26	45	63	88
తమిళ నాడు	0	0	15	29	42	68
కేరళ	0	0	0	8	36	76

**Options :**

1. ✖ 45%

2. ✖ 48%

3. ✓ 50%

4. ✗ 52%

**Question Number : 140 Question Id : 630680318043 Is Question Mandatory : No Calculator : None Response Time : N.A Think Time : N.A Minimum Instruction Time : 0**

**Correct Marks : 1 Wrong Marks : 0.33**

Study the following table and answer the question that follows.

Deposits (in ₹ crore) of a bank from its branches in different states from 2011 to 2016.

The total deposits in all the branches of the bank in Kerala from 2011 to 2016, is what percentage of the total deposits in all branches in Karnataka of all years?

Year →						
States ↓	2011	2012	2013	2014	2015	2016
Andhra Pradesh	23	47	58	76	92	105
Karnataka	0	18	26	45	63	88
Tamil Nadu	0	0	15	29	42	68
Kerala	0	0	0	8	36	76

**Options :**

1. ✗ 45%

2. ✘ 48%

3. ✔ 50%

4. ✘ 52%

**Question Number : 141 Question Id : 630680318044 Is Question Mandatory : No Calculator : None Response Time : N.A Think Time : N.A Minimum Instruction Time : 0**

**Correct Marks : 1 Wrong Marks : 0.33**

23, 25, 22, 19, 37, 57, 21, 17 ದತ್ತಾಂಶ ವ್ಯಾಪ್ತಿ:

**Options :**

1. ✘ 20

2. ✔ 40

3. ✘ 57

4. ✘ 17

**Question Number : 141 Question Id : 630680318044 Is Question Mandatory : No Calculator : None Response Time : N.A Think Time : N.A Minimum Instruction Time : 0**

**Correct Marks : 1 Wrong Marks : 0.33**

The range of the data 23, 25, 22, 19, 37, 57, 21, 17, is:

**Options :**

1. ✘ 20

2. ✔ 40

3. ✖ 57

4. ✖ 17

**Question Number : 142 Question Id : 630680318045 Is Question Mandatory : No Calculator : None Response Time : N.A Think Time : N.A Minimum Instruction Time : 0**

**Correct Marks : 1 Wrong Marks : 0.33**

The standard deviation of the data 6, 7, 10, 12, 13, 4, 8, 12, is:

**Options :**

1. ✖ 2.96

2. ✖ 2.92

3. ✖ 3.01

4. ✔ 3.04

**Question Number : 142 Question Id : 630680318045 Is Question Mandatory : No Calculator : None Response Time : N.A Think Time : N.A Minimum Instruction Time : 0**

**Correct Marks : 1 Wrong Marks : 0.33**

6, 7, 10, 12, 13, 4, 8, 12 దత్తాంశం ప్రామాణిక విచలనం:

**Options :**

1. ✖ 2.96

2. ✖ 2.92

3. ✖ 3.01

4. ✔ 3.04

Question Number : 143 Question Id : 630680318046 Is Question Mandatory : No Calculator : None Response Time : N.A Think Time : N.A Minimum Instruction Time : 0

Correct Marks : 1 Wrong Marks : 0.33

దత్తాంశం యొక్క సగటు నుండి మధ్యమ విచలనం :

$x$	2	5	6	8	10	12
$f$	2	8	10	7	8	5

Options :

1. ✖ 2

2. ✔ 2.3

3. ✖ 3

4. ✖ 3.3

Question Number : 143 Question Id : 630680318046 Is Question Mandatory : No Calculator : None Response Time : N.A Think Time : N.A Minimum Instruction Time : 0

Correct Marks : 1 Wrong Marks : 0.33



The mean deviation about the mean for the following data is:

$x$	2	5	6	8	10	12
$f$	2	8	10	7	8	5

Options :

1. ✘ 2

2. ✔ 2.3

3. ✘ 3

4. ✘ 3.3

Question Number : 144 Question Id : 630680318047 Is Question Mandatory : No Calculator : None Response Time : N.A Think Time : N.A Minimum Instruction Time : 0

Correct Marks : 1 Wrong Marks : 0.33

ఒకవేళ కింది పౌనఃపున్య విభాజిని యొక్క అంకగణిత సగటు 24.8 అయినట్లైతే,  $x$  విలువ:

తరగతి అంతరం	పౌనఃపున్యం
0-10	5
10-20	17
20-30	12
30-40	6
40-50	$x$

Options :

1. ✖ 15

2. ✖ 13

3. ✔ 10

4. ✖ 12

Question Number : 144 Question Id : 630680318047 Is Question Mandatory : No Calculator : None Response Time : N.A Think Time : N.A Minimum Instruction Time : 0

Correct Marks : 1 Wrong Marks : 0.33

If the arithmetic mean of the following frequency distribution is 24.8, then the value of  $x$  is:

Class interval	Frequency
0–10	5
10–20	17
20–30	12
30–40	6
40–50	$x$

Options :

1. ✘ 15
2. ✘ 13
3. ✔ 10
4. ✘ 12

Question Number : 145 Question Id : 630680318048 Is Question Mandatory : No Calculator : None Response Time : N.A Think Time : N.A Minimum Instruction Time : 0

Correct Marks : 1 Wrong Marks : 0.33

The geometric mean of the data 5, 25, 35, 45 is closest to:

**Options :**

1. ✘ 22.06
2. ✘ 19.60
3. ✘ 20.60
4. ✔ 21.06

**Question Number : 145 Question Id : 630680318048 Is Question Mandatory : No Calculator : None Response Time : N.A Think Time : N.A Minimum Instruction Time : 0**

**Correct Marks : 1 Wrong Marks : 0.33**

5, 25, 35, 45 దత్తాంశం యొక్క అంకగణిత సగటు సామీప్యంగా:

**Options :**

1. ✘ 22.06
2. ✘ 19.60
3. ✘ 20.60
4. ✔ 21.06

**Question Number : 146 Question Id : 630680318049 Is Question Mandatory : No Calculator : None Response Time : N.A Think Time : N.A Minimum Instruction Time : 0**

**Correct Marks : 1 Wrong Marks : 0.33**

If the mean and mode of a certain data are 23 and 8, respectively, then the median of the data is:

(Use empirical formula.)

**Options :**

1. ✘ 16

2. ✘ 19

3. ✘ 20

4. ✔ 18

**Question Number : 146 Question Id : 630680318049 Is Question Mandatory : No Calculator : None Response Time : N.A Think Time : N.A Minimum Instruction Time : 0**

**Correct Marks : 1 Wrong Marks : 0.33**

ఒకవేళ నిర్దిష్ట దత్తాంశం యొక్క సగటు మరియు బహుళకములు వరుసగా 23 మరియు 8 అయినట్లైతే, దత్తాంశం మధ్యగతం:

(అనుభావిక సూత్రాన్ని ఉపయోగించండి.)

**Options :**

1. ✘ 16

2. ✘ 19

3. ✘ 20

4. ✔ 18

**Question Number : 147 Question Id : 630680318050 Is Question Mandatory : No Calculator : None Response Time : N.A Think Time : N.A Minimum Instruction Time : 0**

**Correct Marks : 1 Wrong Marks : 0.33**

13, 12, 18, 15, 16, 21, మరియు 28 దత్తాంశం యొక్క మధ్యగతం:

**Options :**

1. ✖ 15

2. ✔ 16

3. ✖ 18

4. ✖ 20

**Question Number : 147 Question Id : 630680318050 Is Question Mandatory : No Calculator : None Response Time : N.A Think Time : N.A Minimum Instruction Time : 0**

**Correct Marks : 1 Wrong Marks : 0.33**

The median of the data 13, 12, 18, 15, 16, 21, and 28, is:

**Options :**

1. ✖ 15

2. ✔ 16

3. ✖ 18

4. ✖ 20

**Question Number : 148 Question Id : 630680318051 Is Question Mandatory : No Calculator : None Response Time : N.A Think Time : N.A Minimum Instruction Time : 0**

**Correct Marks : 1 Wrong Marks : 0.33**

The mode of the data 23, 15, 26, 25, 15, 16, 18, 24, 15, 23, and 25, is:

**Options :**

1. ✖ 23

2. ✖ 18

3. ✓ 15

4. ✗ 16

**Question Number : 148 Question Id : 630680318051 Is Question Mandatory : No Calculator : None Response Time : N.A Think Time : N.A Minimum Instruction Time : 0**

**Correct Marks : 1 Wrong Marks : 0.33**

23, 15, 26, 25, 15, 16, 18, 24, 15, 23, మరియు 25 దత్తాంశం యొక్క బహుళకం:

**Options :**

1. ✗ 23

2. ✗ 18

3. ✓ 15

4. ✗ 16

**Question Number : 149 Question Id : 630680318052 Is Question Mandatory : No Calculator : None Response Time : N.A Think Time : N.A Minimum Instruction Time : 0**

**Correct Marks : 1 Wrong Marks : 0.33**

ఒక ఆసుపత్రిలో, 12 మంది వైద్యులు మరియు 8 మంది నర్సుల సగటు జీతం ₹89,480. ఒకవేళ వైద్యుల సగటు జీతం ₹93,500 అయితే, నర్సుల సగటు జీతం:

**Options :**

1. ✗ ₹83,540

2. ✗ ₹84,530

3. ✘ ₹84,350

4. ✔ ₹83,450

**Question Number : 149 Question Id : 630680318052 Is Question Mandatory : No Calculator : None Response Time : N.A Think Time : N.A Minimum Instruction Time : 0**

**Correct Marks : 1 Wrong Marks : 0.33**

In a hospital, the average salary of 12 doctors and 8 nurses is ₹89,480. If the average salary of the doctors is ₹93,500, the average salary of the nurses is:

**Options :**

1. ✘ ₹83,540

2. ✘ ₹84,530

3. ✘ ₹84,350

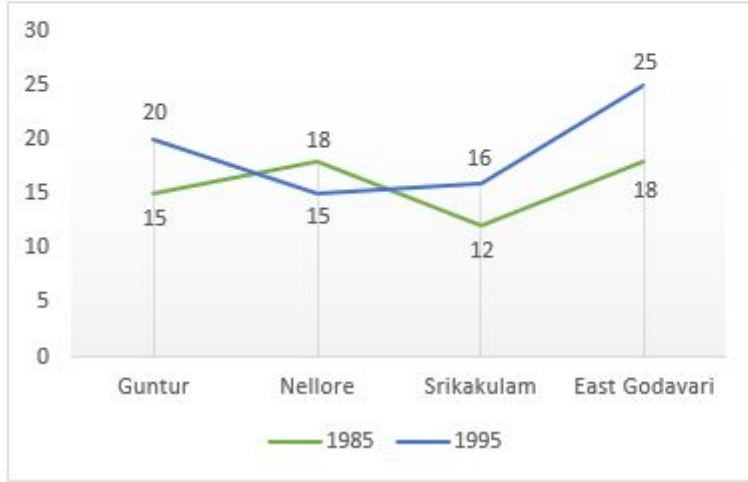
4. ✔ ₹83,450

**Question Number : 150 Question Id : 630680318053 Is Question Mandatory : No Calculator : None Response Time : N.A Think Time : N.A Minimum Instruction Time : 0**

**Correct Marks : 1 Wrong Marks : 0.33**



1985 మరియు 1995 సంవత్సరాల్లో నాలుగు వేర్వేరు జిల్లాల్లో పంట దిగుబడిని కింది గ్రాఫ్ చూపిస్తుంది. ఇచ్చిన సంవత్సరాల్లో శ్రీకాకుళంలో పంట దిగుబడి పెరుగుదల శాతానికి, తూర్పు గోదావరిలో పంట దిగుబడి పెరుగుదల శాతానికి పెరుగుదల శాతం నిష్పత్తిని కనుగొనండి.

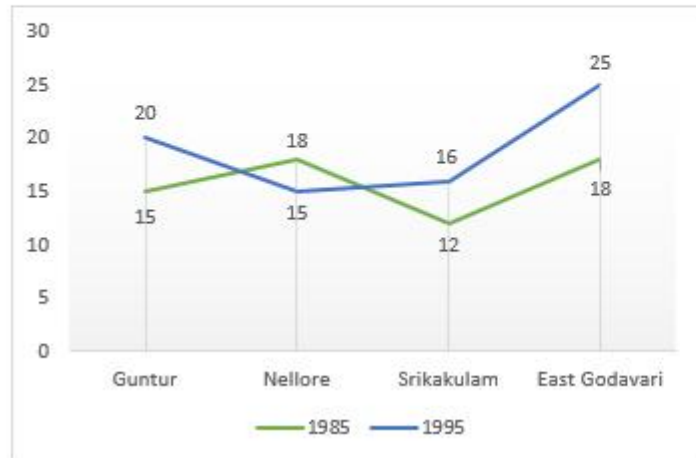


Options :

1. ✓ 6 : 7
2. ✘ 7 : 6
3. ✘ 4 : 5
4. ✘ 5 : 4

Question Number : 150 Question Id : 630680318053 Is Question Mandatory : No Calculator : None Response Time : N.A Think Time : N.A Minimum Instruction Time : 0 Correct Marks : 1 Wrong Marks : 0.33

Following graph shows that the yield of crop in four different districts in the years 1985 and 1995. Find the ratio of percentage increase in yield of crop in Srikakulam to the percentage increase of yield of crop in East Godavari for the given years.



Options :

1. ✓ 6 : 7
2. ✗ 7 : 6
3. ✗ 4 : 5
4. ✗ 5 : 4